

KAZ-4 C-0 C-1

**KAZ-4 C-0 C**  
Sanzhar Bissenali

**IChO**  
**General instructions**  
**Cover sheet**

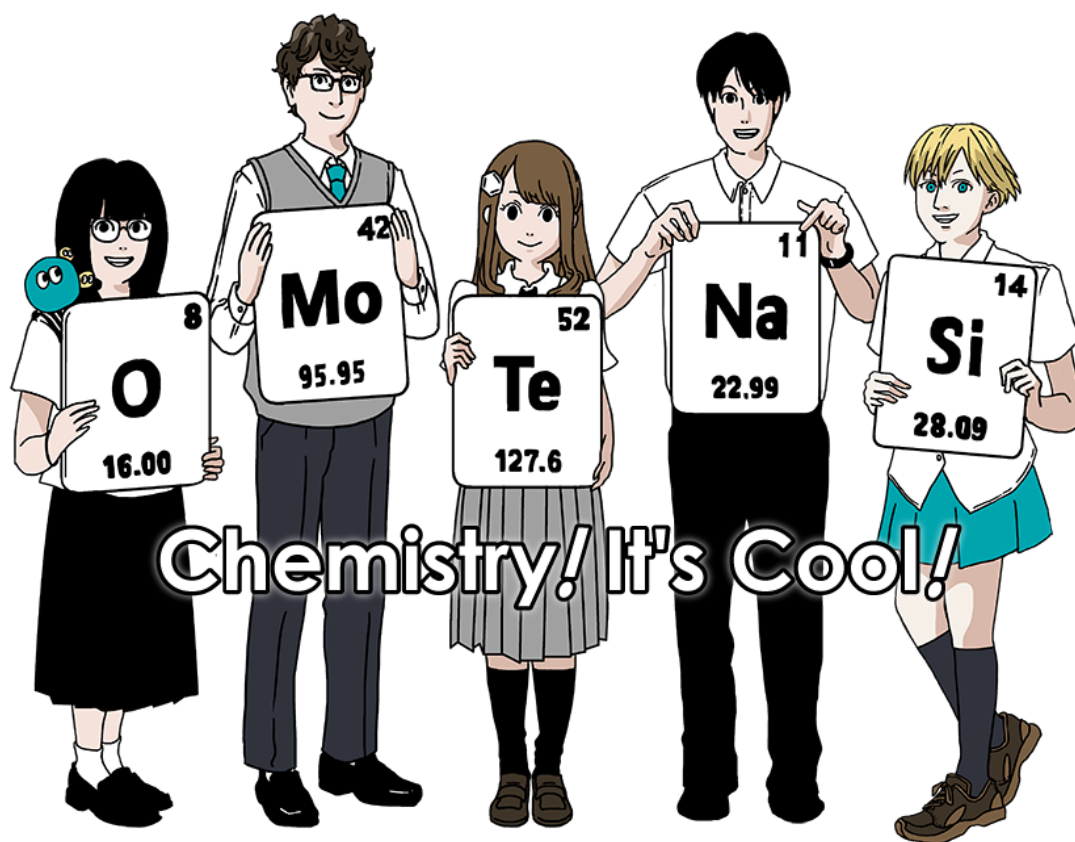
Please return this cover sheet together with all the related question sheets.

International Chemistry Olympiad 2021 Japan

53rd IChO2021 Japan

25th July - 2nd August, 2021

<https://www.icho2021.org>





KAZ-4 C-0 G-2

# G0-2

English (Official)

## General Instruction

- You are allowed to use only pen to write the answer.
- Your calculator must be non-programmable.
- This examination has **9 problems**.
- You can solve the problems in any order.
- You will have **5 hours** to solve all problems.
- You can **begin** working only after the **START** command is given.
- All results must be written in the appropriate answer boxes with pen on the **answer sheets**. Use the back of the question sheets if you need scratch paper. Remember that answers written outside the answer boxes will not be graded.
- Write relevant calculations in the appropriate boxes when necessary. Full marks will be given for correct answers only when your work is shown.
- The invigilator will announce a **30-minute** warning before the **STOP** command.
- You **must stop** working when the **STOP** command is given. Failure to stop writing will lead to the nullification of your examination.
- The official English version of this examination is available on request only for clarification.
- You are not allowed to leave your working place without permission. If you need any assistance (broken calculator, need to visit a restroom, etc), raise your hand and wait until an invigilator arrives.

**GOOD LUCK!**

## Problems and Grading Information

	<b>Title</b>	<b>Total Score</b>	<b>Percentage</b>
<b>1</b>	Hydrogen at a Metal Surface	<b>24</b>	<b>11</b>
<b>2</b>	Isotope Time Capsule	<b>35</b>	<b>11</b>
<b>3</b>	Lambert–Beer Law?	<b>22</b>	<b>8</b>
<b>4</b>	The Redox Chemistry of Zinc	<b>32</b>	<b>11</b>
<b>5</b>	Mysterious Silicon	<b>60</b>	<b>12</b>
<b>6</b>	The Solid-State Chemistry of Transition Metals	<b>45</b>	<b>13</b>
<b>7</b>	Playing with Non-benzenoid Aromaticity	<b>36</b>	<b>13</b>
<b>8</b>	Dynamic Organic Molecules and Their Chirality	<b>26</b>	<b>11</b>
<b>9</b>	Likes and Dislikes of Capsules	<b>23</b>	<b>10</b>
		<b>Total</b>	<b>100</b>



## Physical Constants and Equations

### Constants

Speed of light in vacuum	$c = 2.99792458 \times 10^8 \text{ m s}^{-1}$
Planck constant	$h = 6.62607015 \times 10^{-34} \text{ J s}$
Elementary charge	$e = 1.602176634 \times 10^{-19} \text{ C}$
Electron mass	$m_e = 9.10938370 \times 10^{-31} \text{ kg}$
Electric constant (permittivity of vacuum)	$\epsilon_0 = 8.85418781 \times 10^{-12} \text{ F m}^{-1}$
Avogadro constant	$N_A = 6.02214076 \times 10^{23} \text{ mol}^{-1}$
Boltzmann constant	$k_B = 1.380649 \times 10^{-23} \text{ J K}^{-1}$
Faraday constant	$F = N_A \times e = 9.64853321233100184 \times 10^4 \text{ C mol}^{-1}$
Gas constant	$R = N_A \times k_B = 8.31446261815324 \text{ J K}^{-1} \text{ mol}^{-1}$ $= 8.2057366081 \times 10^{-2} \text{ L atm K}^{-1} \text{ mol}^{-1}$
Unified atomic mass unit	$u = 1 \text{ Da} = 1.66053907 \times 10^{-27} \text{ kg}$
Standard pressure	$p = 1 \text{ bar} = 10^5 \text{ Pa}$
Atmospheric pressure	$p_{\text{atm}} = 1.01325 \times 10^5 \text{ Pa}$
Zero degree Celsius	$0^\circ \text{C} = 273.15 \text{ K}$
Ångstrom	$1 \text{ Å} = 10^{-10} \text{ m}$
Picometer	$1 \text{ pm} = 10^{-12} \text{ m}$
Electronvolt	$1 \text{ eV} = 1.602176634 \times 10^{-19} \text{ J}$
Part-per-million	$1 \text{ ppm} = 10^{-6}$
Part-per-billion	$1 \text{ ppb} = 10^{-9}$
Part-per-trillion	$1 \text{ ppt} = 10^{-12}$
pi	$\pi = 3.141592653589793$
The base of the natural logarithm (Euler's number)	$e = 2.718281828459045$

## Equations

The ideal gas law	$PV = nRT$ , where $P$ is the pressure, $V$ is the volume, $n$ is the amount of substance, $T$ is the absolute temperature of ideal gas.
Coulomb's law	$F = k_e \frac{q_1 q_2}{r^2}$ , where $F$ is the electrostatic force, $k_e (\approx 9.0 \times 10^9 \text{ N m}^2 \text{ C}^{-2})$ is Coulomb's constant, $q_1$ and $q_2$ are the magnitudes of the charges, and $r$ is the distance between the charges.
The first law of thermodynamics	$\Delta U = q + w$ , where $\Delta U$ is the change in the internal energy, $q$ is the heat supplied, $w$ is the work done.
Enthalpy $H$	$H = U + PV$
Entropy based on Boltzmann's principle $S$	$S = k_B \ln W$ , where $W$ is the number of microstates.
The change of entropy $\Delta S$	$\Delta S = \frac{q_{\text{rev}}}{T}$ , where $q_{\text{rev}}$ is the heat for the reversible process.
Gibbs free energy $G$	$G = H - TS$ $\Delta_r G^\circ = -RT \ln K = -zFE^\circ$ , where $K$ is the equilibrium constant, $z$ is the number of electrons, $E^\circ$ is the standard electrode potential.
Reaction quotient $Q$	$\Delta_r G = \Delta_r G^\circ + RT \ln Q$ For a reaction $aA + bB \rightleftharpoons cC + dD$ $Q = \frac{[C]^c [D]^d}{[A]^a [B]^b}$ , where $[A]$ is the concentration of A.

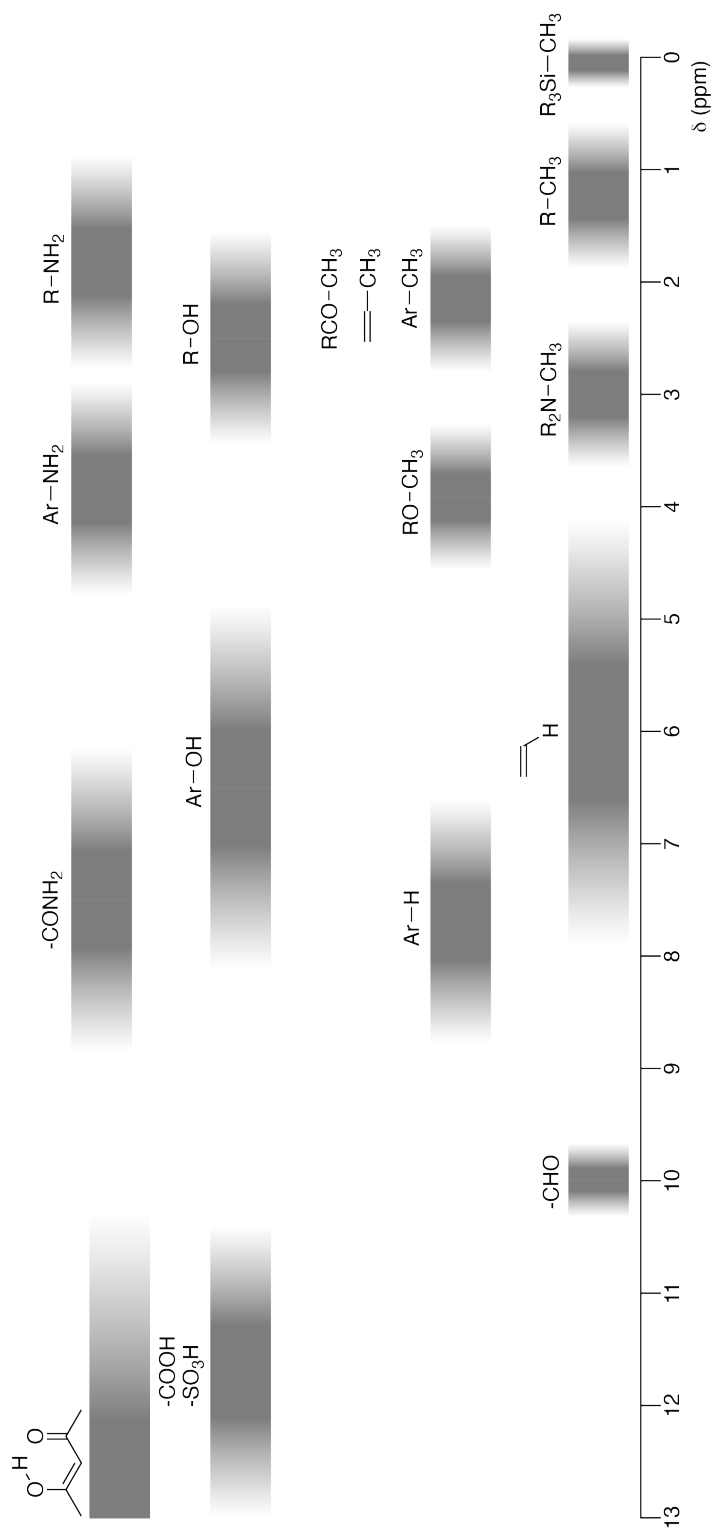
Heat change $\Delta q$	$\Delta q = nc_m \Delta T$ , where $c_m$ is the temperature-independent molar heat capacity.
Nernst equation for redox reaction	$E = E^\circ + \frac{RT}{zF} \ln \frac{C_{\text{ox}}}{C_{\text{red}}}$ , where $C_{\text{ox}}$ is the concentration of oxidized substance, $C_{\text{red}}$ is the concentration of reduced substance.
Arrhenius equation	$k = A \exp\left(-\frac{E_a}{RT}\right)$ , where $k$ is the rate constant, $A$ is the pre-exponential factor, $E_a$ is the activation energy. $\exp(x) = e^x$
Lambert-Beer equation	$A = \varepsilon lc$ , where $A$ is the absorbance, $\varepsilon$ is the molar absorption coefficient, $l$ is the optical path length, $c$ is the concentration of the solution.
Henderson-Hasselbalch equation	For an equilibrium $\text{HA} \rightleftharpoons \text{H}^+ + \text{A}^-$ , where equilibrium constant is $K_a$ , $\text{pH} = \text{p}K_a + \log\left(\frac{[\text{A}^-]}{[\text{HA}]}\right)$
Energy of a photon	$E = h\nu = h\frac{c}{\lambda}$ , where $\nu$ is the frequency, $\lambda$ is the wavelength of the light.
The sum of a geometric series	When $x \neq 1$ , $1 + x + x^2 + \dots + x^n = \sum_{i=0}^n x^i = \frac{1 - x^{n+1}}{1 - x}$
Approximation equation that can be used to solve problems	When $x \ll 1$ , $\frac{1}{1 - x} \simeq 1 + x$

## Periodic Table

1	2	3	4	5	6	7	8	9	10	11	12	13	14	15	16	17	18
1 H Hydrogen 1.008																	2 He Helium 4.003
3 Li Lithium 6.968	4 Be Beryllium 9.012															9 F Fluorine 18.998	10 Ne Neon 20.180
11 Na Sodium 22.990	12 Mg Magnesium 24.306															17 Cl Chlorine 35.452	18 Ar Argon 39.948
19 K Potassium 39.098	20 Ca Calcium 40.078	21 Sc Scandium 44.956	22 Ti Titanium 47.867	23 V Vanadium 50.942	24 Cr Chromium 51.996	25 Mn Manganese 54.938	26 Fe Iron 55.845	27 Co Cobalt 58.933	28 Ni Nickel 58.693	29 Cu Copper 63.546	30 Zn Zinc 65.38	31 Ga Gallium 69.723	32 Ge Germanium 72.630	33 As Arsenic 74.922	34 Se Selenium 78.971	35 Br Bromine 79.904	36 Kr Krypton 83.798
37 Rb Rubidium 85.468	38 Sr Strontium 87.62	39 Y Yttrium 88.906	40 Zr Zirconium 91.224	41 Nb Niobium 92.906	42 Mo Molybdenum 95.95	43 Tc Technetium [99]	44 Ru Ruthenium 101.07	45 Rh Rhodium 102.906	46 Pd Palladium 106.42	47 Ag Silver 107.868	48 Cd Cadmium 112.414	49 In Indium 114.818	50 Sn Tin 118.710	51 Sb Antimony 121.760	52 Te Tellurium 127.60	53 I Iodine 126.904	54 Xe Xenon 131.293
55 Cs Caesium 132.905	56 Ba Barium 137.327	57-71 La-Lu Lanthanoids	72 Hf Hafnium 178.49	73 Ta Tantalum 180.948	74 W Tungsten 183.84	75 Re Rhenium 186.207	76 Os Osmium 190.23	77 Ir Iridium 192.217	78 Pt Platinum 195.084	79 Au Gold 196.967	80 Hg Mercury 200.592	81 Tl Thallium 204.384	82 Pb Lead 207.2	83 Bi Bismuth 208.98	84 Po Polonium [210]	85 At Astatine [210]	86 Rn Radon [222]
87 Fr Francium [223]	88 Ra Radium [226]	89-103 Ac-Lr Actinoids	104 Rf Rutherfordium [267]	105 Db Dubnium [268]	106 Sg Seaborgium [271]	107 Bh Bohrium [272]	108 Hs Hassium [277]	109 Mt Meitnerium [276]	110 Ds Darmstadtium [281]	111 Rg Roentgenium [280]	112 Cn Copernicium [285]	113 Nh Nihonium [278]	114 Fl Flerovium [289]	115 Mc Moscovium [289]	116 Lv Livermorium [293]	117 Ts Tennessine [293]	118 Og Oganesson [294]
57-71 La-Lu Lanthanoids		57 La Lanthanum 138.905	58 Ce Cerium 140.116	59 Pr Praseodymium 140.908	60 Nd Neodymium 144.242	61 Pm Promethium [145]	62 Sm Samarium 150.36	63 Eu Europium 151.964	64 Gd Gadolinium 157.25	65 Tb Terbium 158.925	66 Dy Dysprosium 162.500	67 Ho Holmium 164.930	68 Er Erbium 167.259	69 Tm Thulium 168.934	70 Yb Ytterbium 173.045	71 Lu Lutetium 174.967	
89-103 Ac-Lr Actinoids		89 Ac Actinium [227]	90 Th Thorium 232.038	91 Pa Protactinium 231.036	92 U Uranium 238.029	93 Np Neptunium [237]	94 Pu Plutonium [239]	95 Am Americium [243]	96 Cm Curium [247]	97 Bk Berkelium [247]	98 Cf Californium [252]	99 Es Einsteinium [252]	100 Fm Fermium [257]	101 Md Mendelevium [258]	102 No Nobelium [259]	103 Lr Lawrencium [262]	

Key:  
 113  
 Nh  
 Nihonium  
 [278]  
 atomic number  
 Symbol  
 name  
 atomic weight [in parenthesis for the radioactive element]

**<sup>1</sup>H NMR Chemical Shifts**



$\Delta\delta$  for one alkyl group-substitution: *ca.* +0.4 ppm





KAZ-4 C-0 G-1

# G0-1

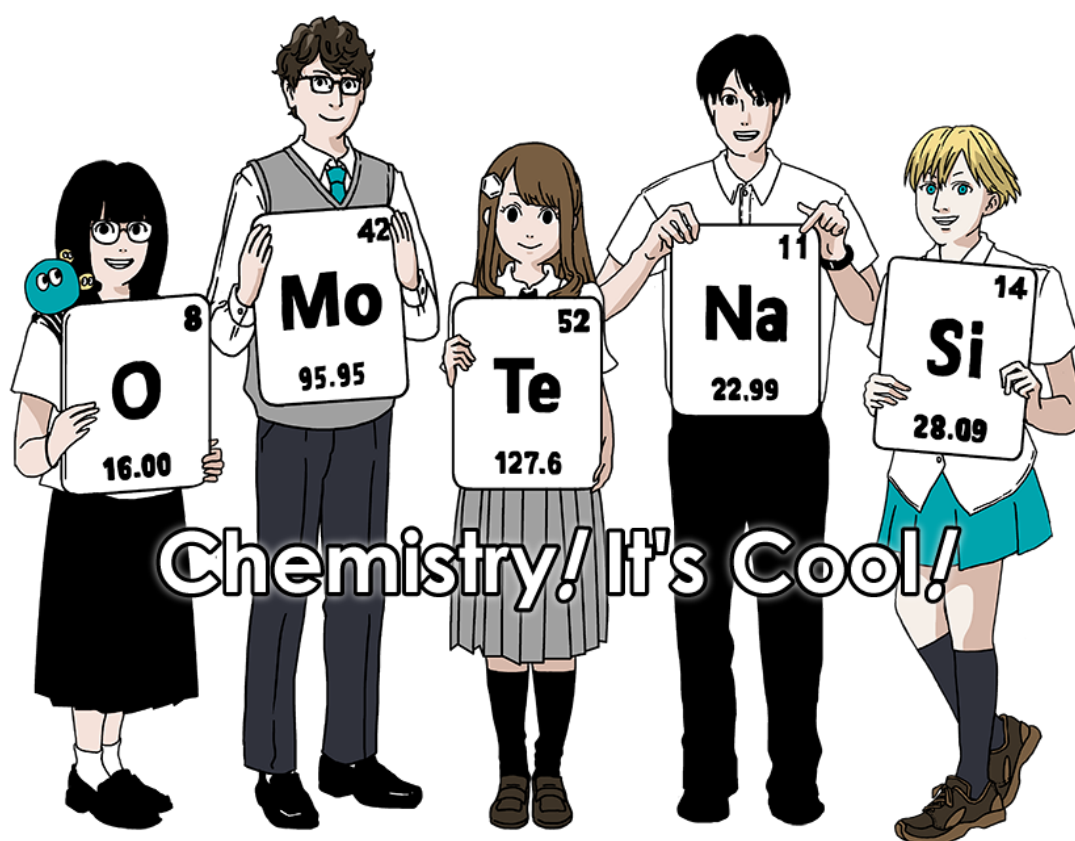
Kazakhstani Russian (Kazakhstan)

Международная химическая олимпиада 2021 Япония

53 МХО 2021 Япония

25 июля - 2 августа 2021

<https://www.icho2021.org>





KAZ-4 C-0 G-2

# G0-2

Kazakhstani Russian (Kazakhstan)

## Общие указания

- Записывать ответы можно только ручкой.
- Можно использовать только непрограммируемый калькулятор.
- Комплект состоит из **9 задач**.
- Решать задачи можно в любом порядке.
- Вам дается **5 часов** на решение всех задач.
- **Начинайте** работу только после команды **СТАРТ**.
- Все результаты должны быть записаны ручкой в соответствующих полях листов ответа. Для черновиков используйте обратную сторону листов с заданиями. Помните, что ответы, записанные за пределами отведенных для них мест, не будут оценены.
- Записывайте все вычисления. Полный балл за расчетные вопросы дается только, если правильный ответ подтвержден расчетами.
- Официальный наблюдатель предупредит Вас за **30 минут** до окончания тура.
- Когда прозвучит команда **СТОП**, Вы должны **прекратить** работу. Невыполнение этого требования приведет к дисквалификации.
- Если Вам что-то неясно в переводе, Вы можете попросить официальную английскую версию заданий.
- Нельзя покидать свое рабочее место без разрешения. Если Вам потребуется помощь (сломался калькулятор, нужно в туалет и т.п.), поднимите руку и подождите, пока к Вам не подойдет официальный наблюдатель.

**УДАЧИ!**

## Задачи и баллы

	Название	Общие баллы	Вес (%)
1	Водород на поверхности металла	24	11
2	Изотопы в природе	35	11
3	Закон Бугера-Ламберта-Бера?	22	8
4	Редокс-химия цинка	32	11
5	Загадочный кремний	60	12
6	Химия твердых соединений переходных металлов	45	13
7	Ароматичность небензоидного типа	36	13
8	Динамические органические молекулы и их хиральность	26	11
9	Что капсулы любят, а что нет	23	10
		<b>Всего</b>	<b>100</b>



KAZ-4 C-0 G-3

**G0-3**

Kazakhstani Russian (Kazakhstan)

**Физические константы, единицы и уравнения****Константы и единицы**

Скорость света в вакууме	$c = 2.99792458 \times 10^8 \text{ м с}^{-1}$
Постоянная Планка	$h = 6.62607015 \times 10^{-34} \text{ Дж с}$
Элементарный заряд	$e = 1.602176634 \times 10^{-19} \text{ Кл}$
Масса электрона	$m_e = 9.10938370 \times 10^{-31} \text{ кг}$
Диэлектрическая константа (диэлектрическая проницаемость вакуума)	$\varepsilon_0 = 8.85418781 \times 10^{-12} \text{ Ф м}^{-1}$
Постоянная Авогадро	$N_A = 6.02214076 \times 10^{23} \text{ моль}^{-1}$
Постоянная Больцмана	$k_B = 1.380649 \times 10^{-23} \text{ Дж К}^{-1}$
Постоянная Фарадея	$F = N_A \times e = 9.64853321233100184 \times 10^4 \text{ Кл моль}^{-1}$
Универсальная газовая постоянная	$R = N_A \times k_B = 8.31446261815324 \text{ Дж К}^{-1} \text{ моль}^{-1}$ $= 8.2057366081 \times 10^{-2} \text{ л атм К}^{-1} \text{ моль}^{-1}$
Атомная единица массы	$u = 1 \text{ Да} = 1.66053907 \times 10^{-27} \text{ кг}$
Стандартное давление	$p = 1 \text{ бар} = 10^5 \text{ Па}$
Нормальное атмосферное давление	$p_{\text{атм}} = 1.01325 \times 10^5 \text{ Па}$
Ноль градусов Цельсия	$0^\circ \text{C} = 273.15 \text{ К}$
Ангстрем	$1 \text{ \AA} = 10^{-10} \text{ м}$
Пикометр	$1 \text{ пм} = 10^{-12} \text{ м}$
Электронвольт	$1 \text{ эВ} = 1.602176634 \times 10^{-19} \text{ Дж}$
Миллионная доля	$1 \text{ ppm(м.д.)} = 10^{-6}$
Миллиардная доля	$1 \text{ ppb} = 10^{-9}$
Триллионная доля	$1 \text{ ppt} = 10^{-12}$
Число "пи"	$\pi = 3.141592653589793$
Основание натуральных логарифмов (число Эйлера)	$e = 2.718281828459045$

## Уравнения

Уравнение идеального газа	$PV = nRT$ где $P$ - давление, $V$ - объем, $n$ - число молей, $T$ - абсолютная температура идеального газа.
Закон Кулона	$F = k_e \frac{q_1 q_2}{r^2}$ где $F$ - сила электростатического взаимодействия, $k_e (\approx 9.0 \times 10^9 \text{ Н м}^2 \text{ Кл}^{-2})$ - постоянная Кулона, $q_1$ и $q_2$ - величины зарядов, $r$ - расстояние между зарядами.
Первый закон термодинамики	$\Delta U = q + w$ где $\Delta U$ - изменение внутренней энергии, $q$ - теплота, $w$ - работа.
Энтальпия $H$	$H = U + PV$
Формула Больцмана для энтропии $S$	$S = k_B \ln W$ где $W$ - число микросостояний.
Изменение энтропии $\Delta S$	$\Delta S = \frac{q_{\text{обр}}}{T}$ где $q_{\text{обр}}$ - теплота обратимого процесса.
Энергия Гиббса $G$	$G = H - TS$ $\Delta_r G^\circ = -RT \ln K = -zFE^\circ$ где $K$ - константа равновесия, $z$ - число электронов, $E^\circ$ - стандартная ЭДС.
Реакционное отношение $Q$	$\Delta_r G = \Delta_r G^\circ + RT \ln Q$ для реакции $aA + bB \rightleftharpoons cC + dD$ $Q = \frac{[C]^c [D]^d}{[A]^a [B]^b}$ где $[A]$ - молярная концентрация А.



KAZ-4 C-0 G-5

**G0-5**

Kazakhstani Russian (Kazakhstan)

---

Теплота $\Delta q$		$\Delta q = nc_m \Delta T$ где $c_m$ - молярная теплоемкость, не зависящая от температуры.
Уравнение Нернста для ОВР		$E = E^\circ + \frac{RT}{zF} \ln \frac{C_{\text{ox}}}{C_{\text{red}}}$ где $C_{\text{ox}}$ - концентрация окисленной формы, $C_{\text{red}}$ - концентрация восстановленной формы.
Уравнение Аррениуса		$k = A \exp\left(-\frac{E_a}{RT}\right)$ где $k$ - константа скорости, $A$ - предэкспоненциальный множитель, $E_a$ - энергия активации. $\exp(x) = e^x$
Уравнение Бугера-Ламберта-Бера		$A = \varepsilon lc$ где $A$ - поглощение, $\varepsilon$ - молярный коэффициент поглощения, $l$ - длина оптического пути, $c$ - молярная концентрация вещества в растворе.
Уравнение Гендерсона-Хассельбальха		Для равновесия $\text{HA} \rightleftharpoons \text{H}^+ + \text{A}^-$ с константой кислотности $K_a$ , $\text{pH} = \text{p}K_a + \log\left(\frac{[\text{A}^-]}{[\text{HA}]}\right)$
Энергия фотона		$E = h\nu = h\frac{c}{\lambda}$ где $\nu$ - частота, $\lambda$ - длина волны света.
Сумма геометрической прогрессии		При $x \neq 1$ , $1 + x + x^2 + \dots + x^n = \sum_{i=0}^n x^i = \frac{1 - x^{n+1}}{1 - x}$
Приближенные формулы		При $x \ll 1$ , $\frac{1}{1 - x} \simeq 1 + x$

---

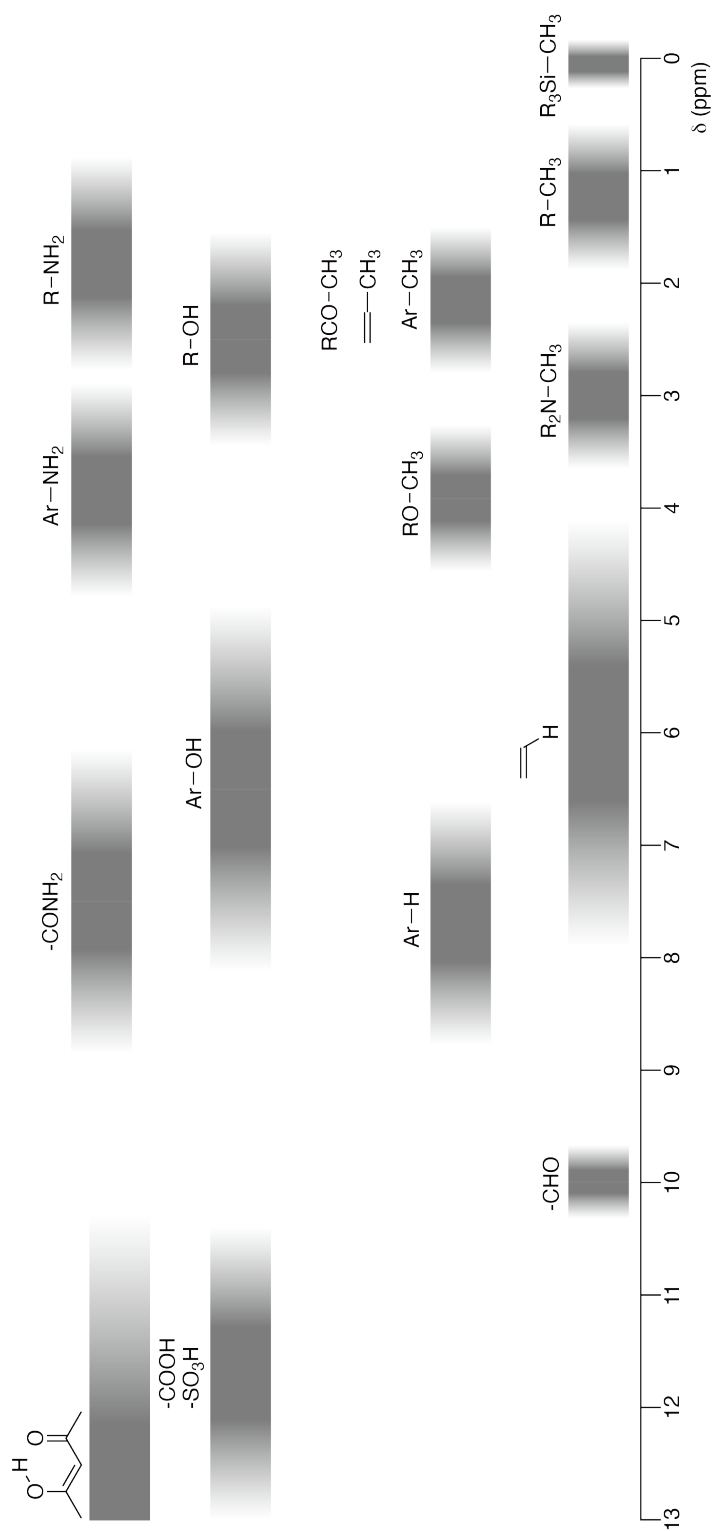
Периодическая система

		1	2	3	4	5	6	7	8	9	10	11	12	13	14	15	16	17	18	
	1	H Hydrogen 1.008																		
	2																			
	3	Li Lithium 6.968	4 Be Beryllium 9.012																	
	11	Na Sodium 22.990	12 Mg Magnesium 24.306																	
	19	K Potassium 39.098	20 Ca Calcium 40.078	21 Sc Scandium 44.956	22 Ti Titanium 47.867	23 V Vanadium 50.942	24 Cr Chromium 51.996	25 Mn Manganese 54.938	26 Fe Iron 55.845	27 Co Cobalt 58.933	28 Ni Nickel 58.693	29 Cu Copper 63.546	30 Zn Zinc 65.38	31 Ga Gallium 69.723	32 Ge Germanium 72.630	33 As Arsenic 74.922	34 Se Selenium 78.971	35 Br Bromine 79.904	36 Kr Krypton 83.798	
	37	Rb Rubidium 85.468	38 Sr Strontium 87.62	39 Y Yttrium 88.906	40 Zr Zirconium 91.224	41 Nb Niobium 92.906	42 Mo Molybdenum 95.95	43 Tc Technetium [99]	44 Ru Ruthenium 101.07	45 Rh Rhodium 102.906	46 Pd Palladium 106.42	47 Ag Silver 107.868	48 Cd Cadmium 112.414	49 In Indium 114.818	50 Sn Tin 118.710	51 Sb Antimony 121.760	52 Te Tellurium 127.60	53 I Iodine 126.904	54 Xe Xenon 131.293	
	55	Cs Caesium 132.905	56 Ba Barium 137.327	57-71 La-Lu Lanthanoids	72 Hf Hafnium 178.49	73 Ta Tantalum 180.948	74 W Tungsten 183.84	75 Re Rhenium 186.207	76 Os Osmium 190.23	77 Ir Iridium 192.217	78 Pt Platinum 195.084	79 Au Gold 196.967	80 Hg Mercury 200.592	81 Tl Thallium 204.384	82 Pb Lead 207.2	83 Bi Bismuth 208.98	84 Po Polonium [210]	85 At Astatine [210]	86 Rn Radon [222]	
	87	Fr Francium [223]	88 Ra Radium [226]	89-103 Ac-Lr Actinoids	104 Rf Rutherfordium [267]	105 Db Dubnium [268]	106 Sg Seaborgium [271]	107 Bh Bohrium [272]	108 Hs Hassium [277]	109 Mt Meitnerium [276]	110 Ds Darmstadtium [281]	111 Rg Roentgenium [280]	112 Cn Copernicium [285]	113 Nh Nihonium [289]	114 Fl Flerovium [289]	115 Mc Moscovium [289]	116 Lv Livermorium [293]	117 Ts Tennessine [293]	118 Og Oganesson [294]	
	89-103	La-Lu Lanthanoids	104	105	106	107	108	109	110	111	112	113	114	115	116	117	118	119	120	
	57	La Lanthanum 138.905	58 Ce Cerium 140.116	59 Pr Praseodymium 140.908	60 Nd Neodymium 144.242	61 Pm Promethium [145]	62 Sm Samarium 150.36	63 Eu Europium 151.964	64 Gd Gadolinium 157.25	65 Tb Terbium 158.925	66 Dy Dysprosium 162.500	67 Ho Holmium 164.930	68 Er Erbium 167.259	69 Tm Thulium 168.934	70 Yb Ytterbium 173.045	71 Lu Lutetium 174.967	72	73	74	75
	89-103	Ac-Lr Actinoids	90	91	92	93	94	95	96	97	98	99	100	101	102	103	104	105	106	107
	89	Ac Actinium [227]	90 Th Thorium 232.038	91 Pa Protactinium 231.036	92 U Uranium 238.029	93 Np Neptunium [237]	94 Pu Plutonium [239]	95 Am Americium [243]	96 Cm Curium [247]	97 Bk Berkelium [247]	98 Cf Californium [252]	99 Es Einsteinium [252]	100 Fm Fermium [257]	101 Md Mendelevium [258]	102 No Nobelium [259]	103 Lr Lawrencium [262]	104	105	106	107

Key:

113	Nh	atomic number
	Symbol	
	name	
	atomic weight	(in parenthesis for the radioactive element)

**<sup>1</sup>H ЯМР химсдвиги**





KAZ-4 C-0 G-8

**G0-8**  
Kazakhstani Russian (Kazakhstan)

---

$\Delta\delta$  при введении одной алкильной группы: *прибл.* +0.4 м.д.



KAZ-4 C-1 C-1


**KAZ-4 C-1 C**  
Sanzhar Bissenali

**IChO**  
**Problem 1**  
**Cover sheet**

Please return this cover sheet together with all the related question sheets.

## Hydrogen at a Metal Surface

11 % of the total							
Question	A.1	A.2	B.1	B.2	B.3	B.4	Total
Points	6	4	5	3	3	3	<b>24</b>
Score							



Hydrogen is expected to be a future energy source that does not depend on fossil fuels. Here, we will consider the hydrogen-storage process in a metal, which is related to hydrogen-transport and -storage technology.

### Part A

As hydrogen is absorbed into the bulk of a metal via its surface, let us first consider the adsorption process of hydrogen at the metal surface,  $\text{H}_2(\text{g}) \rightarrow 2\text{H}(\text{ad})$ , where the gaseous and adsorbed states of hydrogen are represented as (g) and (ad), respectively. Hydrogen molecules ( $\text{H}_2$ ) that reach the metal surface (M) dissociate at the surface and are adsorbed as H atoms (Fig. 1). Here, the potential energy of  $\text{H}_2$  is represented by two variables: the interatomic distance,  $d$ , and the height relative to the surface metal atom,  $z$ . It is assumed that the axis along the two H atoms is parallel to the surface and that the center of gravity is always on the vertical dotted line in Fig. 1. Fig. 2 shows the potential energy contour plot for the dissociation at the surface. The numerical values represent the potential energy in units of kJ per mole of  $\text{H}_2$ . The solid line spacing is  $20 \text{ kJ mol}^{-1}$ , the dashed line spacing is  $100 \text{ kJ mol}^{-1}$ , and the spacing between solid and dashed lines is  $80 \text{ kJ mol}^{-1}$ . The zero-point vibration energy is ignored.

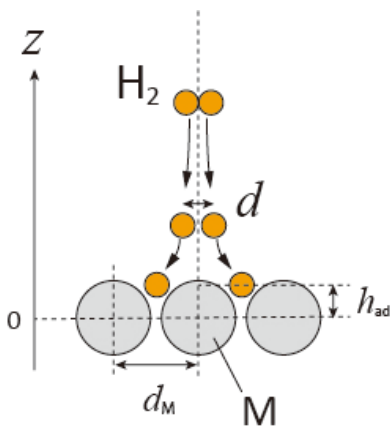


Fig.1 Definition of variables. Drawing is not in scale.

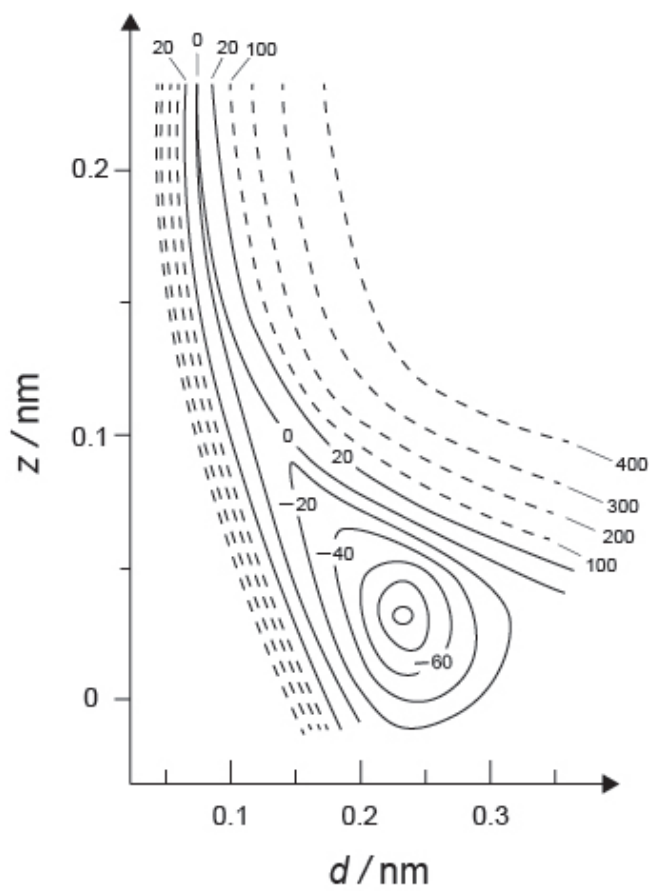


Fig.2

- A.1** For each of the following items (i)–(iii), **select** the closest value from A–G. 6pt
- (i) The interatomic distance for a gaseous  $\text{H}_2$  molecule
  - (ii) The interatomic distance between metal atoms ( $d_M$  in Fig. 1)
  - (iii) The distance of adsorbed H atoms from the surface ( $h_{\text{ad}}$  in Fig. 1)

A. 0.03 nm	B. 0.07 nm	C. 0.11 nm	D. 0.15 nm
E. 0.19 nm	F. 0.23 nm	G. 0.27 nm	

- A.2** For each of the following items (i)–(ii), **select** the closest value from A–H. 4pt
- (i) the energy required for the dissociation of gaseous  $\text{H}_2$  to gaseous H  
[ $\text{H}_2(\text{g}) \rightarrow 2\text{H}(\text{g})$ ]
  - (ii) the energy released during the adsorption of a gaseous  $\text{H}_2$  [ $\text{H}_2(\text{g}) \rightarrow 2\text{H}(\text{ad})$ ]

A. 20 $\text{kJ mol}^{-1}$	B. 40 $\text{kJ mol}^{-1}$	C. 60 $\text{kJ mol}^{-1}$	D. 100 $\text{kJ mol}^{-1}$
E. 150 $\text{kJ mol}^{-1}$	F. 200 $\text{kJ mol}^{-1}$	G. 300 $\text{kJ mol}^{-1}$	H. 400 $\text{kJ mol}^{-1}$

## Part B

The adsorbed hydrogen atoms are then either absorbed into the bulk, or recombine and desorb back into the gas phase, as shown in the reactions (1a) and (1b). H(ab) represents a hydrogen atom absorbed in the bulk.



The reaction rates per surface site for adsorption, desorption, and absorption are  $r_1[\text{s}^{-1}]$ ,  $r_2[\text{s}^{-1}]$  and  $r_3[\text{s}^{-1}]$ , respectively. They are expressed as:

$$r_1 = k_1 P_{\text{H}_2} (1 - \theta)^2 \quad (2)$$

$$r_2 = k_2 \theta^2 \quad (3)$$

$$r_3 = k_3 \theta \quad (4)$$

where  $k_1 [\text{s}^{-1} \text{Pa}^{-1}]$ ,  $k_2 [\text{s}^{-1}]$  and  $k_3 [\text{s}^{-1}]$  are the reaction rate constants and  $P_{\text{H}_2}$  is the pressure of  $\text{H}_2$ . Among the sites available on the surface,  $\theta$  ( $0 \leq \theta \leq 1$ ) is the fraction occupied by H atoms. It is assumed that adsorption and desorption are fast compared to absorption ( $r_1, r_2 \gg r_3$ ) and that  $\theta$  remains constant.

**B.1**  $r_3$  can be expressed as:

5pt

$$r_3 = \frac{k_3}{1 + \sqrt{\frac{1}{P_{\text{H}_2} C}}} \quad (5)$$

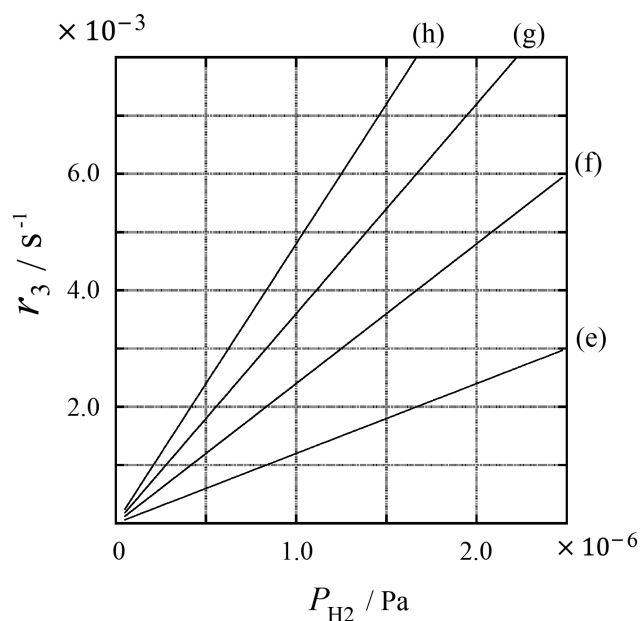
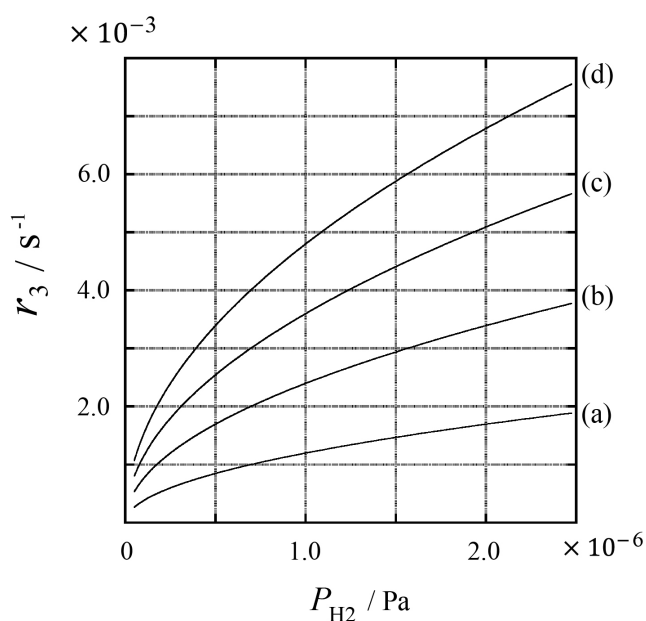
**Express**  $C$  using  $k_1$  and  $k_2$ .

A metal sample with a surface area of  $S = 1.0 \times 10^{-3} \text{ m}^2$  was placed in a container ( $1\text{L} = 1.0 \times 10^{-3} \text{ m}^3$ ) with  $\text{H}_2$  ( $P_{\text{H}_2} = 1.0 \times 10^2 \text{ Pa}$ ). The density of hydrogen-atom adsorption sites on the surface was  $N = 1.3 \times 10^{18} \text{ m}^{-2}$ . The surface temperature was kept at  $T = 400 \text{ K}$ . As the reaction (1) proceeded,  $P_{\text{H}_2}$  decreased at a constant rate of  $v = 4.0 \times 10^{-4} \text{ Pa s}^{-1}$ . Assume that  $\text{H}_2$  is an ideal gas and that the volume of the metal sample is negligible.

**B.2** Calculate the amount of H atoms in moles absorbed per unit area of the surface per unit time,  $A$  [ $\text{mol s}^{-1} \text{ m}^{-2}$ ]. 3pt


**B.3** At  $T = 400 \text{ K}$ ,  $C$  equals  $1.0 \times 10^2 \text{ Pa}^{-1}$ . Calculate the value of  $k_3$  at 400 K. If you did not obtain the answer to **B.2**, use  $A = 3.6 \times 10^{-7} \text{ mol s}^{-1} \text{ m}^{-2}$ . 3pt

**B.4** At a different  $T$ ,  $C = 2.5 \times 10^3 \text{ Pa}^{-1}$  and  $k_3 = 4.8 \times 10^{-2} \text{ s}^{-1}$  are given. For  $r_3$  as a function of  $P_{\text{H}_2}$  at this temperature, select the correct plot from (a)–(h). 3pt



## Водород на поверхности металла

Вес: 11%							
Вопрос	A.1	A.2	B.1	B.2	B.3	B.4	Всего
Очки	6	4	5	3	3	3	<b>24</b>
Оценка							



Водород - один из потенциальных источников энергии в будущем. Мы рассмотрим процесс поглощения водорода металлом, что может быть использовано в технологиях хранения и транспортировки топлива.

### Часть А

Водород поглощается объемом металла через поверхность металла. Рассмотрим процесс адсорбции водорода из газовой фазы на поверхность:  $\text{H}_2(\text{g}) \rightarrow 2\text{H}(\text{ad})$ . Молекулы водорода  $\text{H}_2$  диссоциируют на поверхности металла (М) и адсорбируются в виде атомов Н (Рис. 1). На рисунке потенциальная энергия  $\text{H}_2$  зависит от двух переменных: расстояния между ядрами в молекуле,  $d$ , и расстояния от молекулы до поверхности,  $z$ . Считаем, что молекула ориентирована строго параллельно поверхности, а центр тяжести молекулы в процессе адсорбции всегда находится на вертикальной прямой (пунктир на Рис. 1). На Рис. 2 показаны линии уровня потенциальной энергии в этих координатах. Значения энергии между соседними сплошными линиями различаются на  $20 \text{ кДж моль}^{-1}$ , а между соседними пунктирными линиями - на  $100 \text{ кДж моль}^{-1}$ , разность значений между сплошной и ближайшей пунктирной линией равна  $80 \text{ кДж моль}^{-1}$ . Нулевая колебательная энергия здесь не учитывается.

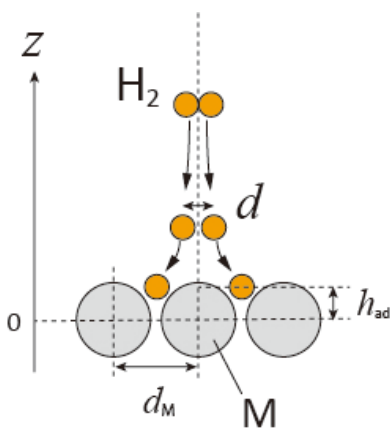


Рис.1. Определение координат (рисунок не для измерений)

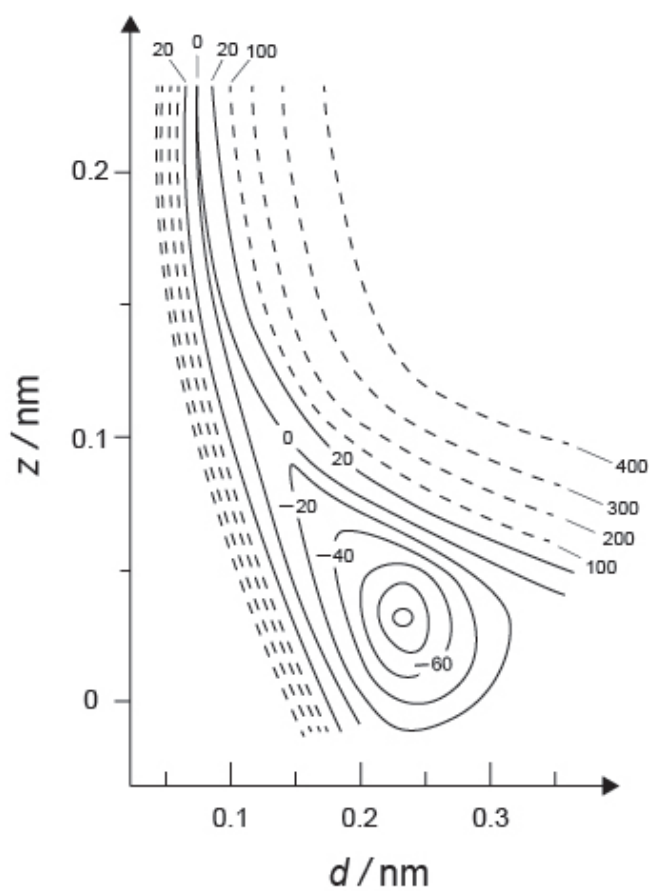


Рис. 2.



**A.1** Для каждого из приведенных ниже пунктов (i)-(iii) **выберите** самое близкое значение из A-G. 6pt

- (i) Равновесное межъядерное расстояние в молекуле  $H_2$  в газовой фазе  
(ii) Расстояние между центрами атомов металла ( $d_M$  на Рис. 1)  
(iii) Равновесное расстояние между атомами H на поверхности ( $h_{ad}$  на Рис. 1)

A. 0.03 нм B. 0.07 нм C. 0.11 нм D. 0.15 нм  
E. 0.19 нм F. 0.23 нм G. 0.27 нм

**A.2** Для каждого из приведённых ниже пунктов (i)-(ii) **выберите** самое близкое значение из A-H. 4pt

- (i) энергия, необходимая для диссоциации молекулы  $H_2$  на атомы H в газовой фазе  
[ $H_2(g) \rightarrow 2H(g)$ ]  
(ii) энергия, выделяющаяся в результате адсорбции  $H_2$  из газовой фазы  
[ $H_2(g) \rightarrow 2H(ad)$ ]

A. 20 кДж моль<sup>-1</sup> B. 40 кДж моль<sup>-1</sup> C. 60 кДж моль<sup>-1</sup> D. 100 кДж моль<sup>-1</sup>  
E. 150 кДж моль<sup>-1</sup> F. 200 кДж моль<sup>-1</sup> G. 300 кДж моль<sup>-1</sup> H. 400 кДж моль<sup>-1</sup>

## Часть В

Адсорбированные на поверхности атомы или мигрируют во внутреннюю часть металла (абсорбируются), или рекомбинируются и десорбируются обратно в газовую фазу, согласно уравнениям (1a) и (1b). Н(ab) обозначает атом водорода в объеме металлической фазы (ab - от absorbed).



Обозначим скорости реакций в расчете на один активный центр поверхности для адсорбции, десорбции и миграции (абсорбции)  $r_1[\text{c}^{-1}]$ ,  $r_2[\text{c}^{-1}]$  и  $r_3[\text{c}^{-1}]$ , соответственно. Они описываются кинетическими уравнениями:

$$r_1 = k_1 P_{\text{H}_2} (1 - \theta)^2 \quad (2)$$

$$r_2 = k_2 \theta^2 \quad (3)$$

$$r_3 = k_3 \theta \quad (4)$$

где  $k_1 [\text{c}^{-1} \text{Pa}^{-1}]$ ,  $k_2 [\text{c}^{-1}]$  и  $k_3 [\text{c}^{-1}]$  - константы скорости,  $P_{\text{H}_2}$  - давление  $\text{H}_2$ ,  $\theta$  ( $0 \leq \theta \leq 1$ ) - доля центров на поверхности, занятых атомами Н. Примите, что адсорбция и десорбция - быстрые процессы по сравнению с абсорбцией ( $r_1, r_2 \gg r_3$ ), а  $\theta$  - практически не меняется в ходе процессов.

**В.1** Для скорости  $r_3$  получено эмпирическое выражение:

5pt

$$r_3 = \frac{k_3}{1 + \sqrt{\frac{1}{P_{\text{H}_2} C}}} \quad (5)$$

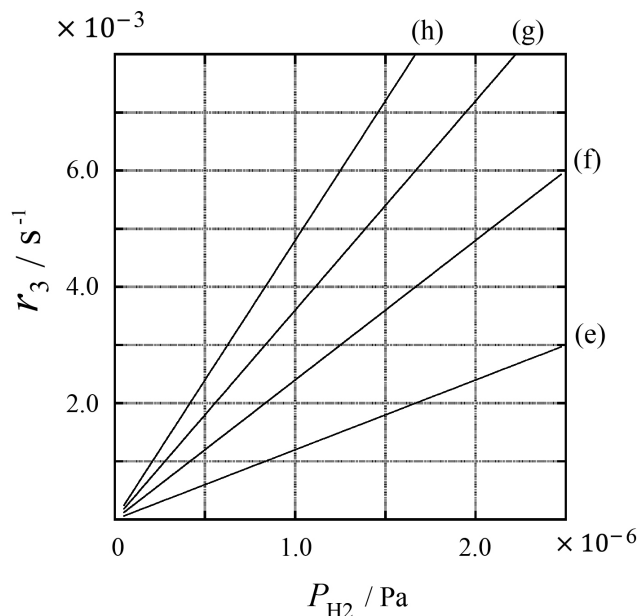
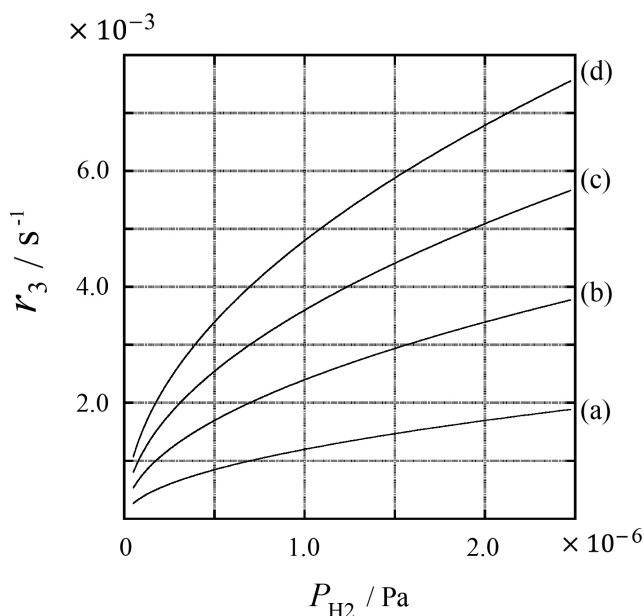
**Выразите**  $C$  через  $k_1$  и  $k_2$ .

Образец металла с площадью поверхности  $S = 1.0 \times 10^{-3} \text{ м}^2$  поместили в сосуд объемом 1 л ( $1.0 \times 10^{-3} \text{ м}^3$ ), заполненный  $\text{H}_2$  ( $P_{\text{H}_2} = 1.0 \times 10^2 \text{ Па}$ ). Число активных центров, способных адсорбировать атомы водорода, на единицу площади равно  $N = 1.3 \times 10^{18} \text{ м}^{-2}$ . Температуру поверхности поддерживали равной  $T = 400 \text{ К}$ . В результате реакций (1а) и (1б)  $P_{\text{H}_2}$  уменьшалось с постоянной скоростью  $v = 4.0 \times 10^{-4} \text{ Па с}^{-1}$ . Считайте, что  $\text{H}_2$  - идеальный газ, а объемом металла можно пренебречь по сравнению с объемом газа.

**В.2** Рассчитайте количество атомов Н в молях, абсорбирующих (мигрирующих во внутреннюю часть), в расчете на единицу поверхности за единицу времени,  $A$  [моль  $\text{с}^{-1} \text{ м}^{-2}$ ]. 3pt

**В.3** При  $T = 400 \text{ К}$  константа  $C$  равна  $1.0 \times 10^2 \text{ Па}^{-1}$ . Рассчитайте значение  $k_3$  при 400 К. Если Вы не умеете считать и не смогли получить ответ в пункте **В.2**, примите  $A = 3.6 \times 10^{-7} \text{ моль с}^{-1} \text{ м}^{-2}$ . 3pt

**В.4** При некоторой другой температуре  $T$  кинетические параметры равны:  $C = 2.5 \times 10^3 \text{ Па}^{-1}$  и  $k_3 = 4.8 \times 10^{-2} \text{ с}^{-1}$ . Для зависимости скорости  $r_3$  от давления  $P_{\text{H}_2}$  при этой температуре выберите одну правильную кривую из (а)-(h). 3pt





KAZ-4 C-1 A-1

**A1-1**  
Kazakhstani Russian (Kazakhstan)

## Водород на поверхности металла

### Часть А

**A.1** (6 pt)

(i)	(ii)	(iii)

**A.2** (4 pt)

(i)	(ii)



KAZ-4 C-1 A-2

**A1-2**  
Kazakhstani Russian (Kazakhstan)

**Часть В**

**B.1** (5 pt)

$C =$  \_\_\_\_\_

**B.2** (3 pt)

$A =$  \_\_\_\_\_ моль  $\text{с}^{-1} \text{м}^{-2}$



KAZ-4 C-1 A-3

# A1-3

Kazakhstani Russian (Kazakhstan)

**B.3** (3 pt)

$$k_3 = \underline{\hspace{10em}} c^{-1}$$

**B.4** (3 pt)

\_\_\_\_\_

KAZ-4 C-2 C-1

**KAZ-4 C-2 C**  
Sanzhar Bissenali

**IChO**  
**Problem 2**  
**Cover sheet**

Please return this cover sheet together with all the related question sheets.

## Isotope Time Capsule

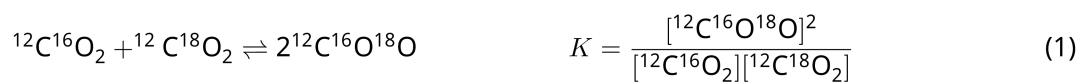
11 % of the total					
Question	A.1	A.2	A.3	A.4	Total
Points	8	8	10	9	<b>35</b>
Score					



Molecular entities that differ only in isotopic composition, such as  $\text{CH}_4$  and  $\text{CH}_3\text{D}$ , are called isotopologues. Isotopologues are considered to have the same chemical characteristics. In nature, however, there exists a slight difference.

Assume that all of the substances shown in this Question are in a gas phase.

Let us consider the following equilibrium:



The entropy,  $S$ , increases with increasing the number of possible microscopic states of a system,  $W$ :

$$S = k_{\text{B}} \ln W \quad (2)$$

$W = 1$  for  $^{12}\text{C}^{16}\text{O}_2$  and  $^{12}\text{C}^{18}\text{O}_2$ . In contrast,  $W = 2$  for a  $^{12}\text{C}^{16}\text{O}^{18}\text{O}$  molecule because the oxygen atoms are distinguishable in this molecule. As the right-hand side of the equilibrium shown in eq. 1 has two  $^{12}\text{C}^{16}\text{O}^{18}\text{O}$  molecules,  $W = 2^2 = 4$ .

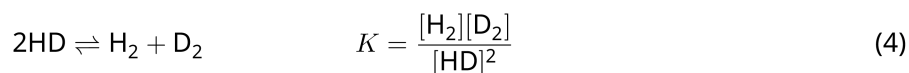


**A.1** The enthalpy change,  $\Delta H$ , of eq. 3 is positive regardless of the temperature. 8pt



**Calculate** the equilibrium constants,  $K$ , for eq. 3 at very low (think of  $T \rightarrow 0$ ) and very high (think of  $T \rightarrow +\infty$ ) temperatures. Assume that the reaction remains unchanged at these temperatures and that  $\Delta H$  converges to a constant value for high temperatures.

The  $\Delta H$  of the following process can be explained by molecular vibrations.



At  $T = 0$  K, the vibrational energy of a diatomic molecule whose vibration frequency is  $\nu$  [ $\text{s}^{-1}$ ] is expressed as:

$$E = \frac{1}{2}h\nu \quad (5)$$

$$\nu = \frac{1}{2\pi} \sqrt{\frac{k}{\mu}} \quad (6)$$

Wherein  $k$  is the force constant and  $\mu$  the reduced mass, which is expressed in terms of the mass of the two atoms in the diatomic molecule,  $m_1$  and  $m_2$ , according to:

$$\mu = \frac{m_1 m_2}{m_1 + m_2} \quad (7)$$

**A.2** The vibration of  $\text{H}_2$  is at  $4161.0 \text{ cm}^{-1}$  when reported as a wavenumber. 8pt  
**Calculate** the  $\Delta H$  of the following equation at  $T = 0$  K in units of  $\text{J mol}^{-1}$ .



Assume that:

- only the vibrational energy contributes to the  $\Delta H$ .
- the  $k$  values for  $\text{H}_2$ ,  $\text{HD}$ , and  $\text{D}_2$  are identical.
- the mass of H to be 1 Da and the mass of D to be 2 Da.

The molar ratio of  $\text{H}_2$ ,  $\text{HD}$ , and  $\text{D}_2$  depends on the temperature in a system in equilibrium. Here,  $\Delta_{\text{D}_2}$  is defined as the change of the molar ratio of  $\text{D}_2$ .

$$\Delta_{\text{D}_2} = \frac{R_{\text{D}_2}}{R_{\text{D}_2}^*} - 1 \quad (9)$$

Here,  $R_{\text{D}_2}$  refers to  $\frac{[\text{D}_2]}{[\text{H}_2]}$  in the sample and  $R_{\text{D}_2}^*$  to  $\frac{[\text{D}_2]}{[\text{H}_2]}$  at  $T \rightarrow +\infty$ . It should be noted here that the distribution of isotopes becomes random at  $T \rightarrow +\infty$ .

**A.3 Calculate**  $\Delta_{\text{D}_2}$  with natural D abundance when the isotopic exchange is in equilibrium at the temperature where  $K$  in eq. 4 is 0.300. Assume that the natural abundance ratios of D and H are  $1.5576 \times 10^{-4}$  and  $1 - 1.5576 \times 10^{-4}$ , respectively. 10pt

In general, the molar ratio of the doubly substituted isotopologue, which contains two heavy isotope atoms in one molecule, increases with decreasing temperature. Let us consider the molar ratio of CO<sub>2</sub> molecules with molecular weights of 44 and 47, which are described as CO<sub>2</sub>[44] and CO<sub>2</sub>[47] below. The quantity  $\Delta_{47}$  is defined as:

$$\Delta_{47} = \frac{R_{47}}{R_{47}^*} - 1 \quad (10)$$

$R_{47}$  refers to  $\frac{[\text{CO}_2[47]]}{[\text{CO}_2[44]]}$  in the sample and  $R_{47}^*$  to  $\frac{[\text{CO}_2[47]]}{[\text{CO}_2[44]]}$  at  $T \rightarrow +\infty$ . The natural abundances of carbon and oxygen atoms are shown below; ignore isotopes that are not shown here.

	<sup>12</sup> C	<sup>13</sup> C
natural abundance	0.988888	0.011112

	<sup>16</sup> O	<sup>17</sup> O	<sup>18</sup> O
natural abundance	0.997621	0.0003790	0.0020000

The temperature dependence of  $\Delta_{47}$  is determined as follows, where  $T$  is given as the absolute temperature in units of K:

$$\Delta_{47} = \frac{36.2}{T^2} + 2.920 \times 10^{-4} \quad (11)$$

**A.4** The  $R_{47}$  of fossil plankton obtained from the Antarctic seabed was  $4.50865 \times 10^{-5}$ . **9pt**  
**Estimate** the temperature using this  $R_{47}$ . This temperature is interpreted as the air temperature during the era in which the plankton lived. Consider only the most common isotopologue of CO<sub>2</sub>[47] for the calculation.

## Изотопы в природе

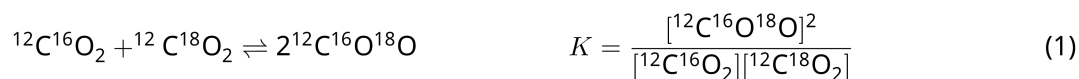
Вес: 11%					
Вопрос	A.1	A.2	A.3	A.4	Всего
Очки	8	8	10	9	<b>35</b>
Оценка					



Молекулы, отличающиеся только изотопным составом, например,  $\text{CH}_4$  и  $\text{CH}_3\text{D}$ , называют изотопологами. Считается, что изотопологи имеют одинаковые химические свойства. На самом деле, есть небольшие различия.

Везде в этой задаче считайте, что все вещества находятся в газовой фазе.

Рассмотрим следующее равновесие:



Энтропия  $S$  растет с увеличением числа возможных микросостояний системы,  $W$ :

$$S = k_B \ln W \quad (2)$$

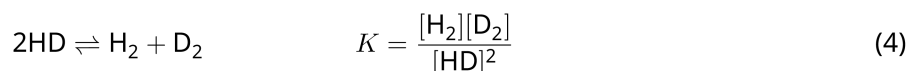
$W = 1$  для  $^{12}\text{C}^{16}\text{O}_2$  и  $^{12}\text{C}^{18}\text{O}_2$ . Однако,  $W = 2$  для молекулы  $^{12}\text{C}^{16}\text{O}^{18}\text{O}$  из-за эквивалентности позиций атомов кислорода. В правой части уравнения реакции (1) - две молекулы  $^{12}\text{C}^{16}\text{O}^{18}\text{O}$ , поэтому для продукта реакции  $W = 2^2 = 4$ .

**A.1** В реакции (3) изменение энтальпии,  $\Delta H$ , - положительное при любой температуре. 8pt



**Рассчитайте** значения константы равновесия  $K$  для реакции (3) при очень низких ( $T \rightarrow 0$ ) и очень высоких ( $T \rightarrow +\infty$ ) температурах. Примите, что в этих условиях уравнение реакции не меняется, а значение  $\Delta H$  при высоких температурах стремится к конечному пределу.

Значение  $\Delta H$  приведенной ниже реакции можно рассчитать, рассматривая молекулярные колебания.



При  $T = 0$  К колебательная энергия двухатомной молекулы с частотой колебаний  $\nu$  [ $\text{с}^{-1}$ ] имеет вид:

$$E = \frac{1}{2}h\nu \quad (5)$$

$$\nu = \frac{1}{2\pi} \sqrt{\frac{k}{\mu}} \quad (6)$$

где  $k$  - силовая постоянная, а  $\mu$  - приведенная масса молекулы, которая выражается через массы атомов  $m_1$  и  $m_2$  следующим образом:

$$\mu = \frac{m_1 m_2}{m_1 + m_2} \quad (7)$$

**A.2** Колебания  $\text{H}_2$  происходят при  $4161.0 \text{ см}^{-1}$  в единицах волновых чисел. 8pt  
**Рассчитайте**  $\Delta H$  приведенной ниже реакции при  $T = 0$  К в единицах Дж моль $^{-1}$ .



Считайте, что:

- Вклад в  $\Delta H$  вносит только колебательная энергия.
- Значение  $k$  для молекул  $\text{H}_2$ , HD и  $\text{D}_2$  - одно и то же.
- Масса атома H равна 1 Да, а масса атома D равна 2 Да.



KAZ-4 C-2 Q-3

Q2-3

Kazakhstani Russian (Kazakhstan)

Мольное соотношение  $\text{H}_2$ , HD и  $\text{D}_2$  в равновесной системе зависит от температуры. Обозначим через  $\Delta_{\text{D}_2}$  величину, характеризующую отклонение содержания  $\text{D}_2$  при данной температуре от предельного значения при очень высокой температуре.

$$\Delta_{\text{D}_2} = \frac{R_{\text{D}_2}}{R_{\text{D}_2}^*} - 1 \quad (9)$$

Здесь  $R_{\text{D}_2}$  обозначает  $\frac{[\text{D}_2]}{[\text{H}_2]}$  в системе при заданной температуре, а  $R_{\text{D}_2}^*$  равно  $\frac{[\text{D}_2]}{[\text{H}_2]}$  при  $T \rightarrow +\infty$ . Отметим, что при  $T \rightarrow +\infty$  распределение изотопов между молекулами становится статистическим и определяется только их природной частотой.

**A.3** **Рассчитайте**  $\Delta_{\text{D}_2}$  с природной частотой D в равновесной смеси изотопологов при температуре, при которой константа равновесия  $K$  реакции (4) равна 0.300. Природная мольная частота изотопов D и H равна, соответственно,  $1.5576 \times 10^{-4}$  и  $(1 - 1.5576 \times 10^{-4})$ . 10pt

В общем случае, мольная доля двукратно замещенных изотопологов, содержащих два тяжелых изотопа в молекуле, растет с понижением температуры. Рассмотрим мольное содержание молекул  $\text{CO}_2$  с молекулярными массами 44 и 47, обозначим эти молекулы  $\text{CO}_2[44]$  и  $\text{CO}_2[47]$ . Величина  $\Delta_{47}$  определяется так:

$$\Delta_{47} = \frac{R_{47}}{R_{47}^*} - 1 \quad (10)$$

где  $R_{47}$  равно  $\frac{[\text{CO}_2[47]]}{[\text{CO}_2[44]]}$  в равновесной системе при заданной температуре, а  $R_{47}^*$  равно  $\frac{[\text{CO}_2[47]]}{[\text{CO}_2[44]]}$  при  $T \rightarrow +\infty$ . Природные мольные доли изотопов приведены ниже. Изотопы, отсутствующие в таблице, рассматривать не нужно.

	$^{12}\text{C}$	$^{13}\text{C}$
природная мольная частота	0.988888	0.011112

	$^{16}\text{O}$	$^{17}\text{O}$	$^{18}\text{O}$
природная мольная частота	0.997621	0.0003790	0.0020000

Зависимость величины  $\Delta_{47}$  от абсолютной температуры  $T$  (в К) имеет вид:

$$\Delta_{47} = \frac{36.2}{T^2} + 2.920 \times 10^{-4} \quad (11)$$

- A.4** Значение  $R_{47}$ , измеренное для ископаемого планктона, собранного с морского дна Южного Океана, оказалось равно  $4.50865 \times 10^{-5}$ . **Рассчитайте** температуру, используя это значение  $R_{47}$ . Полученное значение характеризует температуру воздуха в эпоху жизни планктона. При расчете используйте только самый распространенный изотополог  $\text{CO}_2[47]$ . 9pt



KAZ-4 C-2 A-1

**A2-1**  
Kazakhstani Russian (Kazakhstan)

## Изотопы в природе

**A.1** (8 pt)

$T \rightarrow 0 : K =$  \_\_\_\_\_ ,  $T \rightarrow +\infty : K =$  \_\_\_\_\_





KAZ-4 C-2 A-2

**A2-2**  
Kazakhstani Russian (Kazakhstan)

**A.2** (8 pt)

$\Delta H =$  \_\_\_\_\_ Дж моль<sup>-1</sup>



KAZ-4 C-2 A-3

# A2-3

Kazakhstani Russian (Kazakhstan)

**A.3** (10 pt)

$\Delta_{D_2} =$  \_\_\_\_\_



KAZ-4 C-2 A-4

**A2-4**  
Kazakhstani Russian (Kazakhstan)

**A.4** (9 pt)

$T =$  \_\_\_\_\_ K

KAZ-4 C-3 C-1

**KAZ-4 C-3 C**  
Sanzhar Bissenali

**ICHO**  
**Problem 3**  
**Cover sheet**

Please return this cover sheet together with all the related question sheets.

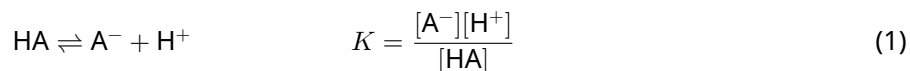
## Lambert-Beer Law?

8 % of the total				
Question	A.1	B.1	B.2	Total
Points	10	6	6	<b>22</b>
Score				

In this problem, ignore the absorption of the cell and the solvent. The temperatures of all solutions and gases are kept constant at 25 °C.

### Part A

An aqueous solution **X** was prepared using HA and NaA. The concentrations  $[A^-]$ ,  $[HA]$ , and  $[H^+]$  in solution **X** are  $1.00 \times 10^{-2} \text{ mol L}^{-1}$ ,  $1.00 \times 10^{-3} \text{ mol L}^{-1}$ , and  $1.00 \times 10^{-4} \text{ mol L}^{-1}$ , respectively, which are correlated via the following acid-base equilibrium:



The optical path length is  $l$  in Part A. Ignore the density change upon dilution. Assume that no chemical reactions other than eq 1 occur.

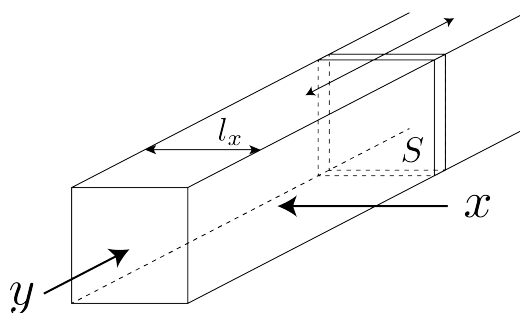
- |            |   |      |
|------------|---|------|
| <b>A.1</b> | The absorbance of <b>X</b> was $A_1$ at a wavelength of $\lambda_1$ . Then, solution <b>X</b> was diluted to twice its initial volume using hydrochloric acid with pH = 2.500. After the dilution, the absorbance was still $A_1$ at $\lambda_1$ . <b>Determine</b> the ratio $\varepsilon_{HA}/\varepsilon_{A^-}$ , where $\varepsilon_{HA}$ and $\varepsilon_{A^-}$ represent the absorption coefficients of HA and of $A^-$ , respectively, at $\lambda_1$ . | 10pt |
|------------|---|------|

**Part B**

Let us consider the following equilibrium in the gas phase.



Pure gas D is filled into a cuboid container that has a transparent movable wall with a cross-section of  $S$  (see the figure below) at a pressure  $P$ , and equilibrium is established while the total pressure is kept at  $P$ . The absorbance of the gas is  $A = \varepsilon(n/V)l$ , where  $\varepsilon$ ,  $n$ ,  $V$ , and  $l$  are the absorption coefficient, amount of the gas in moles, volume of the gas, and optical path length, respectively. Assume that all components of the gas mixture behave as ideal gases.



Use the following definitions if necessary.

	Initial state		After equilibrium	
	D	M	D	M
Partial pressure	$P$	0	$p_D$	$p_M$
Amount in moles	$n_0$	0	$n_D$	$n_M$
Volume	$V_0$		$V$	

**B.1** The absorbance of the gas at  $\lambda_{B1}$  measured from direction  $x$  ( $l = l_x$ ) was  $A_{B1}$  both at the initial state and after the equilibrium. **Determine** the ratio  $\varepsilon_D/\varepsilon_M$  at  $\lambda_{B1}$ , where  $\varepsilon_D$  and  $\varepsilon_M$  represent the absorption coefficients of D and of M, respectively. 6pt

**B.2** The absorbance of the gas at  $\lambda_{B2}$  measured from direction  $y$  was  $A_{B2}$  both at the initial state ( $l = l_{y0}$ ) and after the equilibrium ( $l = l_y$ ). **Determine** the ratio  $\varepsilon_D/\varepsilon_M$  at  $\lambda_{B2}$ . 6pt

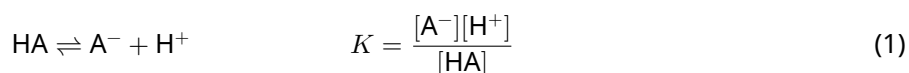
## Закон Бугера-Ламберта-Бера?

Вес: 8%				
Вопрос	A.1	B.1	B.2	Всего
Очки	10	6	6	<b>22</b>
Оценка				

В данной задаче пренебрегайте поглощением ячейки и растворителя. Температура всех растворов и газов постоянна и равна 25 °С.

### Часть А

Водный раствор **X** приготовили из  $\text{HA}$  и  $\text{NaA}$ . Концентрации  $[\text{A}^-]$ ,  $[\text{HA}]$  и  $[\text{H}^+]$  в растворе **X** равны  $1.00 \times 10^{-2}$ ,  $1.00 \times 10^{-3}$  и  $1.00 \times 10^{-4}$  моль  $\text{л}^{-1}$ , соответственно. В системе установилось кислотно-основное равновесие:



В Части А длина оптического пути равна  $l$ . Пренебрегайте изменением плотности при разбавлении. Считайте, что в системе не протекает никаких реакций, кроме реакции (1).

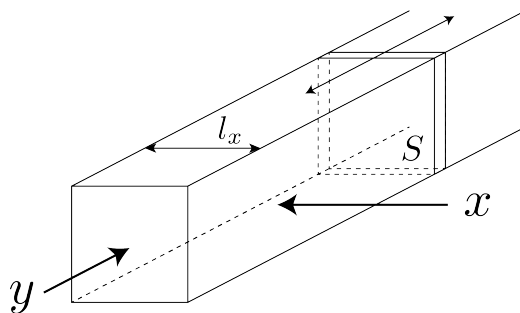
- A.1** Поглощение **X** составило  $A_1$  при длине волны  $\lambda_1$ . После измерения раствор **X** разбавили в два раза добавлением соляной кислоты с  $\text{pH} = 2.500$ . После разбавления поглощение не изменилось и составило  $A_1$  при  $\lambda_1$ . **Определите** отношение  $\varepsilon_{\text{HA}}/\varepsilon_{\text{A}^-}$ , где  $\varepsilon_{\text{HA}}$  и  $\varepsilon_{\text{A}^-}$  - молярные коэффициенты поглощения  $\text{HA}$  и  $\text{A}^-$ , соответственно, при  $\lambda_1$ . 10pt

## Часть В

Рассмотрим следующее равновесие в газовой фазе



Прямоугольный резервуар с прозрачной подвижной стенкой площадью  $S$  заполнили чистым газом D (см. рисунок ниже) под давлением  $P$ . В системе установилось равновесие, при этом общее давление не изменилось и равно  $P$ . Поглощение газа равно  $A = \varepsilon(n/V)l$ , где  $\varepsilon$ ,  $n$ ,  $V$  и  $l$  - молярный коэффициент поглощения, количество газа в молях, объем газа и длина оптического пути, соответственно. Считайте, что все компоненты газовой смеси - идеальные газы.



Используйте следующие обозначения.

	Исходное состояние		После достижения равновесия	
	D	M	D	M
Парциальное давление	$P$	0	$p_D$	$p_M$
Количество в молях	$n_0$	0	$n_D$	$n_M$
Объем	$V_0$		$V$	

**В.1** Поглощение газа при  $\lambda_{B1}$ , измеренное вдоль направления  $x$  ( $l = l_x$ ) составило  $A_{B1}$  как для исходного состояния, так и после достижения равновесия. **Определите** отношение  $\varepsilon_D/\varepsilon_M$  при  $\lambda_{B1}$ , где  $\varepsilon_D$  и  $\varepsilon_M$  обозначают молярные коэффициенты поглощения D и M, соответственно. 6pt

**В.2** Поглощение газа при  $\lambda_{B2}$ , измеренное вдоль направления  $y$ , составило  $A_{B2}$  как для исходного состояния ( $l = l_{y0}$ ), так и после достижения равновесия ( $l = l_y$ ). **Определите** отношение  $\varepsilon_D/\varepsilon_M$  при  $\lambda_{B2}$ . 6pt





KAZ-4 C-3 A-1

**A3-1**  
Kazakhstani Russian (Kazakhstan)

## Закон Бугера-Ламберта-Бера?

### Часть А

**A.1** (10 pt)

(Продолжайте на следующей странице)



KAZ-4 C-3 A-2

**A3-2**  
Kazakhstani Russian (Kazakhstan)

A.1 (cont.)

$\epsilon_{\text{HA}}/\epsilon_{\text{A}^-} =$  \_\_\_\_\_



KAZ-4 C-3 A-3

**A3-3**  
Kazakhstani Russian (Kazakhstan)

**Часть В**

**B.1** (6 pt)

$\epsilon_D/\epsilon_M =$  \_\_\_\_\_



KAZ-4 C-3 A-4

**A3-4**  
Kazakhstani Russian (Kazakhstan)

**B.2** (6 pt)

$\epsilon_D/\epsilon_M =$   
\_\_\_\_\_

KAZ-4 C-4 C-1

**KAZ-4 C-4 C**  
Sanzhar Bissenali

**IChO**  
**Problem 4**  
**Cover sheet**

Please return this cover sheet together with all the related question sheets.

## The Redox Chemistry of Zinc

11 % of the total							
Question	A.1	A.2	B.1	B.2	B.3	B.4	Total
Points	6	5	4	3	5	9	<b>32</b>
Score							



Zinc has long been used as alloys for brass and steel materials. The zinc contained in industrial wastewater is separated by precipitation to detoxify the water, and the obtained precipitate is reduced to recover and reuse it as metallic zinc.

### Part A

The dissolution equilibrium of zinc hydroxide  $\text{Zn(OH)}_2(\text{s})$  at 25 °C and the relevant equilibrium constants are given in eq. 1-4.



The solubility,  $S$ , of zinc (concentration of zinc in a saturated aqueous solution) is given in eq. 5.

$$S = [\text{Zn}^{2+}(\text{aq})] + [\text{Zn}(\text{OH})_2(\text{aq})] + [\text{Zn}(\text{OH})_4^{2-}(\text{aq})] \quad (5)$$

**A.1** When the equilibria in eq. 1–4 are established, **calculate** the pH range in which  $[\text{Zn}(\text{OH})_2(\text{aq})]$  is the greatest among  $[\text{Zn}^{2+}(\text{aq})]$ ,  $[\text{Zn}(\text{OH})_2(\text{aq})]$  and  $[\text{Zn}(\text{OH})_4^{2-}(\text{aq})]$ . 6pt

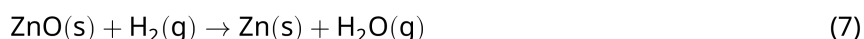
**A.2** A saturated aqueous solution of  $\text{Zn}(\text{OH})_2(\text{s})$  with pH = 7.00 was prepared and filtered. NaOH was added to this filtrate to increase its pH to 12.00. **Calculate** the molar percentage of zinc that precipitates when increasing the pH from 7.00 to 12.00. Ignore the volume and temperature changes. 5pt

## Part B

Next, the recovered zinc hydroxide is heated to obtain zinc oxide according to the reaction below:



The zinc oxide is then reduced to metallic zinc by reaction with hydrogen:



**B.1** In order for reaction (7) to proceed at a hydrogen pressure kept at 1 bar, it is necessary to reduce the partial pressure of the generated water vapor. **Calculate** the upper limit for the partial pressure of water vapor to allow reaction (7) to proceed at 300 °C. Here, the Gibbs formation energies of zinc oxide and water vapor at 300 °C and 1 bar for all gaseous species are  $\Delta G_{\text{ZnO}}(300^\circ\text{C}) = -2.90 \times 10^2 \text{ kJ mol}^{-1}$  and  $\Delta G_{\text{H}_2\text{O}}(300^\circ\text{C}) = -2.20 \times 10^2 \text{ kJ mol}^{-1}$ , respectively. 4pt

Metallic zinc is used as a negative electrode (anode) material for metal-air batteries. The electrode consists of Zn and ZnO. It uses the following redox reaction to generate electricity with the electromotive force (e.m.f.) at 25 °C and pressure of 1 bar,  $E^\circ$ .



**B.2** A zinc–air battery was discharged at 20 mA for 24 hours. **Calculate** the change in mass of the negative electrode (anode) of the battery. 3pt



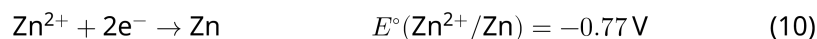
Mt. Fuji

- B.3** Consider the change of e.m.f. of a zinc-air battery depending on the environment. **Calculate** the e.m.f. at the summit of Mt. Fuji, where the temperature and altitude are  $-38^\circ\text{C}$  (February) and 3776 m, respectively. The atmospheric pressure is represented by 5pt

$$P [\text{bar}] = 1.013 \times \left( 1 - \frac{0.0065h}{T + 0.0065h + 273.15} \right)^{5.257} \quad (9)$$

at altitude  $h$  [m] and temperature  $T$  [ $^\circ\text{C}$ ]. The molar ratio of oxygen in the atmosphere is 21%. The Gibbs energy change of reaction (8) is  $\Delta G_{\text{ZnO}}(-38^\circ\text{C}) = -3.26 \times 10^2 \text{ kJ mol}^{-1}$  at  $-38^\circ\text{C}$  and 1 bar.

- B.4** **Calculate** the Gibbs energy change for reaction (6) at  $25^\circ\text{C}$ . Note that the standard reduction potentials,  $E^\circ(\text{Zn}^{2+}/\text{Zn})$  and  $E^\circ(\text{O}_2/\text{H}_2\text{O})$  at  $25^\circ\text{C}$  and 1 bar are given as (10) and (11), respectively. 9pt





## Редокс-химия цинка

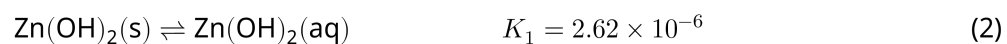
Вес: 11%							
Вопрос	A.1	A.2	B.1	B.2	B.3	B.4	Всего
Очки	6	5	4	3	5	9	<b>32</b>
Оценка							



Цинк давно используют для изготовления латуни и покрытий для стали. Регенерация цинка из промышленных сточных вод производится путем его осаждения и последующего восстановления осадка до металла.

### Часть А

Реакции, протекающие при растворении гидроксида цинка  $\text{Zn}(\text{OH})_2(\text{s})$  при  $25\text{ }^\circ\text{C}$ , и соответствующие константы равновесия приведены в уравнениях (1)–(4). (Здесь и далее обозначения: s - твердый, aq - водный раствор, l - жидкость).



Растворимость,  $S$ , цинка (общая молярная концентрация цинка в насыщенном водном растворе) дается уравнением (5).

$$S = [\text{Zn}^{2+}(\text{aq})] + [\text{Zn}(\text{OH})_2(\text{aq})] + [\text{Zn}(\text{OH})_4^{2-}(\text{aq})] \quad (5)$$

**A.1** Считая, что равновесия (1)–(4) установились, **рассчитайте** интервал pH, в котором концентрация  $[\text{Zn}(\text{OH})_2(\text{aq})]$  - наибольшая среди концентраций всех частиц  $[\text{Zn}^{2+}(\text{aq})]$ ,  $[\text{Zn}(\text{OH})_2(\text{aq})]$  и  $[\text{Zn}(\text{OH})_4^{2-}(\text{aq})]$ . 6pt

**A.2** Приготовили насыщенный водный раствор  $\text{Zn}(\text{OH})_2(\text{s})$  с pH = 7.00 и отфильтровали. К фильтрату добавили NaOH до pH 12.00. **Рассчитайте** мольную долю (в %) цинка, который окажется в осадке при повышении pH от 7.00 до 12.00. Изменением объема и температуры пренебрегите. 5pt

## Часть B

Затем осажденный гидроксид цинка нагревают для получения оксида цинка по уравнению:

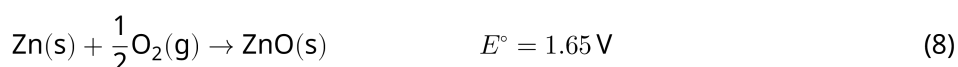


После этого оксид цинка восстанавливают до металла водородом:



**B.1** Чтобы реакция (7) протекала при давлении водорода 1 бар, необходимо понижать парциальное давление образующегося водяного пара. **Рассчитайте**, при каком максимальном парциальном давлении водяного пара реакция (7) будет протекать при 300 °С. Стандартные энергии Гиббса образования оксида цинка и водяного пара при 300 °С и 1 бар равны  $\Delta G_{\text{ZnO}}^{\circ}(300^{\circ}\text{C}) = -2.90 \times 10^2 \text{ кДж моль}^{-1}$  и  $\Delta G_{\text{H}_2\text{O}}^{\circ}(300^{\circ}\text{C}) = -2.20 \times 10^2 \text{ кДж моль}^{-1}$ , соответственно. 4pt

Металлический цинк используется в качестве материала отрицательного электрода (анода) в металло-воздушных батареях. Электрод состоит из Zn и ZnO. Уравнение реакции, на которой основано действие батареи, и ее стандартная эдс при 25 °С и давлении 1 бар,  $E^{\circ}$ , приведены ниже:



**B.2** Цинк-воздушную батарею разряжали при токе 20 мА в течение 24 часов. **Рассчитайте** изменение массы отрицательного электрода (анода) батареи. 3pt



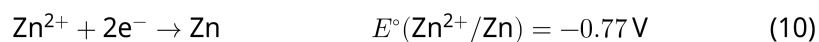
Гора Фудзи

- В.3** Значение эдс цинк-воздушной батареи зависит от условий. **Рассчитайте** эдс на вершине горы Фудзи, где температура и высота составляют  $-38^\circ\text{C}$  (в феврале) и 3776 м, соответственно. Атмосферное давление может быть рассчитано по формуле: 5pt

$$P [\text{bar}] = 1.013 \times \left( 1 - \frac{0.0065h}{T + 0.0065h + 273.15} \right)^{5.257} \quad (9)$$

где  $h$  [m] - высота в м,  $T$  [ $^\circ\text{C}$ ] - температура в  $^\circ\text{C}$ . Мольная доля кислорода в атмосфере равна 21%. Стандартная энергия Гиббса реакции (8) равна  $\Delta G_{\text{ZnO}}^\circ(-38^\circ\text{C}) = -3.26 \times 10^2 \text{ кДж моль}^{-1}$  при  $-38^\circ\text{C}$  и 1 бар.

- В.4** **Рассчитайте** изменение стандартной энергии Гиббса в реакции (6) при  $25^\circ\text{C}$ . Стандартные потенциалы  $E^\circ(\text{Zn}^{2+}/\text{Zn})$  и  $E^\circ(\text{O}_2/\text{H}_2\text{O})$  при  $25^\circ\text{C}$  и 1 бар приведены в выражениях (10) и (11), соответственно. 9pt





KAZ-4 C-4 A-1

**A4-1**  
Kazakhstani Russian (Kazakhstan)

## Редокс-химия цинка

### Часть А

**A.1** (6 pt)

\_\_\_\_\_ < pH < \_\_\_\_\_



KAZ-4 C-4 A-2

**A4-2**  
Kazakhstani Russian (Kazakhstan)

**A.2** (5 pt)

\_\_\_\_\_ %



KAZ-4 C-4 A-3

**A4-3**  
Kazakhstani Russian (Kazakhstan)

**Часть В**

**B.1** (4 pt)

$p_{\text{H}_2\text{O}} =$  \_\_\_\_\_ бар

**B.2** (3 pt)

\_\_\_\_\_ Г



KAZ-4 C-4 A-4

**A4-4**  
Kazakhstani Russian (Kazakhstan)

**B.3** (5 pt)

\_\_\_\_\_ B



KAZ-4 C-4 A-5

**A4-5**  
Kazakhstani Russian (Kazakhstan)

**B.4** (9 pt)

$\Delta G^\circ =$  \_\_\_\_\_ Дж моль<sup>-1</sup>



KAZ-4 C-5 C-1

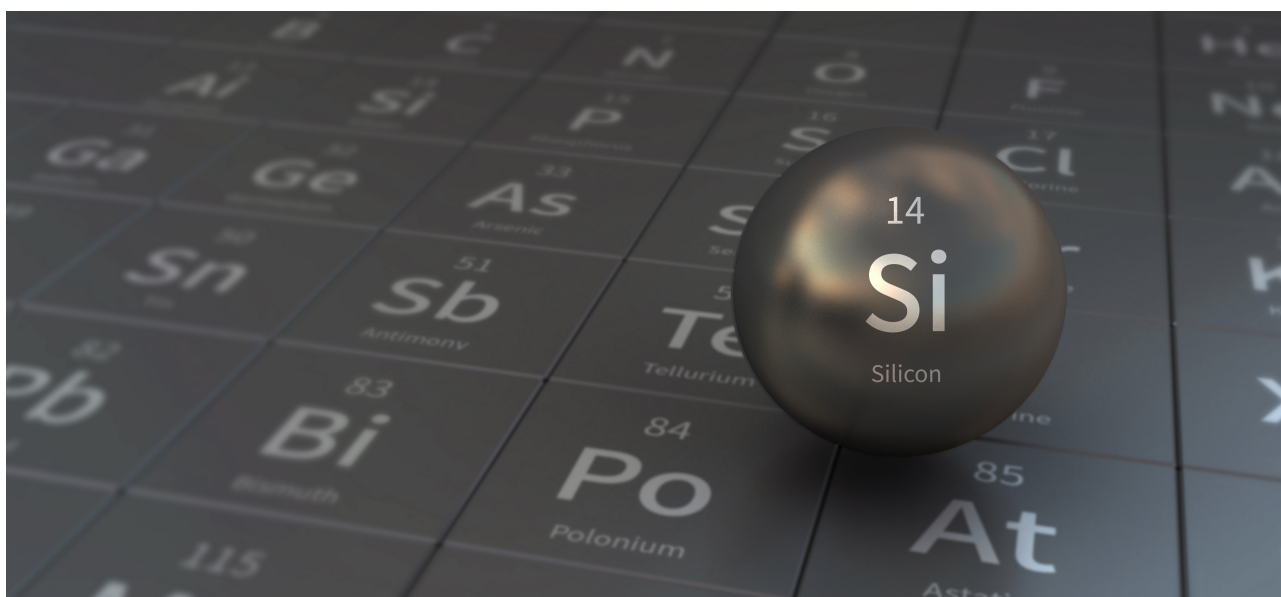
**KAZ-4 C-5 C**  
Sanzhar Bissenali

**IChO**  
**Problem 5**  
**Cover sheet**

Please return this cover sheet together with all the related question sheets.

## Mysterious Silicon

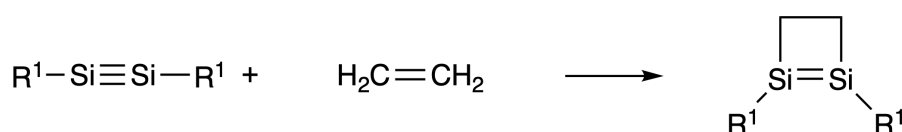
12 % of the total								
Question	A.1	A.2	A.3	A.4	B.1	B.2	B.3	Total
Points	9	7	6	10	5	15	8	<b>60</b>
Score								



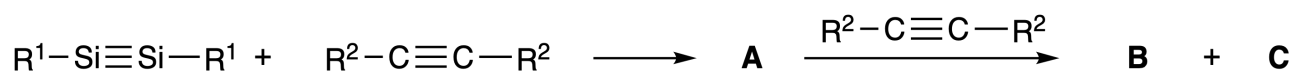
Although silicon is also a group 14 element like carbon, their properties differ significantly.

### Part A

Unlike the carbon-carbon triple bond, the silicon-silicon triple bond in a compound formulated as  $R^1-Si \equiv Si-R^1$  ( $R$ : organic substituent) is extremely reactive. For example, it reacts with ethylene to form a cyclic product that contains a four-membered ring.



When  $R^1-Si \equiv Si-R^1$  is treated with an alkyne ( $R^2-C \equiv C-R^2$ ), the four-membered-ring compound **A** is formed as an initial intermediate. Further reaction of another molecule of  $R^2-C \equiv C-R^2$  with **A** affords isomers **B** and **C**, both of which have benzene-like cyclic conjugated structures, so-called 'disilabenzenes' that contain a six-membered ring and can be formulated as  $(R^1-Si)_2(R^2-C)_4$ .



The  $^{13}C$  NMR analysis of the corresponding six-membered ring skeletons  $Si_2C_4$  shows two signals for **B** and one signal for **C**.

**A.1** **Draw** the structural formulae of **A**, **B**, and **C** using  $R^1$ ,  $R^2$ , Si, and C, with one of the possible resonance structures. 9pt

**A.2** **Calculate** the aromatic stabilization energy (ASE) for benzene and **C** (in the case of  $R^1 = R^2 = H$ ) as positive values, considering the enthalpy change in some hydrogenation reactions of unsaturated systems shown below (Fig. 1). 7pt

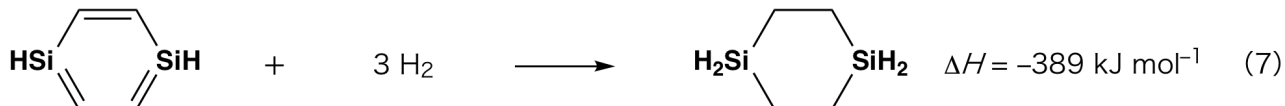
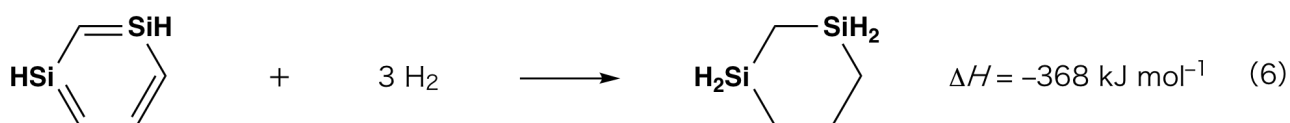



Fig. 1

When a xylene solution of **C** is heated, it undergoes isomerization to give an equilibrium mixture of compounds **D** and **E**. The molar ratio is **D** : **E** = 1 : 40.0 at 50.0 °C and **D** : **E** = 1 : 20.0 at 120.0 °C.

**A.3 Calculate**  $\Delta H$  for the transformation of **D** to **E**. Assume that  $\Delta H$  does not depend on temperature. 6pt

The isomerization from **C** to **D** and to **E** proceeds via transformations of  $\pi$ -bonds into  $\sigma$ -bonds without breaking any  $\sigma$ -bonds. A  $^{13}\text{C}$  NMR analysis revealed one signal for the  $\text{Si}_2\text{C}_4$  skeleton of **D** and two signals for that of **E**. The skeleton of **D** does not contain any three-membered rings, while **E** has two three-membered rings that share an edge.

**A.4 Draw** the structural formulae of **D** and **E** using  $\text{R}^1$ ,  $\text{R}^2$ , Si, and C. 10pt

## Part B

Silicon is able to form highly coordinated compounds (> four substituents) with electronegative elements such as fluorine. As metal fluorides are often used as fluorination reagents, highly coordinated silicon fluorides also act as fluorination reagents.

The fluorination reaction of  $\text{CCl}_4$  using  $\text{Na}_2\text{SiF}_6$  was carried out as follows.

- **Standardization of  $\text{Na}_2\text{SiF}_6$  solution :**

- Preparation

Aqueous solution **F**: 0.855 g of  $\text{Na}_2\text{SiF}_6$  ( $188.053 \text{ g mol}^{-1}$ ) dissolved in water (total volume: 200 mL).

Aqueous solution **G**: 6.86 g of  $\text{Ce}_2(\text{SO}_4)_3$  ( $568.424 \text{ g mol}^{-1}$ ) dissolved in water (total volume: 200 mL).

- Procedure

Precipitation titration of a solution **F** (50.0 mL) by dropwise adding solution **G** in the presence of xylenol orange, which coordinates to  $\text{Ce}^{3+}$ , as an indicator. After adding 18.8 mL of solution **G**, the color of the solution changes from yellow to magenta. The generated precipitate is a binary compound that contains  $\text{Ce}^{3+}$ , and the only resulting silicon compound is  $\text{Si}(\text{OH})_4$ .

**B.1 Write** the balanced equation for the reaction of  $\text{Na}_2\text{SiF}_6$  with  $\text{Ce}_2(\text{SO}_4)_3$ . 5pt

- **Reaction of  $\text{CCl}_4$  with  $\text{Na}_2\text{SiF}_6$ :**

(Substance losses by *e.g.* evaporation are negligible during the following operations.)

$\text{Na}_2\text{SiF}_6(x \text{ [g]})$  was added to  $\text{CCl}_4$  (500.0 g) and heated to 300 °C in a sealed pressure-resistant reaction vessel. The unreacted  $\text{Na}_2\text{SiF}_6$  and generated NaCl were removed by filtration. The filtrate was diluted to a total volume of 1.00 L with  $\text{CCl}_4$  (solution **H**). The  $^{29}\text{Si}$  and  $^{19}\text{F}$  NMR spectra of solution **H** showed  $\text{SiF}_4$  as the only silicon compound. In the  $^{19}\text{F}$  NMR spectrum, in addition to  $\text{SiF}_4$ , signals corresponding to  $\text{CFCl}_3$ ,  $\text{CF}_2\text{Cl}_2$ ,  $\text{CF}_3\text{Cl}$ , and  $\text{CF}_4$  were observed (*cf.* Table 1). The integration ratios in the  $^{19}\text{F}$  NMR spectrum are proportional to the number of fluorine nuclei.

Table 1

$^{19}\text{F}$ NMR data	$\text{CFCl}_3$	$\text{CF}_2\text{Cl}_2$	$\text{CF}_3\text{Cl}$	$\text{CF}_4$
Integration ratio	45.0	65.0	18.0	2.0

$\text{SiF}_4$  is hydrolyzed to form  $\text{H}_2\text{SiF}_6$  according to the following eq. 8:



Solution **H** (10 mL) was added to an excess amount of water, which resulted in the complete hydrolysis of  $\text{SiF}_4$ . After separation, the  $\text{H}_2\text{SiF}_6$  generated from the hydrolysis in the aqueous solution was neutralized and completely converted to  $\text{Na}_2\text{SiF}_6$  (aqueous solution **J**).

The precipitate of unreacted  $\text{Na}_2\text{SiF}_6$  and  $\text{NaCl}$ , which was removed by filtration in the initial step (underlined), was completely dissolved in water to give an aqueous solution (solution **K**; 10.0 L).

Then, additional precipitation titrations using solution **G** were carried out, and the endpoints of the titrations with **G** were as follows:

·For solution **J** (entire amount): 61.6 mL.

·For 100 mL of solution **K**: 44.4 mL.

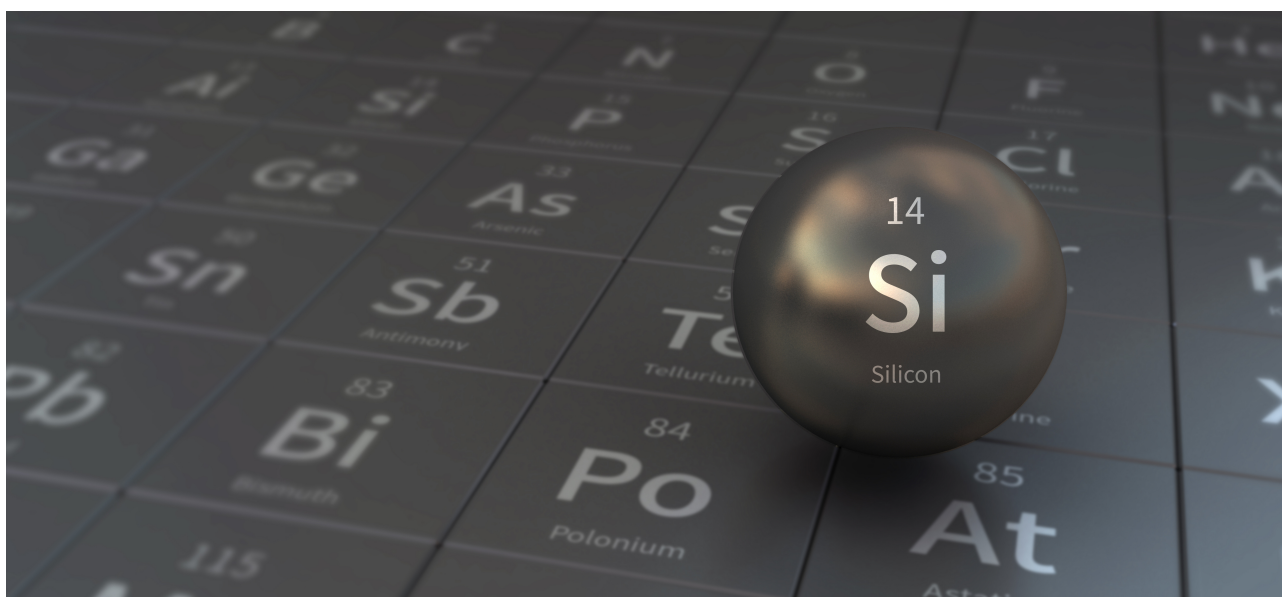
It should be noted here that the coexistence of  $\text{NaCl}$  or  $\text{SiO}_2$  has no effect on the precipitation titration.

<p><b>B.2</b>    <b>Calculate</b> the mass of the <math>\text{NaCl}</math> produced in the reaction vessel (<u>information</u> underlined), and <b>calculate</b> the mass (<math>x</math> [g]) of the <math>\text{Na}_2\text{SiF}_6</math> used as a starting material.</p>	15pt
---	------

<p><b>B.3</b>    77.8% of the <math>\text{CCl}_4</math> used as a starting material was unreacted. <b>Calculate</b> the mass of <math>\text{CF}_3\text{Cl}</math> generated.</p>	8pt
--	-----

## Загадочный кремний

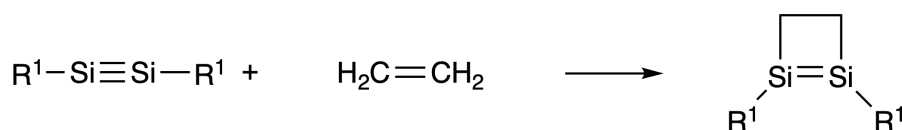
Вес: 12%								
Вопрос	A.1	A.2	A.3	A.4	B.1	B.2	B.3	Всего
Очки	9	7	6	10	5	15	8	<b>60</b>
Оценка								



Хотя кремний и углерод находятся в одной и той же 14-ой группе, их свойства существенно различны.

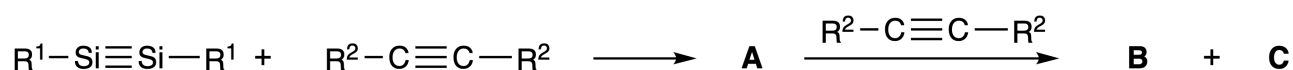
### Часть А

В отличие от тройной связи углерод-углерод, тройная связь кремний-кремний в соединении  $R^1-Si \equiv Si-R^1$  ( $R$ : органический заместитель) проявляет исключительно высокую реакционную способность. Например, указанное выше соединение реагирует с этиленом с образованием циклического продукта, содержащего четырехчленный цикл.



При взаимодействии  $R^1-Si \equiv Si-R^1$  с алкином ( $R^2-C \equiv C-R^2$ ), образуется **A**, содержащее четырехчленный цикл. Дальнейшая реакция еще одной молекулы  $R^2-C \equiv C-R^2$  с **A** приводит к образованию изомеров **B** и **C**, обладающих бензоло-подобной циклической системой сопряженных связей.

Эти так называемые ‘дисилабензолы’ содержат шестичленные циклы и могут быть представлены как  $(R^1-Si)_2(R^2-C)_4$ .



По данным  $^{13}C$  ЯМР спектроскопии циклический скелет  $Si_2C_4$  дает два сигнала в случае **B** и один сигнал в случае **C**.

**A.1** Изобразите по одной резонансной структуре **A**, **B** и **C**, используя обозначения  $R^1$ ,  $R^2$ , Si и C. 9pt

**A.2** Рассчитайте энергию ароматической стабилизации (ASE) для бензола и соединения **C** (для случая  $R^1 = R^2 = H$ ) в виде положительных значений, используя изменения энтальпии некоторых реакций гидрирования ненасыщенных систем, приведенных ниже (рис. 1). 7pt

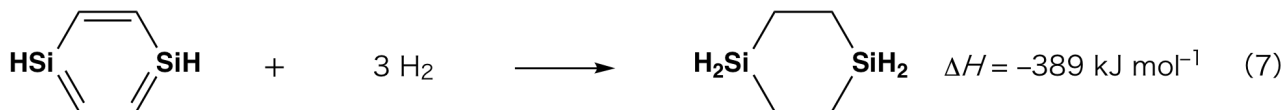
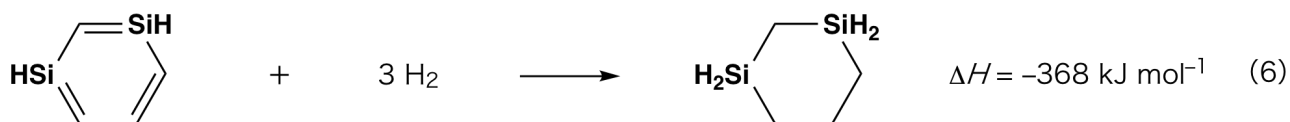
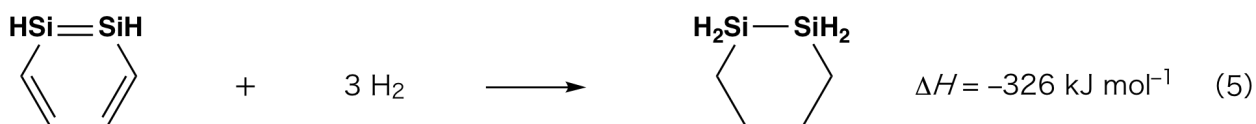



Рис. 1

При нагревании ксилольного раствора соединения **C** оно претерпевает изомеризацию с образованием равновесной смеси соединений **D** и **E**. Установлены следующие молярные соотношения: **D** : **E** = 1 : 40.0 при 50.0 °C и **D** : **E** = 1 : 20.0 при 120.0 °C.

**A.3** Рассчитайте  $\Delta H$  превращения **D** в **E**. Считайте, что  $\Delta H$  не зависит от температуры. 6pt

Изомеризация **C** в **D** и **E** протекает через преобразование  $\pi$ -связей в  $\sigma$ -связи без разрыва каких-либо  $\sigma$ -связей. По данным  $^{13}\text{C}$  ЯМР в спектре **D** присутствует один сигнал циклического скелета  $\text{Si}_2\text{C}_4$ , а в спектре **E** - два сигнала циклического скелета. В скелете **D** отсутствуют трехчленные циклы, а в скелете **E** присутствуют два трехчленных цикла с общим ребром.

**A.4** Изобразите структуры **D** и **E**, используя обозначения  $\text{R}^1$ ,  $\text{R}^2$ , Si и C. 10pt

## Часть B

Кремний также способен образовывать высококоординированные соединения (больше четырех заместителей) с электроотрицательными элементами, такими как фтор. Наряду с фторидами металлов, фториды высококоординированного кремния используются как фторирующие реагенты.

Реакцию фторирования  $\text{CCl}_4$  с использованием  $\text{Na}_2\text{SiF}_6$  осуществили следующим образом.

- **Стандартизация раствора  $\text{Na}_2\text{SiF}_6$  :**

- Приготовление

Водный раствор **F**: 0.855 г  $\text{Na}_2\text{SiF}_6$  ( $188.053 \text{ г моль}^{-1}$ ) растворили в воде (общий объем 200 мл).

Водный раствор **G**: 6.86 г  $\text{Ce}_2(\text{SO}_4)_3$  ( $568.424 \text{ г моль}^{-1}$ ) растворили в воде (общий объем 200 мл).

- Методика

Проводили осадительное титрование раствора **F** (50.0 мл), добавляя по каплям раствор **G**, **используя** в качестве индикатора ксиленоловый оранжевый, который координируется с  $\text{Ce}^{3+}$ . После добавления 18.8 мл раствора **G** цвет титруемого раствора изменился с желтого на пурпурно-красный. Образовавшийся осадок представляет собой бинарное соединение, содержащее  $\text{Ce}^{3+}$ , а единственным образующимся соединением кремния является  $\text{Si}(\text{OH})_4$ .

**B.1** Запишите уравнение реакции  $\text{Na}_2\text{SiF}_6$  с  $\text{Ce}_2(\text{SO}_4)_3$ . 5pt

- **Реакция  $\text{CCl}_4$  с  $\text{Na}_2\text{SiF}_6$ :**

(Пренебрегите потерями вещества, например, в результате испарения, на нижеследующих стадиях).

$\text{Na}_2\text{SiF}_6$  ( $x$  [г]) добавили к  $\text{CCl}_4$  (500.0 г) и нагрели до 300 °C в запаянном реакционном сосуде, выдерживая повышенное давление. Непрореагировавший  $\text{Na}_2\text{SiF}_6$  и образовавшийся  $\text{NaCl}$  удалили фильтрованием. Фильтрат разбавили  $\text{CCl}_4$  до общего объема 1.00 л (раствор **H**). Спектры  $^{29}\text{Si}$  и  $^{19}\text{F}$  ЯМР раствора **H** показали, что  $\text{SiF}_4$  присутствует в качестве единственного кремнийсодержащего соединения. В спектре  $^{19}\text{F}$  ЯМР, помимо  $\text{SiF}_4$ , были обнаружены сигналы, соответствующие  $\text{CFCl}_3$ ,  $\text{CF}_2\text{Cl}_2$ ,  $\text{CF}_3\text{Cl}$  и  $\text{CF}_4$  (см. Таблицу 1). Интегральные интенсивности в спектрах  $^{19}\text{F}$  ЯМР пропорциональны количеству ядер фтора.



Таблица 1

Данные $^{19}\text{F}$ ЯМР	$\text{CFCl}_3$	$\text{CF}_2\text{Cl}_2$	$\text{CF}_3\text{Cl}$	$\text{CF}_4$
Интегральная интенсивность	45.0	65.0	18.0	2.0

$\text{SiF}_4$  гидролизуеться с образованием  $\text{H}_2\text{SiF}_6$  согласно уравнению (8) :



Раствор **H** (10 мл) добавили к избытку воды, что привело к полному гидролизу  $\text{SiF}_4$ . После разделения  $\text{H}_2\text{SiF}_6$ , полученный в результате гидролиза в водном растворе, был нейтрализован и полностью переведен в  $\text{Na}_2\text{SiF}_6$  (водный раствор **J**).

Осадок, содержащий непрореагировавший  $\text{Na}_2\text{SiF}_6$  и  $\text{NaCl}$ , который был получен фильтрованием ранее (см. выше подчеркнутый текст), полностью растворили в воде (раствор **K**; 10.0 л).

Далее провели новое осадительное титрование, используя раствор **G**. Конечные точки титрования раствором **G** приведены ниже:

·Для всего количества раствора **J**: 61.6 мл.

·Для 100 мл раствора **K**: 44.4 мл.

Учтите, что присутствие  $\text{NaCl}$  или  $\text{SiO}_2$  не сказывается на результатах осадительного титрования.

**V.2** Рассчитайте массу  $\text{NaCl}$ , полученного в реакционном сосуде (подчеркнутый текст выше), и рассчитайте массу ( $x$  [г])  $\text{Na}_2\text{SiF}_6$ , использованного в качестве исходного вещества. 15pt

**V.3** 77.8%  $\text{CCl}_4$ , использованного в качестве исходного вещества, осталось непрореагировавшим. Рассчитайте массу образовавшегося  $\text{CF}_3\text{Cl}$ . 8pt



KAZ-4 C-5 A-1

**A5-1**  
Kazakhstani Russian (Kazakhstan)

## Загадочный кремний

### Часть А

**A.1** (9 pt)

**A** (3 pt)

**B** (3 pt)

**C** (3 pt)

**A.2** (7 pt)

$C_6H_6$  :

кДж моль<sup>-1</sup>, **C** :

кДж моль<sup>-1</sup>



KAZ-4 C-5 A-2

# A5-2

Kazakhstani Russian (Kazakhstan)

**A.3** (6 pt)

$\Delta H =$  \_\_\_\_\_ кДж моль<sup>-1</sup>

**A.4** (10 pt)

**D** (5 pt)

**E** (5 pt)



KAZ-4 C-5 A-3

**A5-3**  
Kazakhstani Russian (Kazakhstan)

**Часть В**

**B.1** (5 pt)

---

**B.2** (15 pt)

(Продолжайте на следующей странице)



KAZ-4 C-5 A-4

**A5-4**  
Kazakhstani Russian (Kazakhstan)

B.2 (cont.)

NaCl : \_\_\_\_\_ г, Na<sub>2</sub>SiF<sub>6</sub> : \_\_\_\_\_ г



KAZ-4 C-5 A-5

**A5-5**  
Kazakhstani Russian (Kazakhstan)

**B.3** (8 pt)

$\text{CF}_3\text{Cl}$  : \_\_\_\_\_  $\Gamma$

KAZ-4 C-6 C-1

**KAZ-4 C-6 C**  
Sanzhar Bissenali

**IChO**  
**Problem 6**  
**Cover sheet**

Please return this cover sheet together with all the related question sheets.

## The Solid-State Chemistry of Transition Metals

13 % of the total											
Question	A.1	A.2	A.3	B.1	B.2	B.3	B.4	C.1	C.2	C.3	Total
Points	6	3	3	6	4	4	4	5	5	5	<b>45</b>
Score											



Volcano at Sakurajima island

### Part A

Japan is one of the countries with the highest numbers of volcanos worldwide. When silicate minerals crystallize from magma, a part of the transition-metal ions ( $M^{n+}$ ) in the magma is incorporated into the silicate minerals. The  $M^{n+}$  studied in the problem are coordinated by oxide ions ( $O^{2-}$ ) and adopt a four-coordinate tetrahedral ( $T_d$ ) geometry in the magma and six-coordinate octahedral ( $O_h$ ) geometry in the silicate minerals, both of which exhibit a high-spin electron configuration. The distribution coefficient of  $M^{n+}$  between the silicate minerals and magma,  $D$ , can be expressed by:

$$D = \frac{[M]_s}{[M]_l}$$

where  $[M]_s$  and  $[M]_l$  are the concentrations of  $M^{n+}$  in the silicate minerals and the magma, respectively. The table below shows the  $D$  values of  $Cr^{2+}$  and  $Mn^{2+}$  as examples.

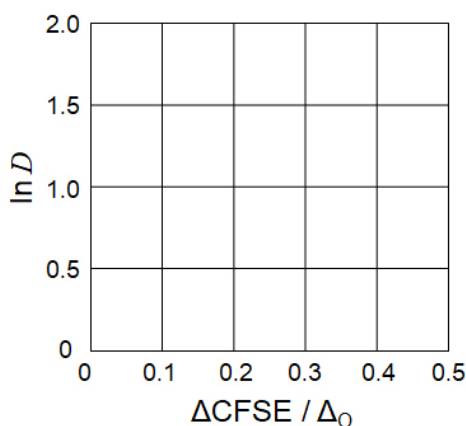
	$Cr^{2+}$	$Mn^{2+}$
$D$	7.2	1.1



Let  $\Delta_o$  and  $CFSE^O$  be the energy separation of the d-orbitals of  $M^{n+}$  and the crystal-field stabilization energy in a  $O_h$  field, respectively. Let  $\Delta_T$  and  $CFSE^T$  be those in a  $T_d$  field.

**A.1 Calculate**  $|CFSE^O - CFSE^T| = \Delta CFSE$  in terms of  $\Delta_o$  for  $Cr^{2+}$ ,  $Mn^{2+}$ , and  $Co^{2+}$ ; assume  $\Delta_T = 4/9\Delta_o$ . 6pt

**A.2** A linear relationship is observed by plotting  $\ln D$  against  $\Delta CFSE / \Delta_o$  in the Cartesian coordinate system shown below. 3pt  
**Estimate**  $D$  for  $Co^{2+}$ .



Metal oxides MO (M: Ca, Ti, V, Mn, or Co) crystallize in a rock-salt structure wherein the  $M^{n+}$  adopts an  $O_h$  geometry with a high-spin electron configuration. The lattice enthalpy of these oxides is mainly governed by the Coulomb interactions based on the radius and charge of the ions and some contributions from the CFSE of  $M^{n+}$  in the  $O_h$  field.

**A.3 Choose** the appropriate set of lattice enthalpies [ $kJ\ mol^{-1}$ ] from one of the options (a) to (f). 3pt

	CaO	TiO	VO	MnO	CoO
(a)	3460	3878	3913	3810	3916
(b)	3460	3916	3878	3810	3913
(c)	3460	3913	3916	3810	3878
(d)	3810	3878	3913	3460	3916
(e)	3810	3916	3878	3460	3913
(f)	3810	3913	3916	3460	3878

**Part B**

A mixed oxide **A**, which contains  $\text{La}^{3+}$  and  $\text{Cu}^{2+}$ , crystallizes in a tetragonal unit cell shown in Fig.1. In the  $[\text{CuO}_6]$  octahedron, the Cu–O length along the z-axis ( $l_z$ ) is longer than that of the x-axis ( $l_x$ ), and  $[\text{CuO}_6]$  is distorted from the regular  $O_h$  geometry. This distortion removes the degeneracy of the  $e_g$  orbitals ( $d_{x^2-y^2}$  and  $d_{z^2}$ ).

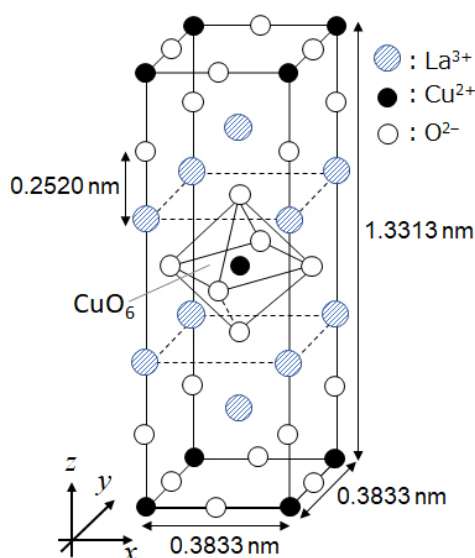


Fig. 1

**A** can be synthesized by thermal decomposition (pyrolysis) of complex **B**, which is formed by mixing metal chlorides in dilute aqueous ammonia solution containing squaric acid  $\text{C}_4\text{H}_2\text{O}_4$ , i.e., a diacid. The pyrolysis behavior of **B** in dry air shows a weight loss of 29.1% up to 200 °C due to the loss of crystallization water, followed by another weight loss up to 700 °C due to the release of  $\text{CO}_2$ . The total weight loss during the formation of **A** from **B** is 63.6%. It should be noted that only water and  $\text{CO}_2$  are released in the pyrolysis reaction.

**B.1** Write the chemical formulae for **A** and **B**.

6pt

**B.2** Calculate  $l_x$  and  $l_z$  using Fig. 1.

4pt

**B.3** For  $\text{Cu}^{2+}$  in the distorted  $[\text{CuO}_6]$  octahedron in **A** of Fig. 1, write the names of the split  $e_g$  orbitals ( $d_{x^2-y^2}$  and  $d_{z^2}$ ) in (i) and (ii), and draw the electron configuration in the dotted box in your answer sheet.

4pt

**A** is an insulator. When one  $\text{La}^{3+}$  is substituted with one  $\text{Sr}^{2+}$ , one hole is generated in the crystal lattice that can conduct electricity. As a result, the  $\text{Sr}^{2+}$ -doped **A** shows superconductivity below 38 K. When a substitution reaction took place for **A**,  $2.05 \times 10^{27}$  holes  $\text{m}^{-3}$  were generated.

**B.4** **Calculate** the percentage of  $\text{Sr}^{2+}$  substituted for  $\text{La}^{3+}$  based on the mole ratio in the substitution reaction. Note that the valences of the constituent ions and the crystal structure are not altered by the substitution reaction. 4pt

### Part C

$\text{Cu}_2(\text{CH}_3\text{CO}_2)_4$  is composed of four  $\text{CH}_3\text{CO}_2^-$  coordinated to two  $\text{Cu}^{2+}$  (Fig. 2A).  $\text{Cu}_2(\text{CH}_3\text{CO}_2)_4$  exhibits high levels of structural symmetry, with two axes passing through the carbon atoms of the four  $\text{CH}_3\text{CO}_2^-$  and an axis passing through the two  $\text{Cu}^{2+}$ , all of which are oriented orthogonal relative to each other. When a dicarboxylate ligand is used instead of  $\text{CH}_3\text{CO}_2^-$ , a "cage complex" is formed. The cage complex  $\text{Cu}_4(\text{L1})_4$  is composed of planar dicarboxylate **L1** (Fig. 2B) and  $\text{Cu}^{2+}$  (Fig. 2C). The angle  $\theta$  between the coordination directions of the two carboxylates, indicated by the arrows in Fig. 2B, determines the structure of the cage complex. The  $\theta$  is  $0^\circ$  for **L1**. Note that hydrogen atoms are not shown in Fig. 2.

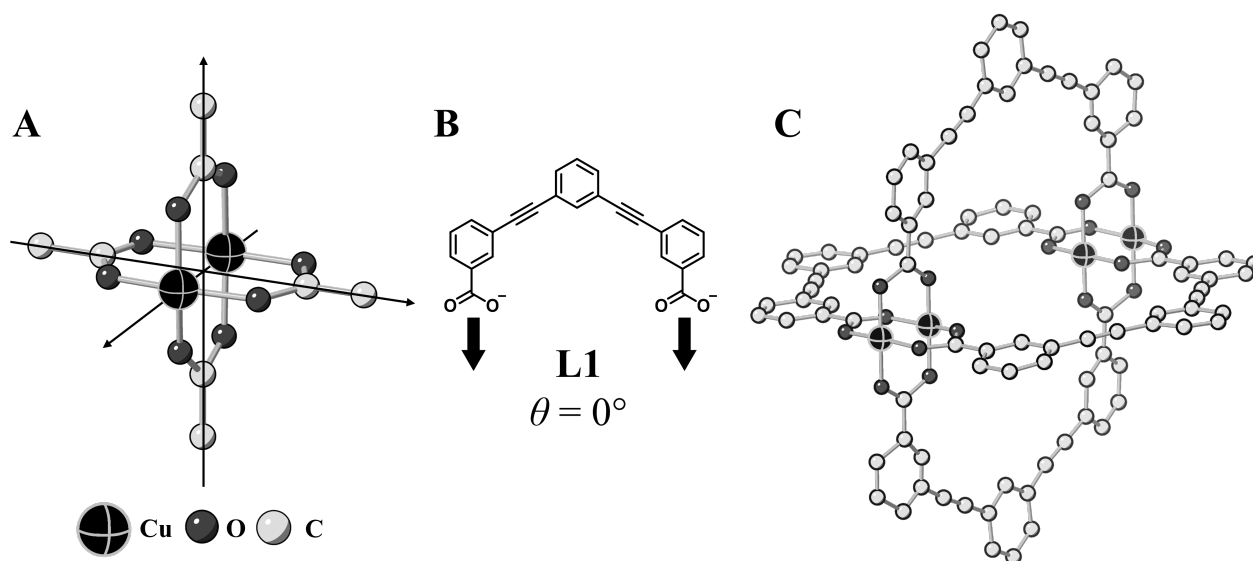
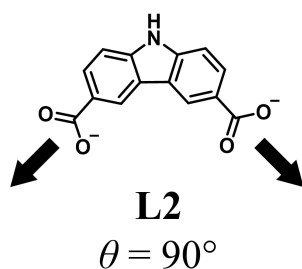


Fig. 2

- C.1** The  $\theta$  of the planar dicarboxylate **L2** below is fixed to  $90^\circ$ . If the composition of the cage complex formed from **L2** and  $\text{Cu}^{2+}$  is  $\text{Cu}_n(\text{L2})_m$ , **give** the smallest integer combination of  $n$  and  $m$ . Assume that only the  $\text{CO}_2^-$  groups of **L2** form a coordination bond to  $\text{Cu}^{2+}$  ions. 5pt



A zinc complex,  $\text{Zn}_4\text{O}(\text{CH}_3\text{CO}_2)_6$ , contains four tetrahedral  $\text{Zn}^{2+}$ , six  $\text{CH}_3\text{CO}_2^-$ , and one  $\text{O}^{2-}$  (Fig. 3A). In  $\text{Zn}_4\text{O}(\text{CH}_3\text{CO}_2)_6$ , the  $\text{O}^{2-}$  is located at the origin, and the three axes passing through the carbon atoms of  $\text{CH}_3\text{CO}_2^-$  are oriented orthogonal relative to each other. When *p*-benzenedicarboxylate (Fig. 3B, **L3**,  $\theta = 180^\circ$ ) is used instead of  $\text{CH}_3\text{CO}_2^-$ , the  $\text{Zn}^{2+}$  clusters are linked to each other to form a crystalline solid (**X**) that is called a “porous coordination polymer” (Fig. 3C). The composition of **X** is  $[\text{Zn}_4\text{O}(\text{L3})_3]_n$ , and it has a cubic crystal structure with nano-sized pores. One pore is represented as a sphere in Fig. 3D, and each tetrahedral  $\text{Zn}^{2+}$  cluster is represented as a dark gray polyhedron in Fig. 3C and 3D. Note that hydrogen atoms are not shown in Fig. 3.

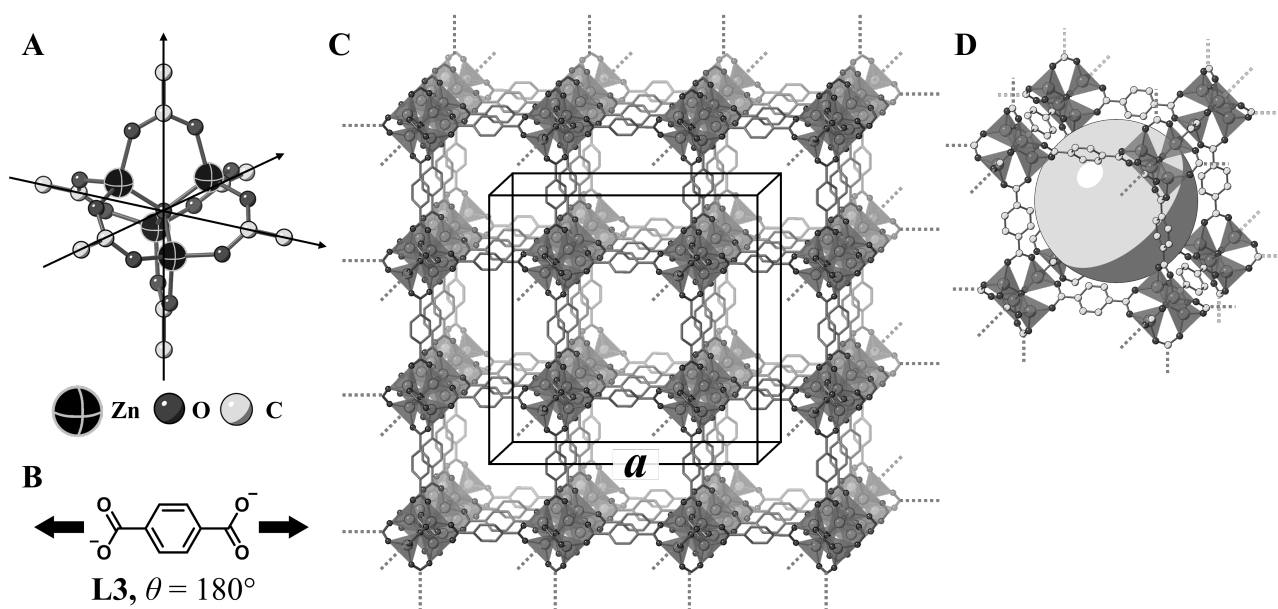


Fig. 3

**C.2** **X** has a cubic unit cell with a side length of *a* (Fig. 3C) and a density of 0.592 g cm<sup>-3</sup>. **Calculate** *a* in [cm]. 5pt

**C.3** **X** contains a considerable number of pores, and 1 g of **X** can accommodate  $3.0 \times 10^2$  mL of CO<sub>2</sub> gas in the pores at 1 bar and 25 °C. **Calculate** the average number of CO<sub>2</sub> molecules per pore. 5pt

## Химия твердых соединений переходных металлов

Вес: 13%											
Вопрос	A.1	A.2	A.3	B.1	B.2	B.3	B.4	C.1	C.2	C.3	Всего
Очки	6	3	3	6	4	4	4	5	5	5	<b>45</b>
Оценка											



Вулкан на острове Сакурадзима

### Часть А

Япония - страна с наибольшим количеством вулканов. Когда силикатные минералы кристаллизуются из магмы, часть ионов переходных металлов ( $M^{n+}$ ) переходит из магмы в силикатные минералы. Ионы  $M^{n+}$ , о которых идет речь в данной задаче, координированы оксид-ионами ( $O^{2-}$ ) и находятся в четырехкоординированном тетраэдрическом окружении ( $T_d$ ) в магме и шестикоординированном октаэдрическом ( $O_h$ ) в силикатных минералах, в обоих случаях - в высокоспиновой электронной конфигурации. Коэффициент распределения  $M^{n+}$  между силикатным минералом и магмой,  $D$ , определяется выражением:

$$D = \frac{[M]_s}{[M]_l}$$

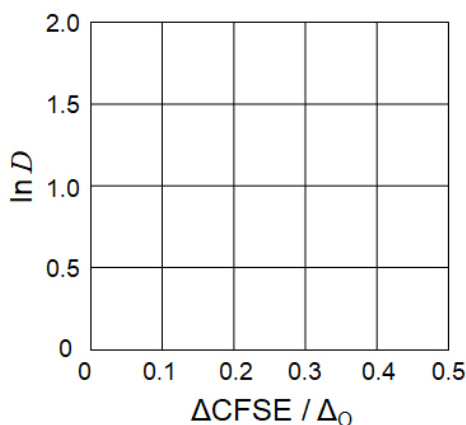
где  $[M]_s$  и  $[M]_l$  - концентрации  $M^{n+}$  в силикатном минерале и магме, соответственно. В таблице ниже приведены значения  $D$  для  $Cr^{2+}$  и  $Mn^{2+}$  в качестве примера.

	$Cr^{2+}$	$Mn^{2+}$
$D$	7.2	1.1

Введем обозначения  $\Delta_O$  и  $CFSE^O$  для энергии расщепления d-орбиталей  $M^{n+}$  и энергии стабилизации кристаллическим полем (ЭСКП) в поле  $O_h$ , соответственно. Аналогичные величины в поле  $T_d$  обозначим как  $\Delta_T$  и  $CFSE^T$ .

**A.1** **Рассчитайте**  $|CFSE^O - CFSE^T| = \Delta CFSE$  в единицах  $\Delta_O$  для  $Cr^{2+}$ ,  $Mn^{2+}$  и  $Co^{2+}$ ; 6pt  
 примите, что  $\Delta_T = \frac{4}{9} \Delta_O$ .

**A.2** Построение зависимости  $\ln D$  от  $\Delta CFSE / \Delta_O$  на нижеприведенном графике 3pt  
 дает прямую линию.  
**Оцените**  $D$  для  $Co^{2+}$ .



Оксиды металлов MO (M: Ca, Ti, V, Mn или Co) имеют структуру каменной соли, в которой ионы  $M^{n+}$  имеют  $O_h$  окружение и высокоспиновую электронную конфигурацию. Энергия кристаллической решетки этих оксидов в основном определяется кулоновским взаимодействием ионов, зависящим от радиусов и зарядов ионов, с небольшим вкладом  $CFSE$  иона  $M^{n+}$  в поле  $O_h$ .

**A.3** **Выберите** подходящую строку энергий кристаллических решеток 3pt  
 [кДж моль<sup>-1</sup>] из вариантов (a)-(f).

	CaO	TiO	VO	MnO	CoO
(a)	3460	3878	3913	3810	3916
(b)	3460	3916	3878	3810	3913
(c)	3460	3913	3916	3810	3878
(d)	3810	3878	3913	3460	3916
(e)	3810	3916	3878	3460	3913
(f)	3810	3913	3916	3460	3878

**Часть В**

Смешанный оксид **A**, содержащий ионы  $\text{La}^{3+}$  и  $\text{Cu}^{2+}$ , имеет тетрагональную ячейку, показанную на рис. 1. В октаэдре  $[\text{CuO}_6]$ , расстояние  $\text{Cu}-\text{O}$  вдоль оси  $z$  ( $l_z$ ) больше, чем вдоль оси  $x$  ( $l_x$ ), и геометрия фрагмента  $[\text{CuO}_6]$  отклоняется от идеальной  $O_h$ . Это искажение приводит к снятию вырождения орбиталей  $e_g$  ( $d_{x^2-y^2}$  и  $d_{z^2}$ ).

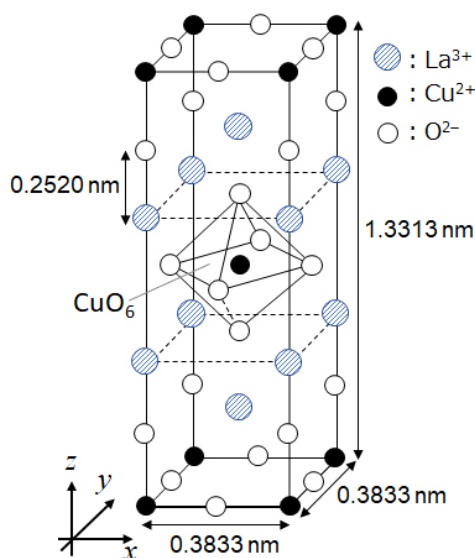


Рис. 1

**A** может быть синтезировано путем термического разложения (пиролиза) комплексного соединения **B**, образующегося при растворении смеси хлоридов металлов в разбавленном растворе аммиака, содержащем квадратную кислоту  $\text{C}_4\text{H}_2\text{O}_4$ , являющуюся двухосновной. При нагревании **B** в сухом воздухе до  $200^\circ\text{C}$  происходит уменьшение массы на 29.1% из-за потери кристаллизационной воды, а при дальнейшем нагревании до  $700^\circ\text{C}$  происходит дополнительная потеря массы из-за выделения  $\text{CO}_2$ . Общая потеря массы при образовании **A** из **B** составляет 63.6%. В ходе пиролиза выделяются только вода и  $\text{CO}_2$ .

<b>V.1</b>	<b>Напишите</b> формулы веществ <b>A</b> и <b>B</b> .	6pt
<b>V.2</b>	<b>Рассчитайте</b> $l_x$ и $l_z$ по рис. 1.	4pt
<b>V.3</b>	Для $\text{Cu}^{2+}$ в искаженном октаэдре $[\text{CuO}_6]$ в веществе <b>A</b> на рис. 1 <b>запишите</b> обозначения ( $d_{x^2-y^2}$ и $d_{z^2}$ ) расщепленных $e_g$ орбиталей в (i) и (ii) и <b>изобразите</b> распределение электронов по этим орбиталям в пунктирной рамочке в листе ответов.	4pt



**A** является изолятором. Если ион  $\text{La}^{3+}$  заменить ионом  $\text{Sr}^{2+}$ , в кристаллической решетке образуется дырка, благодаря чему кристалл становится проводником. Поэтому допированное ионами  $\text{Sr}^{2+}$  вещество **A** проявляет сверхпроводящее состояние ниже 38 К. В одном из случаев допирования **A** образовались дырки в концентрации  $2.05 \times 10^{27} \text{ м}^{-3}$ .

**В.4** **Рассчитайте** долю (в %) ионов  $\text{La}^{3+}$ , замещенных ионами  $\text{Sr}^{2+}$ , основываясь на стехиометрии реакции замещения. Учтите, что координационные числа ионов и структура кристалла не меняются в ходе реакции замещения. 4pt

### Часть С

$\text{Cu}_2(\text{CH}_3\text{CO}_2)_4$  состоит из четырех ионов  $\text{CH}_3\text{CO}_2^-$ , координированных двумя ионами  $\text{Cu}^{2+}$  (рис. 2А).  $\text{Cu}_2(\text{CH}_3\text{CO}_2)_4$  высокосимметричен: в нем есть две оси симметрии, проходящие через атомы углерода ионов четырех  $\text{CH}_3\text{CO}_2^-$ , и ось симметрии, проходящая через два иона  $\text{Cu}^{2+}$ , причем все эти три оси перпендикулярны друг другу. Если вместо  $\text{CH}_3\text{CO}_2^-$  использовать дикарбоксилатный лиганд, образуется "каркасный комплекс". Каркасный комплекс  $\text{Cu}_4(\text{L1})_4$  состоит из плоского дикарбоксилата **L1** (рис. 2В) и  $\text{Cu}^{2+}$  (рис. 2С). Угол  $\theta$  между направлениями координации двух карбоксилатов, показанными стрелками на рис. 2В, определяет структуру каркасного комплекса. Угол  $\theta$  равен  $0^\circ$  для **L1**. Учтите, что атомы водорода на рис. 2 не показаны.

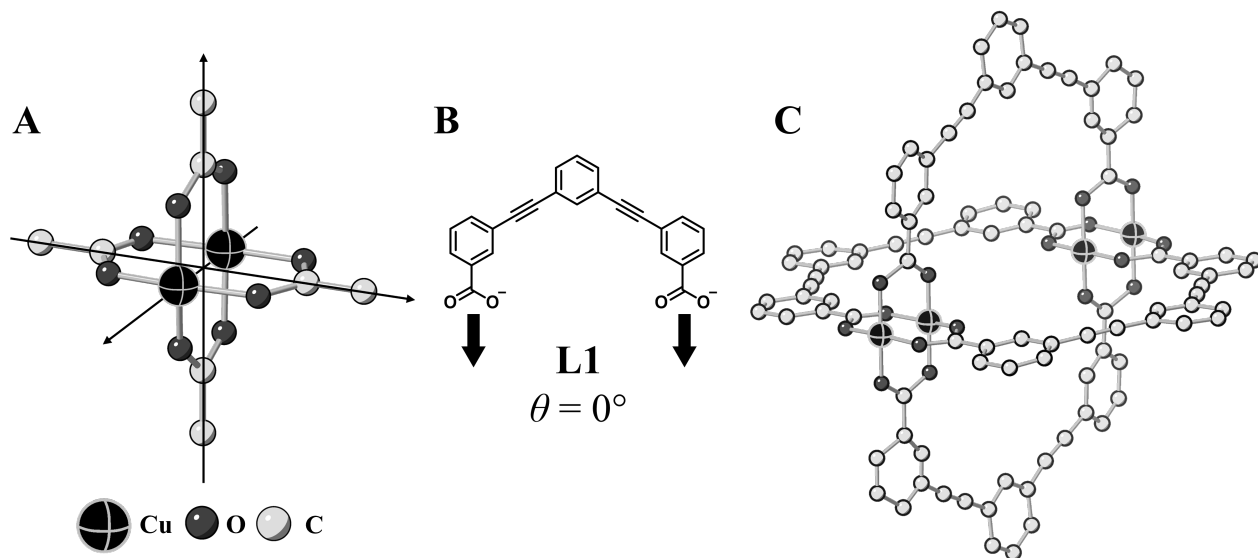
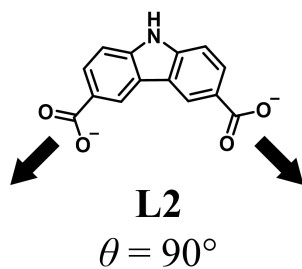


Рис. 2

- C.1** Угол  $\theta$  нижеприведенного плоского дикарбоксилата **L2** равен  $90^\circ$ . Обозначив состав образующегося из **L2** и  $\text{Cu}^{2+}$  каркасного комплекса как  $\text{Cu}_n(\text{L2})_m$ , **определите** наименьшие возможные целые значения  $n$  и  $m$ . Примите, что только группы  $\text{CO}_2^-$  лиганда **L2** образуют координационные связи с ионами  $\text{Cu}^{2+}$ . 5pt



Цинковый комплекс  $Zn_4O(CH_3CO_2)_6$  содержит четыре тетраэдрически координированных иона  $Zn^{2+}$ , шесть  $CH_3CO_2^-$  и один  $O^{2-}$  (Рис. 3А). В  $Zn_4O(CH_3CO_2)_6$  ион  $O^{2-}$  находится в центре, а три оси, проходящие через атомы углерода ионов  $CH_3CO_2^-$ , перпендикулярны друг другу. Если использовать *n*-бензолдикарбоксилат (рис. 3В, **L3**,  $\theta = 180^\circ$ ) вместо  $CH_3CO_2^-$ , кластеры  $Zn^{2+}$  оказываются связанными друг с другом, и образуется твердое соединение (**X**), называемое “пористым координационным полимером” (рис. 3С). Вещество **X** имеет состав  $[Zn_4O(L3)_3]_n$  и кубическую кристаллическую решетку с порами нанометрового размера. Каждая пора изображена сферой на рис. 3D, а каждый тетраэдрический кластер  $Zn^{2+}$  - темно-серым многогранником на рис. 3С и 3D. Учтите, что атомы водорода на рис. 3 не показаны.

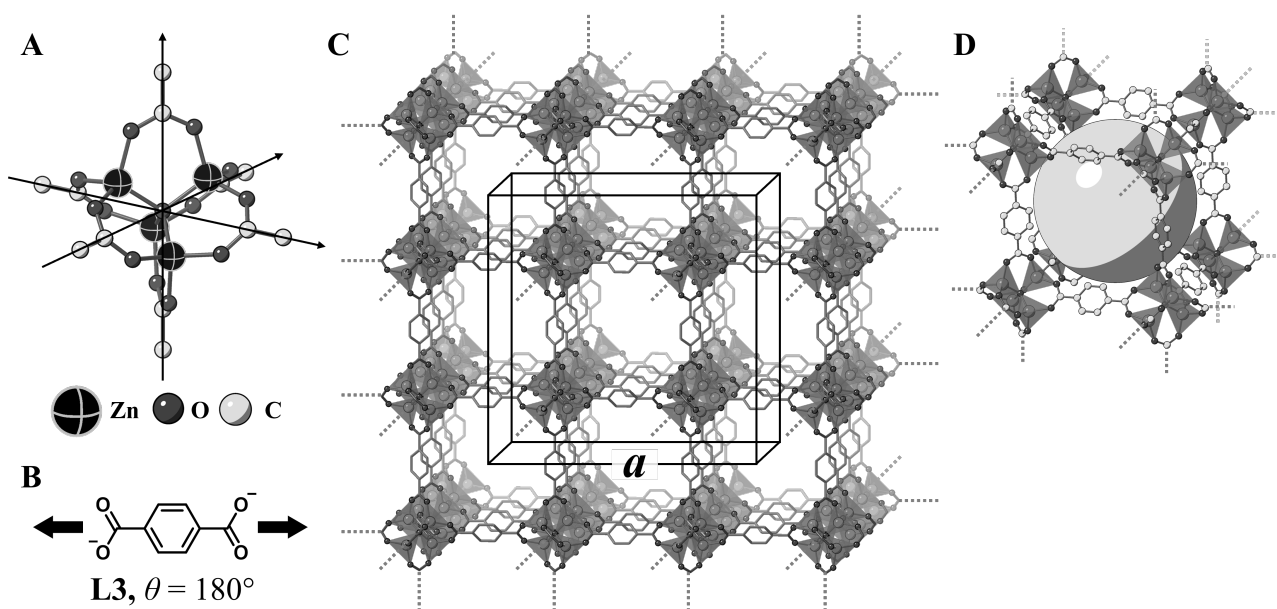


Рис. 3

**C.2** **X** имеет кубическую элементарную ячейку с длиной ребра  $a$  (рис. 3С) и плотностью  $0.592 \text{ г см}^{-3}$ . **Рассчитайте**  $a$  в см. 5pt

**C.3** **X** содержит значительное количество пор; 1 г **X** может поглотить до  $3.0 \times 10^2$  мл  $CO_2$  при 1 бар и  $25^\circ C$ . **Рассчитайте** среднее число молекул  $CO_2$ , приходящихся на одну пору. 5pt



KAZ-4 C-6 A-1

# A6-1

Kazakhstani Russian (Kazakhstan)

## Химия твердых соединений переходных металлов

### Часть А

A.1 (6 pt)

$\text{Cr}^{2+}$  : \_\_\_\_\_  $\Delta_o$ ,  $\text{Mn}^{2+}$  : \_\_\_\_\_  $\Delta_o$ ,  $\text{Co}^{2+}$  : \_\_\_\_\_  $\Delta_o$

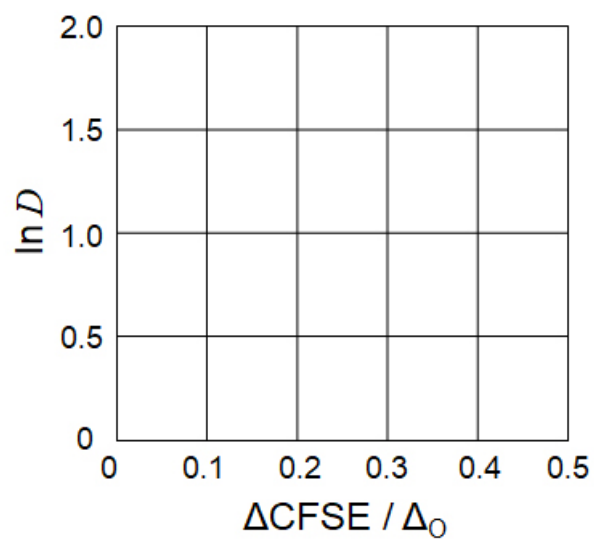


KAZ-4 C-6 A-2

# A6-2

Kazakhstani Russian (Kazakhstan)

**A.2** (3 pt)



$D$ : \_\_\_\_\_

**A.3** (3 pt)

\_\_\_\_\_



KAZ-4 C-6 A-3

# A6-3

Kazakhstani Russian (Kazakhstan)

## Часть В

**B.1** (6 pt)

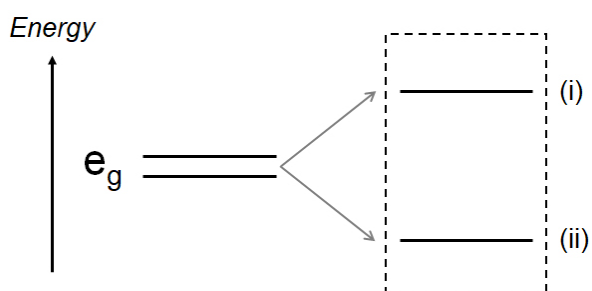
A: \_\_\_\_\_, B: \_\_\_\_\_

**B.2** (4 pt)

$l_x =$  \_\_\_\_\_ HM,  $l_z =$  \_\_\_\_\_ HM

**B.3** (4 pt)

(i) : \_\_\_\_\_ , (ii) : \_\_\_\_\_



**B.4** (4 pt)

\_\_\_\_\_ %



KAZ-4 C-6 A-5

# A6-5

Kazakhstani Russian (Kazakhstan)

## Часть С

**C.1** (5 pt)

$n =$  \_\_\_\_\_,  $m =$  \_\_\_\_\_

**C.2** (5 pt)

$a =$  \_\_\_\_\_ CM





KAZ-4 C-6 A-6

**A6-6**  
Kazakhstani Russian (Kazakhstan)

**C.3** (5 pt)

---

KAZ-4 C-7 C-1

**KAZ-4 C-7 C**  
Sanzhar Bissenali

**IChO**  
**Problem 7**  
**Cover sheet**

Please return this cover sheet together with all the related question sheets.

## Playing with Non-benzenoid Aromaticity

13 % of the total					
Question	A.1	A.2	A.3	B.1	Total
Points	5	2	19	10	<b>36</b>
Score					

Prof. Nozoe (1902–1996) opened the research field of non-benzenoid aromatic compounds, which are now ubiquitous in organic chemistry.



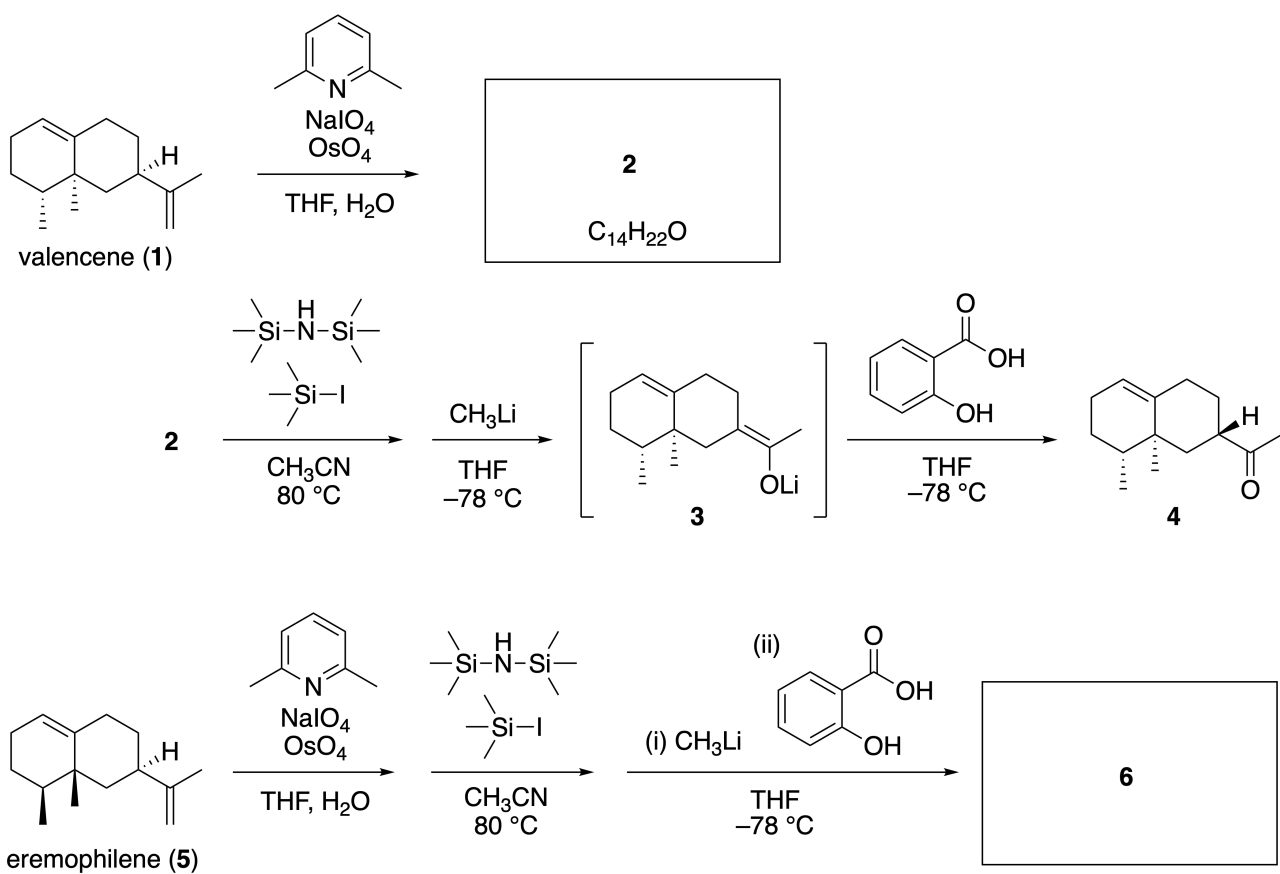
Photo courtesy: Tohoku Univ.

### Part A

Lineariifolianone is a natural product with a unique structure, which was isolated from *Inula linariifolia*. From valencene (**1**), a one-step conversion yields **2**, before a three-step conversion via **3** yields ketone **4**. Eremophilene (**5**) is converted into **6** by performing the same four-step conversion.



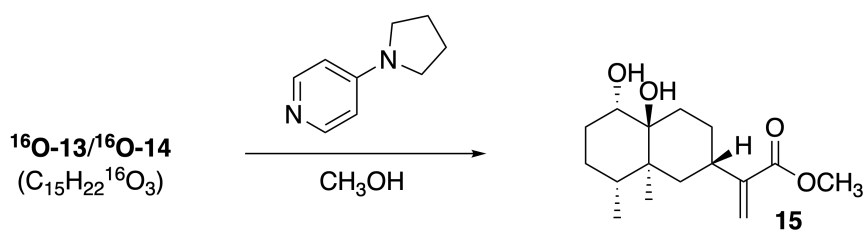
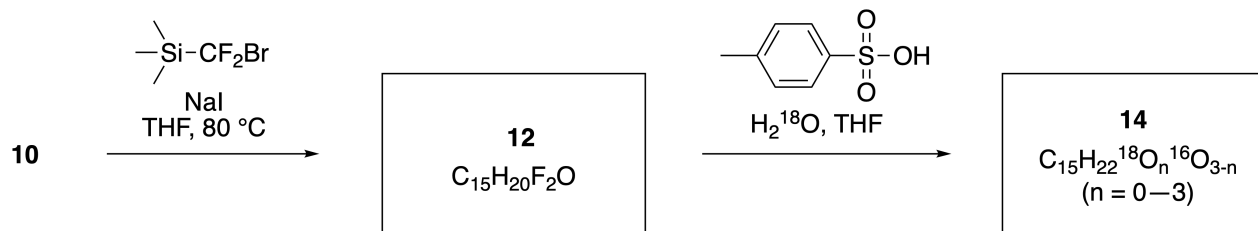
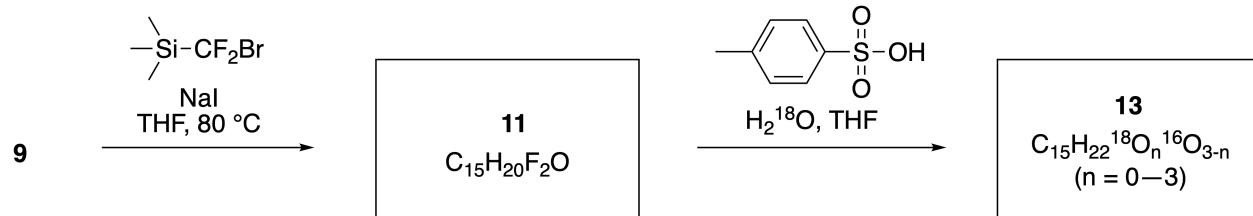
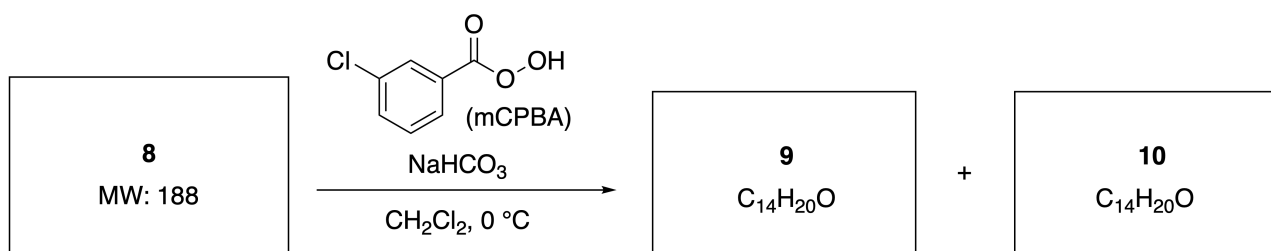
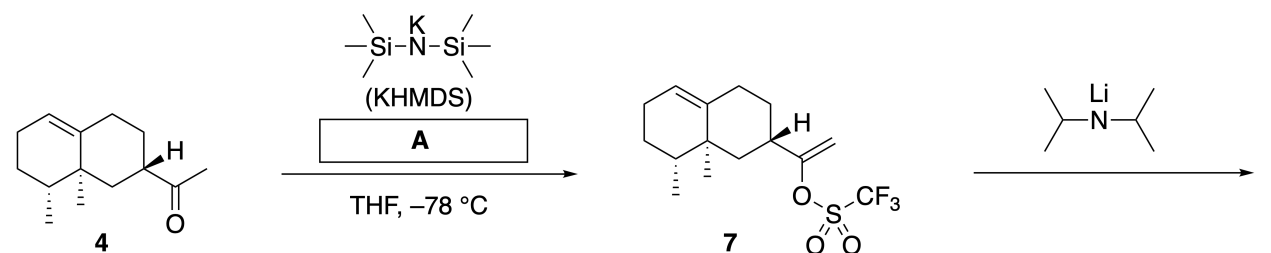
*Inula linariifolia*



**A.1** **Draw** the structures of **2** and **6** and clearly identify the stereochemistry where necessary. 5pt

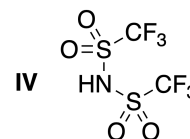
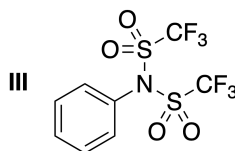
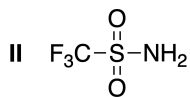
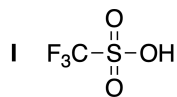
Then, ketone **4** is converted into ester **15**. Compound **8** (molecular weight: 188) retains all the stereocenters in **7**. Compounds **9** and **10** have five stereocenters and no carbon-carbon double bonds. Assume

that  $\text{H}_2^{18}\text{O}$  is used instead of  $\text{H}_2^{16}\text{O}$  for the synthesis of  $^{18}\text{O}$ -labelled-linearifolianones **13** and **14** from **11** and **12**, respectively. Compounds **13** and **14** are  $^{18}\text{O}$ -labelled isotopomers. Ignoring isotopic labelling, both **13** and **14** provide the same product **15** with identical stereochemistry.



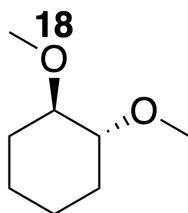
**A.2** Choose the appropriate structure for **A**.

2pt



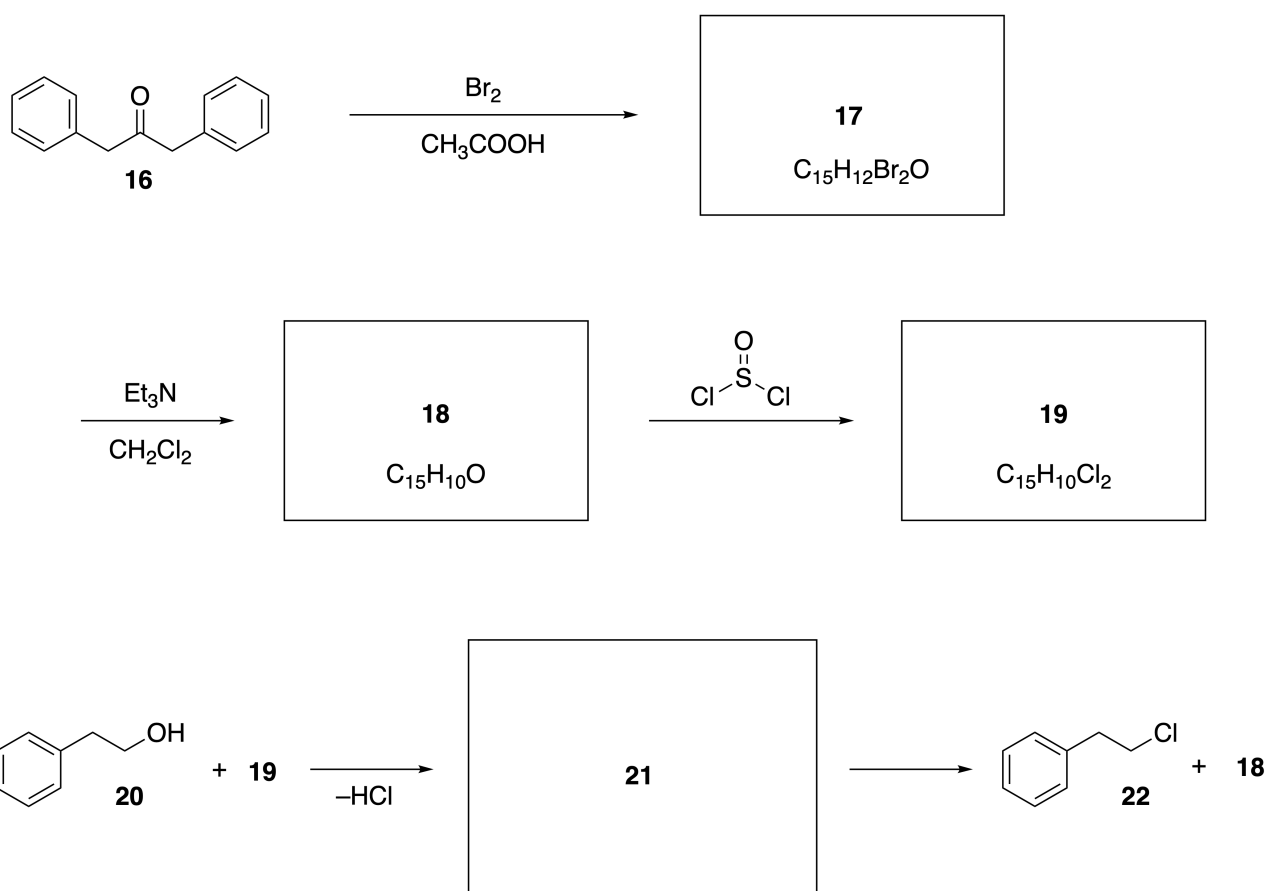
**A.3** Draw the structures of **8-14** and clearly identify the stereochemistry where necessary. Also, indicate the introduced  $^{18}\text{O}$  atoms for **13** and **14** as shown in the example below.

19pt



Part B

Compound **19** is synthesized as shown below. In relation to non-benzenoid aromaticity, **19** can be used as an activator for alcohols, and **20** was converted to **22** via ion-pair intermediate **21**. Although the formation of **21** was observed by NMR, **21** gradually decomposes to give **18** and **22**.



$^1\text{H}$  NMR ( $\text{CD}_3\text{CN}$ , ppm) **20**:  $\delta$  7.4–7.2 (5H), 3.7 (2H), 2.8 (2H), 2.2 (1H)

**21**:  $\delta$  8.5–7.3 (15H), 5.5 (2H), 3.4 (2H)

**B.1** **Draw** the structures of **17–19** and **21**. Identifying the stereochemistry is not necessary. 10pt

## Ароматичность небензоидного типа

Вес: 13%					
Вопрос	A.1	A.2	A.3	B.1	Всего
Очки	5	2	19	10	<b>36</b>
Оценка					

Профессор Нозое (1902–1996) открыл направление исследований ароматических соединений небензоидного типа, которые сейчас широко представлены в органической химии.



Фотография из архива университета Тохоку.

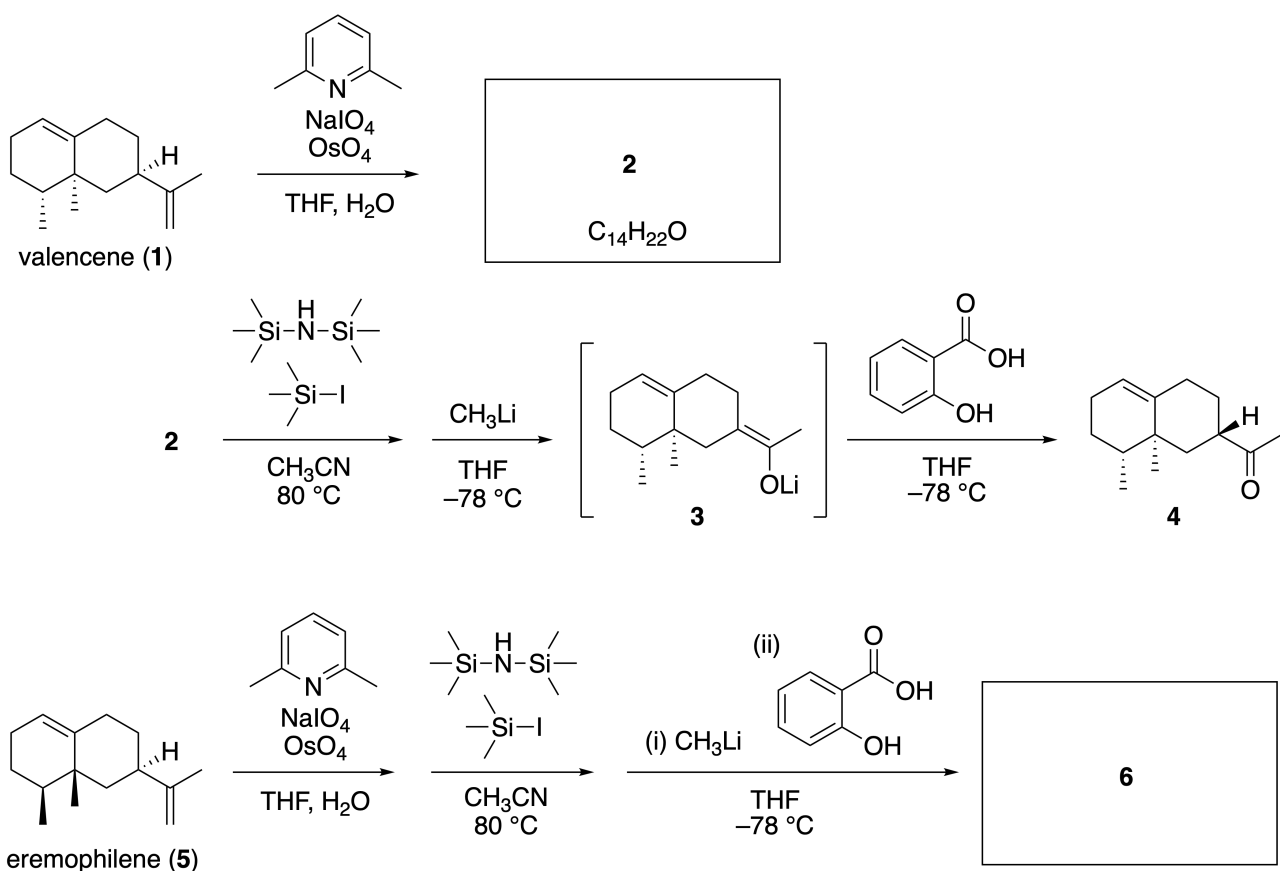
### Часть А

Линеариифолианон, природное соединение с уникальной структурой, был выделен из *Inula linariifolia*. Одностадийное превращение валенсена (**1**) дает **2**, а трехстадийное превращение через интермедиат **3** приводит к кетону **4**. Эремофилен (**5**) превращается в **6** по тому же четырехстадийному пути.





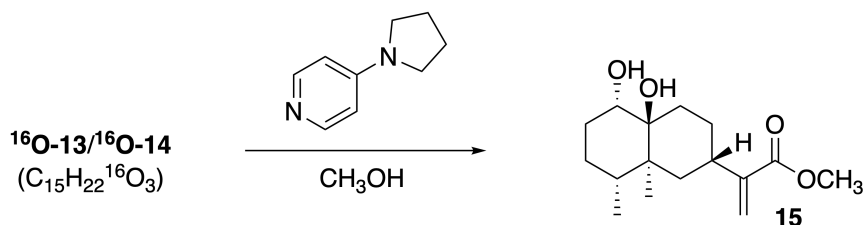
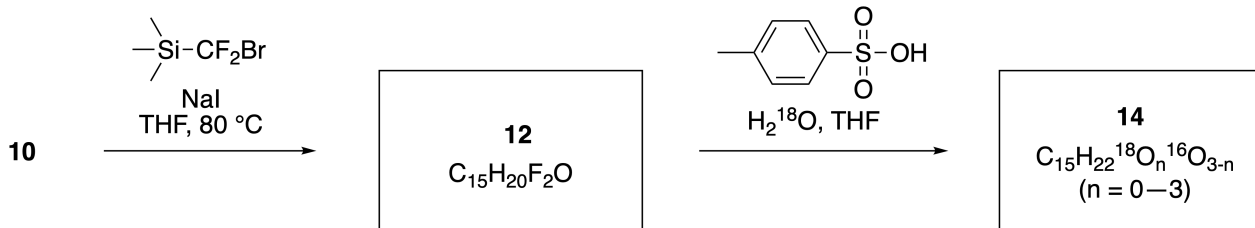
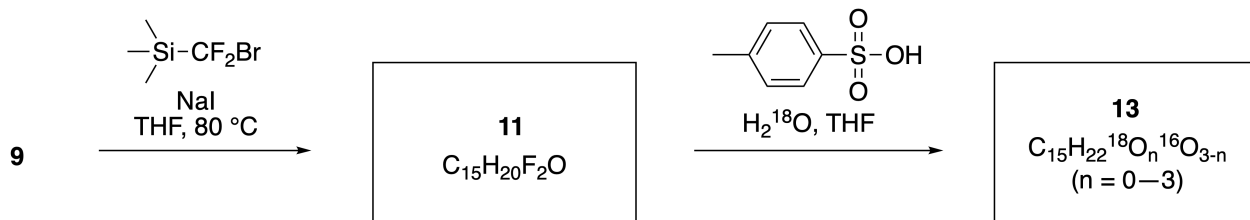
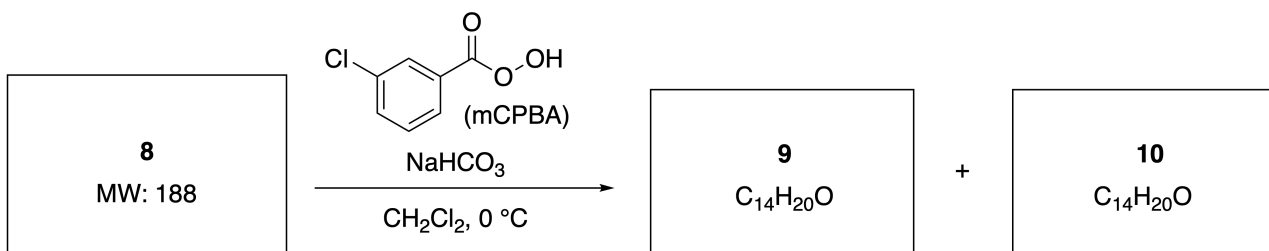
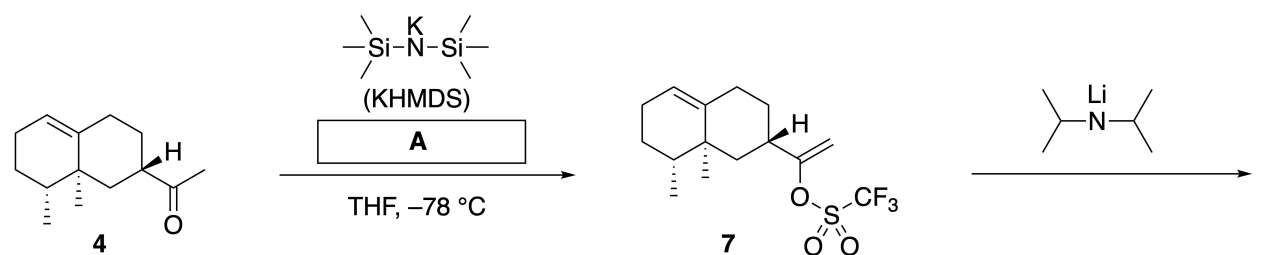
*Inula linariifolia*



**A.1** Изобразите структуры **2** и **6**, четко указывая стереохимию, где это необходимо. 5pt

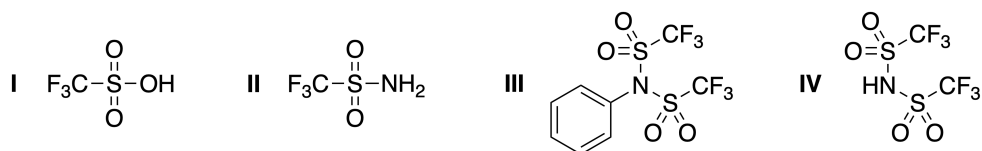
Далее кетон **4** превращается в сложный эфир **15**. В соединении **8** (молекулярная масса: 188) сохраняются все стереоцентры, присутствующие в **7**. Соединения **9** и **10** содержат по 5 стереоцентров и

не содержат двойных связей углерод-углерод. Допустим, что  $\text{H}_2^{18}\text{O}$  используют вместо  $\text{H}_2^{16}\text{O}$  для синтеза  $^{18}\text{O}$ -меченых-линеариофолианонов **13** и **14** из **11** и **12**, соответственно. Соединения **13** и **14** являются  $^{18}\text{O}$ -мечеными изотопомерами. Если не учитывать изотопный состав, **13** и **14** дают один и тот продукт **15** с идентичной стереохимией.

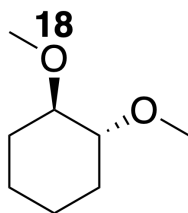


**A.2** Выберите структуру **A**.

2pt

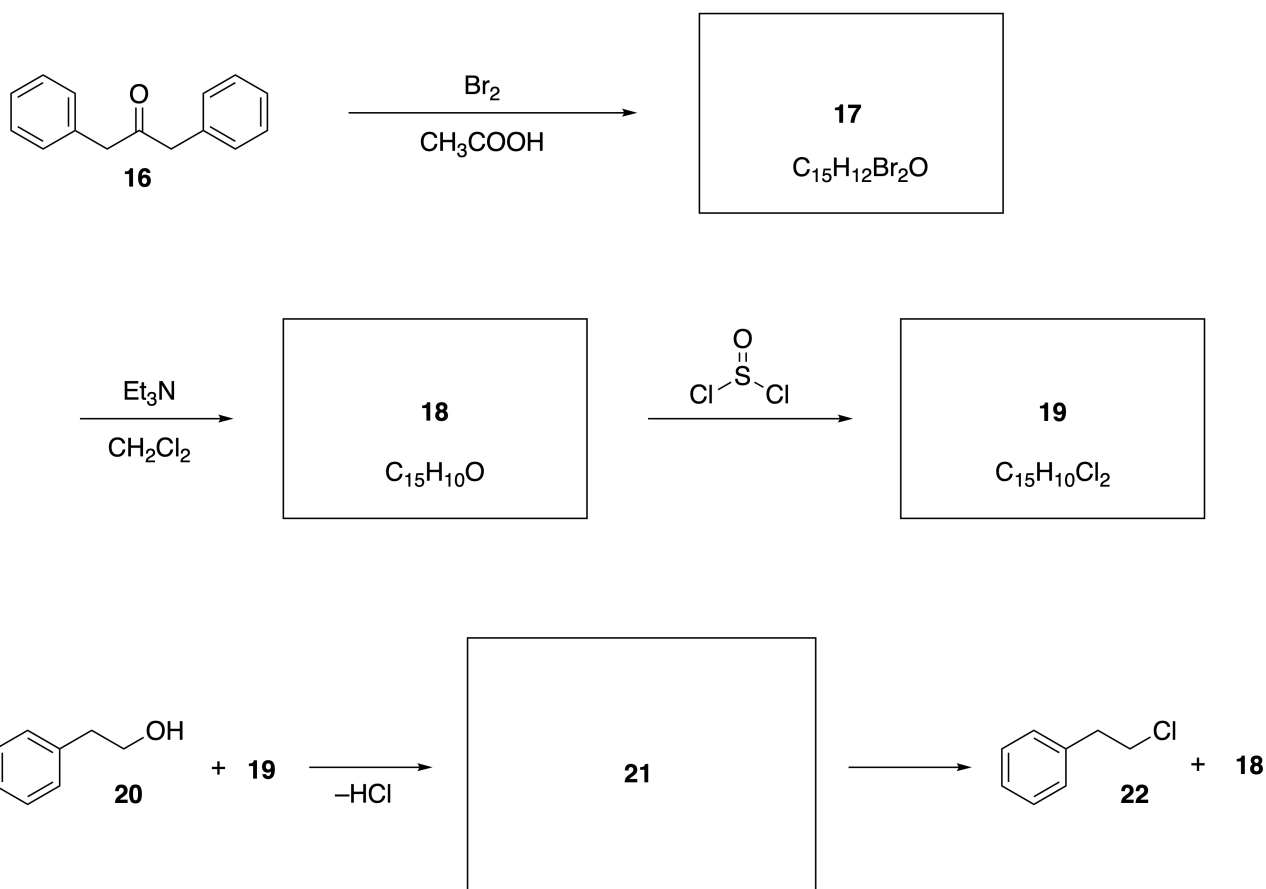


**A.3** Изобразите структуры **8–14**, четко указывая стереохимию, где это необходимо. Также отметьте атомы  $^{18}\text{O}$ , введенные в **13** и **14**, как показано на примере ниже. 19pt



**Часть В**

Соединение **19** синтезируют, как показано ниже. В продолжение обсуждения ароматичности небензоидного типа, **19** может быть использован как активатор спиртов, а **20** был превращен в **22** с образованием интермедиата **21**, представляющего из себя ионную пару. Хотя образование **21** было подтверждено ЯМР спектроскопией, **21** постепенно разлагается, давая **18** и **22**.



$^1\text{H}$  NMR ( $\text{CD}_3\text{CN}$ , ppm) **20**:  $\delta$  7.4–7.2 (5H), 3.7 (2H), 2.8 (2H), 2.2 (1H)

**21**:  $\delta$  8.5–7.3 (15H), 5.5 (2H), 3.4 (2H)

**В.1** **Изобразите** структуры **17–19** и **21**, четко указывая стереохимию, где это необходимо. 10pt



KAZ-4 C-7 A-1

**A7-1**  
Kazakhstani Russian (Kazakhstan)

## Ароматичность небензоидного типа

### Часть А

**A.1** (5 pt)

**2** (2 pt)

**6** (3 pt)

**A.2** (2 pt)



KAZ-4 C-7 A-2

# A7-2

Kazakhstani Russian (Kazakhstan)

**A.3** (19 pt)

**8** (3 pt)



**9** (2 pt)

**10** (2 pt)



**11** (2 pt)

**12** (2 pt)



**13** (4 pt)

**14** (4 pt)



KAZ-4 C-7 A-3

**A7-3**  
Kazakhstani Russian (Kazakhstan)

**Часть В**

**B.1** (10 pt)

**17** (2 pt)

**18** (2 pt)

**19** (3 pt)

**21** (3 pt)

KAZ-4 C-8 C-1

**KAZ-4 C-8 C**  
Sanzhar Bissenali

**ICHO**  
**Problem 8**  
**Cover sheet**

Please return this cover sheet together with all the related question sheets.

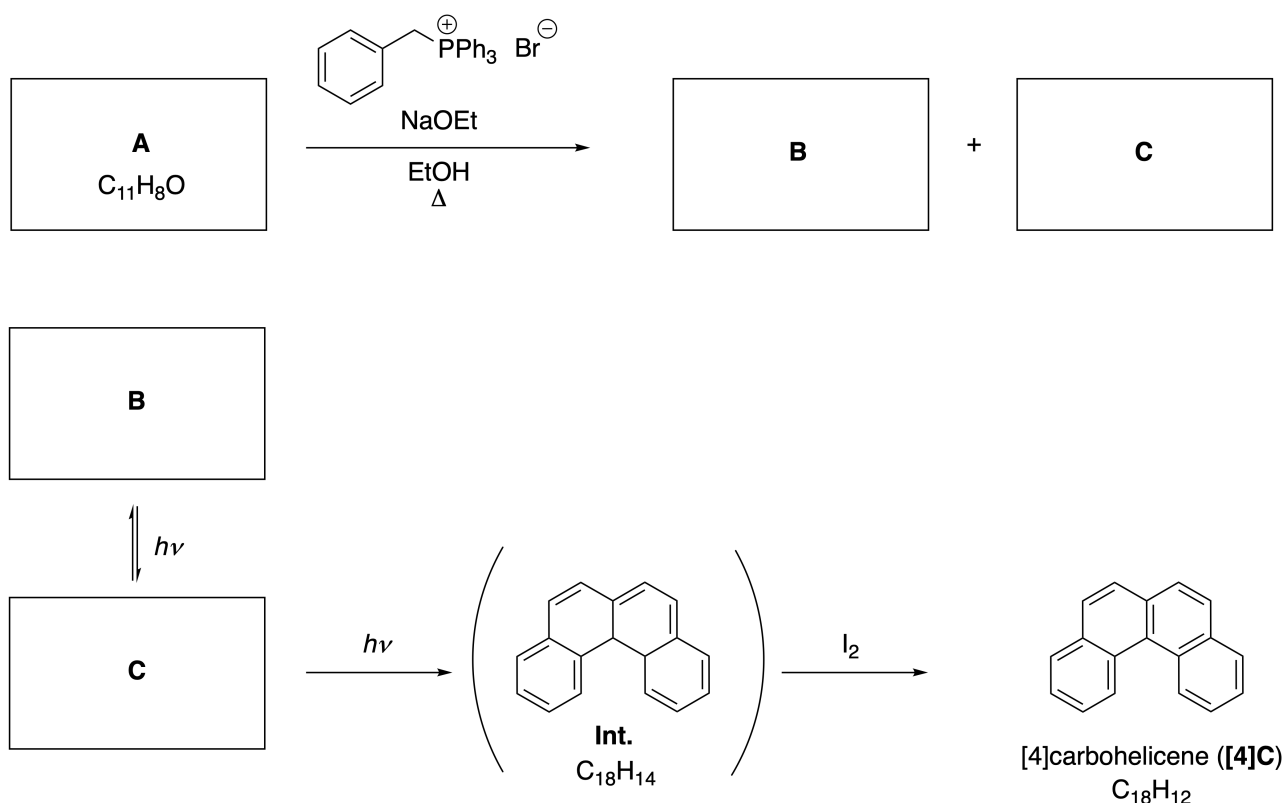


## Dynamic Organic Molecules and Their Chirality

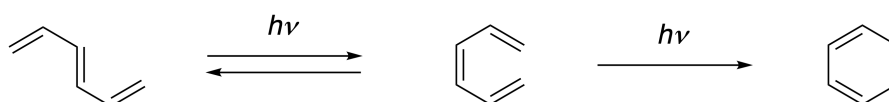
11 % of the total						
Question	A.1	A.2	A.3	B.1	B.2	Total
Points	9	3	7	3	4	<b>26</b>
Score						

### Part A

Polycyclic aromatic hydrocarbons with successive ortho-connections are called [n]carbohelicenes (here, n represents the number of six-membered rings) (see below). [4]Carbohelicene (**[4]C**) is efficiently prepared by a route using a photoreaction as shown below, via an intermediate (**Int.**) that is readily oxidized by iodine.



The photoreaction proceeds in a manner similar to the following example.

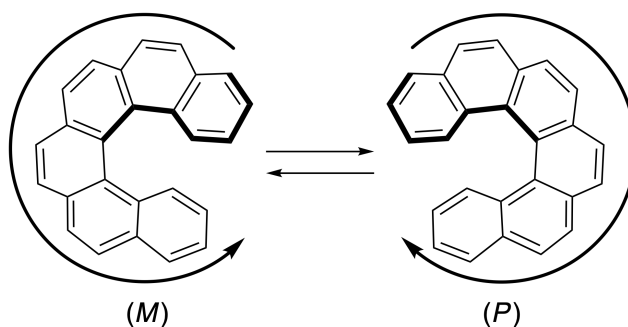


**Note:** For all of Question 8, please draw alternating single and double bonds in your answers to the problems as depicted in the examples of carbohelicene. Do not use circles for conjugated  $\pi$  systems.

**A.1** **Draw** the structures of **A-C**. Stereoisomers should be distinguished. 9pt

**A.2** Attempts to synthesize [5]carbohelicene from the same phosphonium salt and an appropriate starting compound resulted in the formation of only a trace amount of [5]carbohelicene, instead affording product **D** whose molecular weight was 2 Da lower than that of [5]carbohelicene. The  $^1\text{H}$  NMR chemical shifts of **D** are listed below. **Draw** the structure of **D**.  
**[D** ( $\delta$ , ppm in  $\text{CS}_2$ , r.t.), 8.85 (2H), 8.23 (2H), 8.07 (2H), 8.01 (2H), 7.97 (2H), 7.91 (2H)]

[5]- and larger [n]carbohelicenes have helical chirality and interconversion between enantiomers of these helicenes is significantly slow at room temperature. The chirality of [n]carbohelicenes is defined as (*M*) or (*P*) as shown below.



[n]Carbohelicenes with n larger than 4 can be enantiomerically separated by a chiral column chromatography, which was developed by Prof. Yoshio Okamoto.


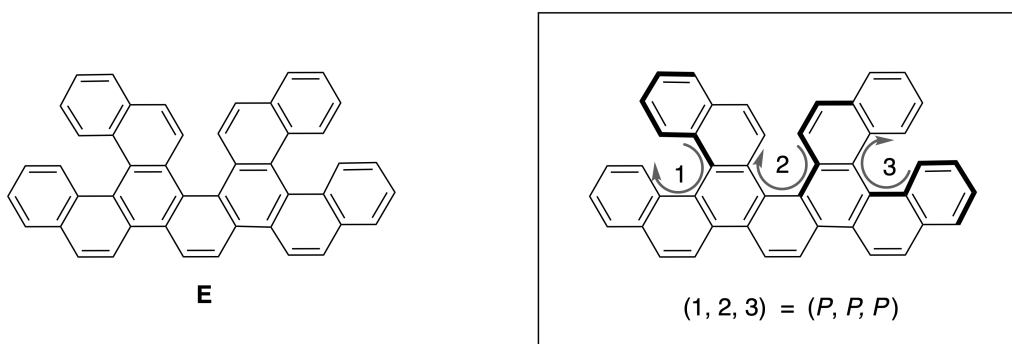
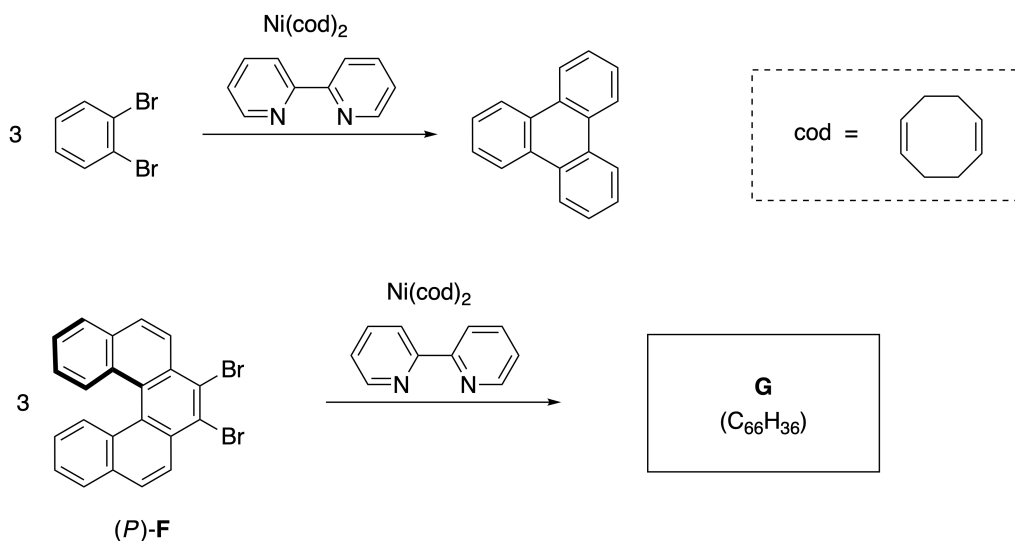


Photo courtesy: The Japan Prize Foundation

Multiple helicenes are molecules that contain two or more helicene-like structures. If its helical chirality is considered, several stereoisomers exist in a multiple helicene. For example, compound **E** contains three [5]carbohelicene-like moieties in one molecule. One of the stereoisomers is described as  $(P, P, P)$  as shown below.

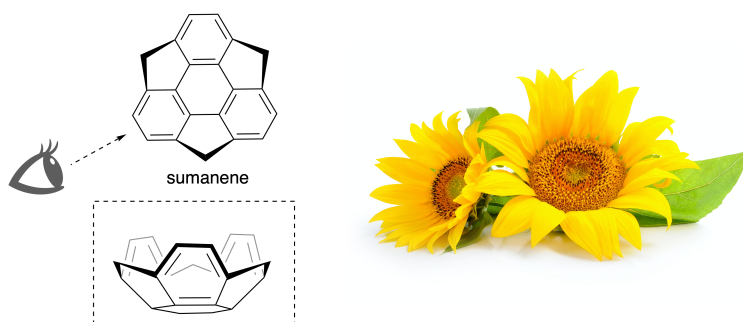


- A.3** The nickel-mediated trimerization of 1,2-dibromobenzene generates triphenylene. When the same reaction is applied to an enantiomer of **F**,  $(P)$ -**F**, multiple helicene **G** ( $C_{66}H_{36}$ ) is obtained. Given that interconversion between stereoisomers does not occur during the reaction, **identify all** the possible stereoisomers of **G** formed in this process, without duplication. As a reference, one isomer should be drawn completely with the chirality defined as in the example above, with numerical labels; the other stereoisomers should be listed with location numbers and *M* and *P* labels according to the same numbering. For instance, the other stereoisomers of **E** should be listed as  $(1, 2, 3) = (P, M, P)$ ,  $(P, M, M)$ ,  $(P, P, M)$ ,  $(M, M, M)$ ,  $(M, M, P)$ ,  $(M, P, P)$ , and  $(M, P, M)$ . 7pt

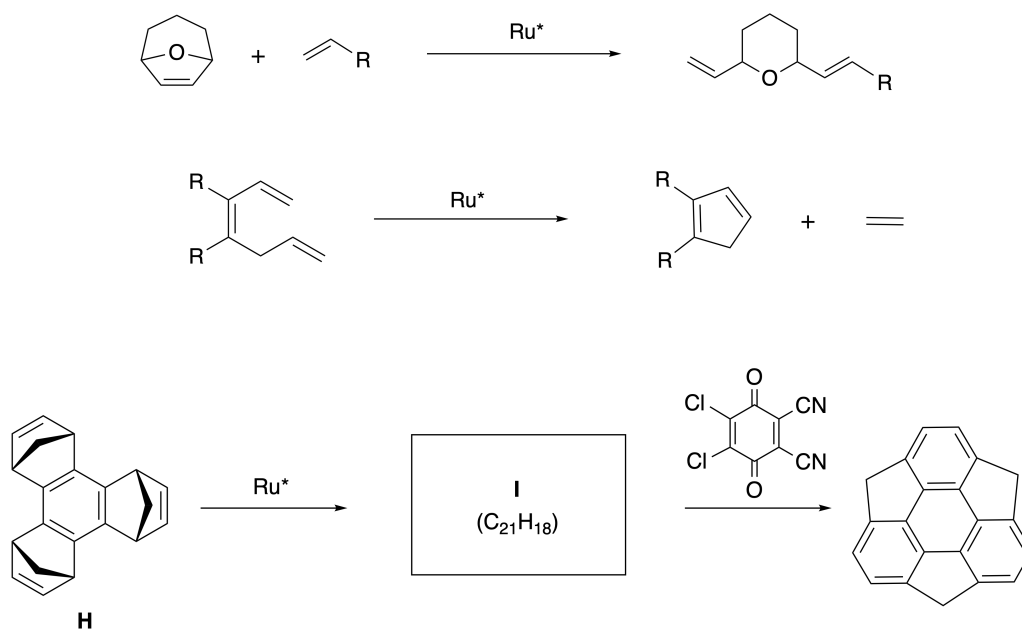


Part B

Sumanene is a bowl-shaped hydrocarbon that was first reported in Japan in 2003. The name "sumanene" derives from a Sanskrit-Hindi word "suman" that means sunflower. The synthesis of sumanene was achieved by a reaction sequence that consists of a ring-opening and a ring-closing metathesis.

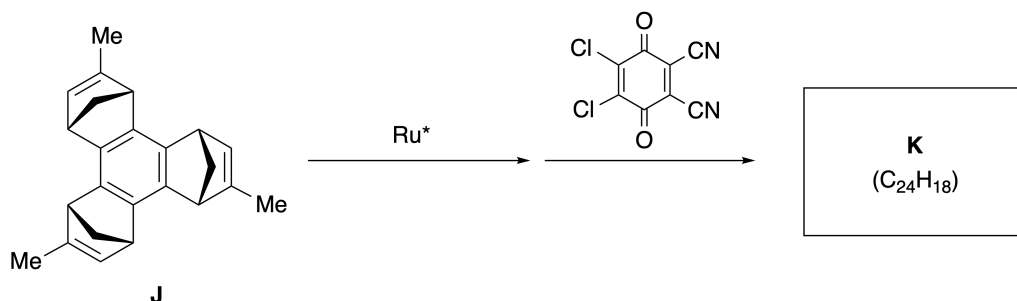


Representative metathesis reactions catalyzed by a ruthenium catalyst ( $\text{Ru}^*$ ) are shown below.



**B.1** Draw the structure of intermediate **I** (its stereochemistry is not required).

3pt



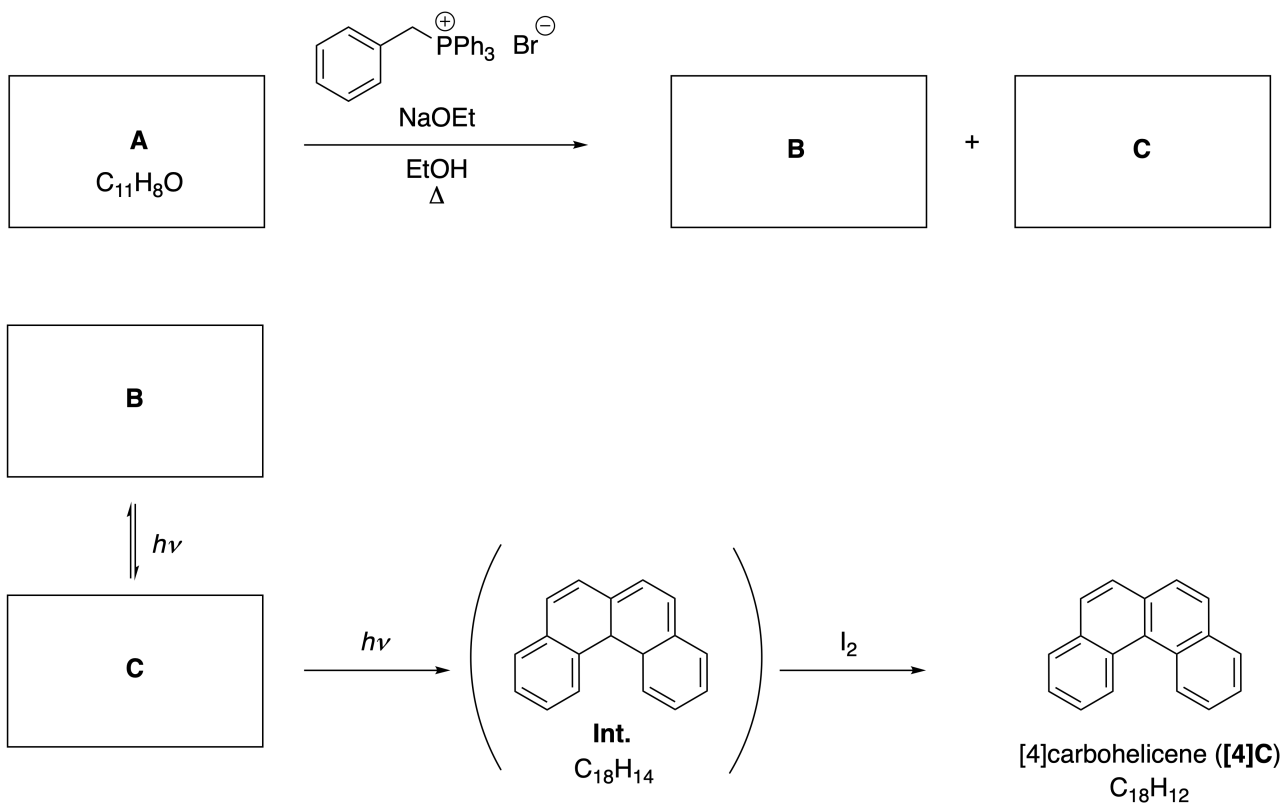
- B.2** Starting from the optically active precursor **J**, the same reaction sequence gives the optically active sumanene derivative **K**. The stereocenters in **J** suffer no inversion during the metathesis reaction. **Draw** the structure of **K** with the appropriate stereochemistry. 4pt

## Динамические органические молекулы и их хиральность

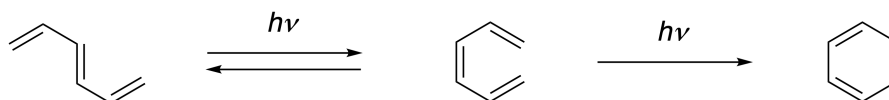
Вес: 11%						
Вопрос	A.1	A.2	A.3	B.1	B.2	Всего
Очки	9	3	7	3	4	<b>26</b>
Оценка						

### Часть А

Полициклические ароматические углеводороды с последовательным орто-сочленением колец называют [n]карбогелиценами (где n обозначает количество шестичленных колец) (смотри ниже). [4]Карбогелицен (**[4]C**) был успешно получен по показанной ниже фотохимической реакции, протекающей через интермедиат (**Int.**), который легко окисляется иодом.



Фотохимическая реакция протекает аналогично следующему примеру:



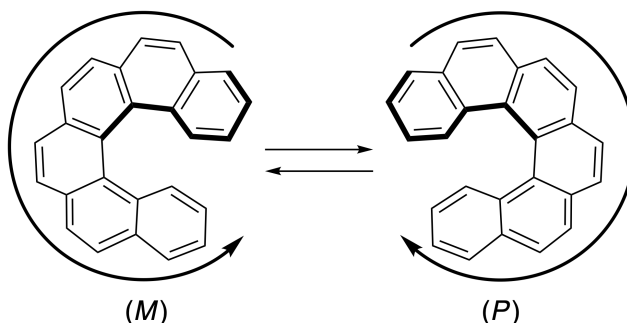
**Внимание:** при ответе на все вопросы Задачи 8 используйте чередующиеся одинарные и двойные связи, как показано в примерах с карбогелиценами. Не используйте кружки для обозначения сопряженных  $\pi$ -систем.

**A.1** Изобразите структурные формулы соединений **A-C**. Stereoisomers 9pt  
должны быть различимы.

**A.2** Попытки синтезировать [5]карбогелицен из той же самой фосфониевой соли и подходящего исходного вещества привели к образованию лишь следовых количеств [5]карбогелицена. Вместо него получался продукт **D**, молекулярная масса которого была на 2 Да меньше, чем у [5]карбогелицена. Ниже приведены химические сдвиги в  $^1\text{H}$  ЯМР спектре вещества **D**. Изобразите структурную формулу вещества **D**. 3pt

[**D** ( $\delta$ , м.д., в  $\text{CS}_2$ , комн. темп.), 8.85 (2H), 8.23 (2H), 8.07 (2H), 8.01 (2H), 7.97 (2H), 7.91 (2H)]

[5]- и более крупные [n]карбогелицены обладают спиральной хиральностью, а взаимное превращение энантиомеров этих гелиценов протекает достаточно медленно при комнатной температуре. Конфигурацию хиральных [n]карбогелиценов обозначают буквам (*M*) и (*P*), как показано ниже.





KAZ-4 C-8 Q-3

# Q8-3

Kazakhstani Russian (Kazakhstan)

[n]Карбогелицены с  $n$  больше 4 могут быть разделены на энантиомеры с помощью хиральной колоночной хроматографии, разработанной профессором Йошио Окамото.


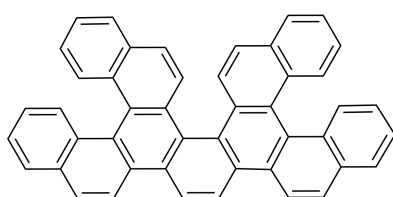
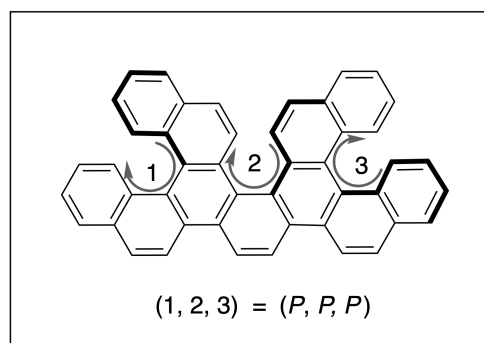


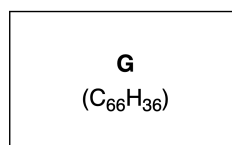
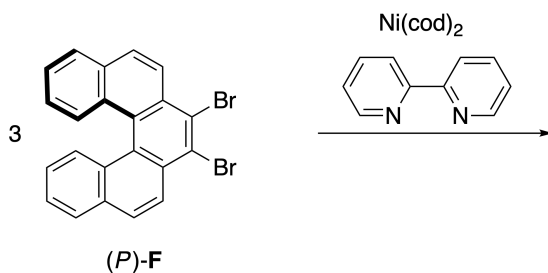
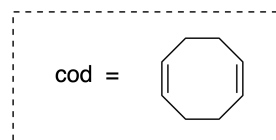
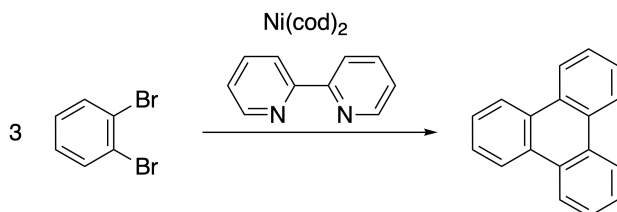
Фото любезно предоставлено The Japan Prize Foundation



Множественными гелиценами называют молекулы, которые содержат два или более гелиценоподобных фрагмента. Наличие спиральной хиральности приводит к тому, что у множественных гелиценов существует несколько стереоизомеров. Например, соединение **E** содержит три [5]карбогелиценовых фрагмента в одной молекуле. Один из стереоизомеров с конфигурацией (*P*, *P*, *P*) показан ниже.


**E**


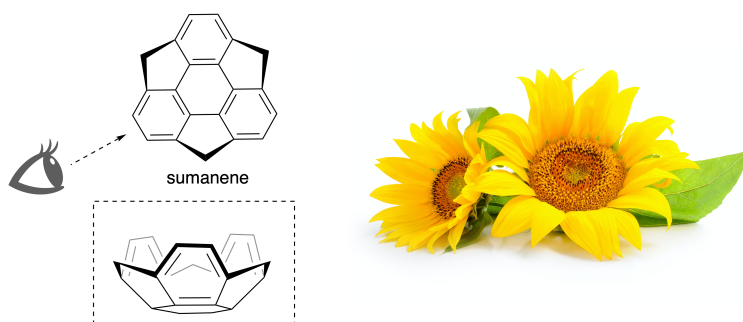
- A.3** Никель-катализируемая тримеризация 1,2-дибромбензола приводит к образованию трифенилена. Если ту же реакцию использовать для одного из энантиомеров **F**, (*P*-**F**), образуется множественный гелицен **G** ( $C_{66}H_{36}$ ). Принимая, что стереоизомеры не могут взаимопревращаться в ходе реакции, **установите все** стереоизомеры **G**, образование которых возможно в данном процессе. Не допускайте повторов. Для справки: один из изомеров должен быть нарисован полностью со стереохимией, обозначенной как в приведенном выше примере, а также числовыми метками; другие стереоизомеры должны быть перечислены с номерами позиций и обозначениями *M* и *P* в соответствии с той же нумерацией. Например, другие стереоизомеры соединения **E** должны быть перечислены как (1, 2, 3) = (*P*, *M*, *P*), (*P*, *M*, *M*), (*P*, *P*, *M*), (*M*, *M*, *M*), (*M*, *M*, *P*), (*M*, *P*, *P*), (*M*, *P*, *M*). 7pt



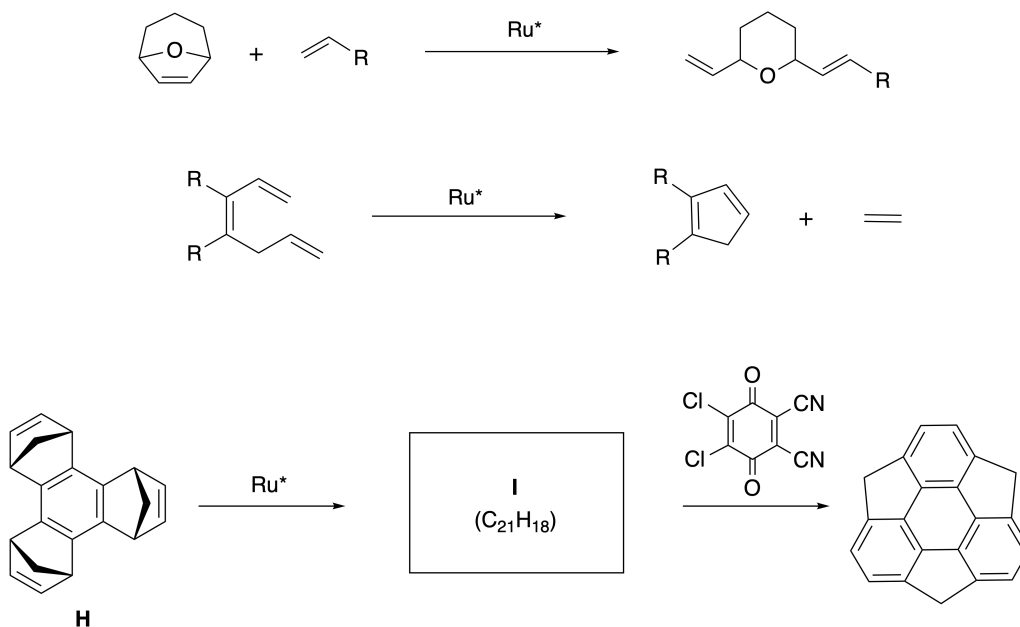
## Часть В

Суманен - это углеводород в форме чаши, о котором впервые сообщили в Японии в 2003 году. Название "суманен" происходит от санскритского "суман" - подсолнух.

Синтез суманена был осуществлен посредством последовательности реакций, включающей метатезис с раскрытием кольца и метатезис с замыканием кольца.

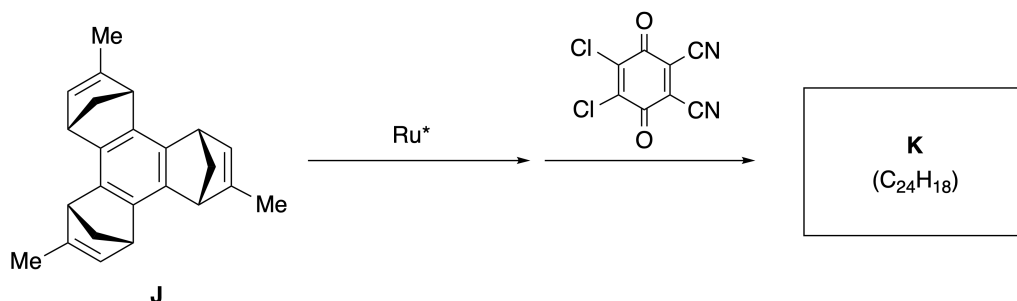


Типичные примеры реакций метатезиса, катализируемых рутениевыми катализаторами ( $\text{Ru}^*$ ), представлены ниже.



**В.1** Изобразите структурную формулу интермедиата **I** (без стереохимии).

3pt



- B.2** Если использовать в качестве исходного вещества оптически активное соединение **J**, то аналогичная последовательность реакций приведет к образованию оптически активного производного суманена **K**. Стереосен­тры в соединении **J** не претерпевают инверсии в ходе реакции метатезиса. Изобразите структурную формулу соединения **K** с указанием стереохимии. 4pt



KAZ-4 C-8 A-1

**A8-1**  
Kazakhstani Russian (Kazakhstan)

## Динамические органические молекулы и их хиральность

### Часть А

**A.1** (9 pt)

**A** (3 pt)

**B** (3 pt)

**C** (3 pt)

**A.2** (3 pt)



KAZ-4 C-8 A-2

**A8-2**  
Kazakhstani Russian (Kazakhstan)

**A.3** (7 pt)



KAZ-4 C-8 A-3

**A8-3**  
Kazakhstani Russian (Kazakhstan)

**Часть В**

**B.1** (3 pt)

**B.2** (4 pt)

KAZ-4 C-9 C-1

**KAZ-4 C-9 C**  
Sanzhar Bissenali

**IChO**  
**Problem 9**  
**Cover sheet**

Please return this cover sheet together with all the related question sheets.

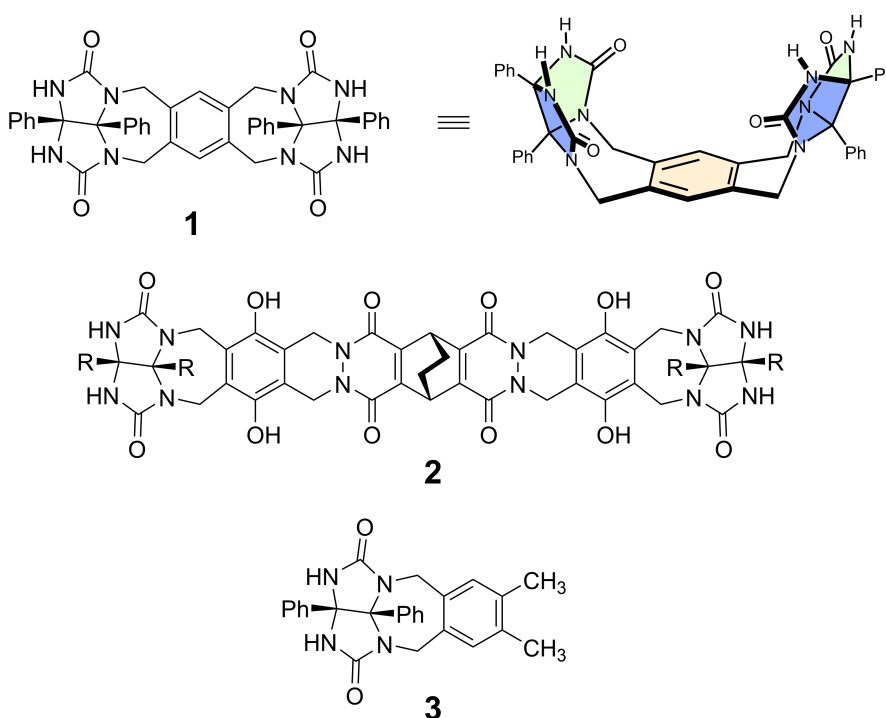
## Likes and Dislikes of Capsule

10 % of the total						
Question	A.1	A.2	A.3	A.4	A.5	Total
Points	13	2	2	3	3	23
Score						

Good kids don't do this, but if you unseam a tennis ball, you can disassemble it into two U-shaped pieces.

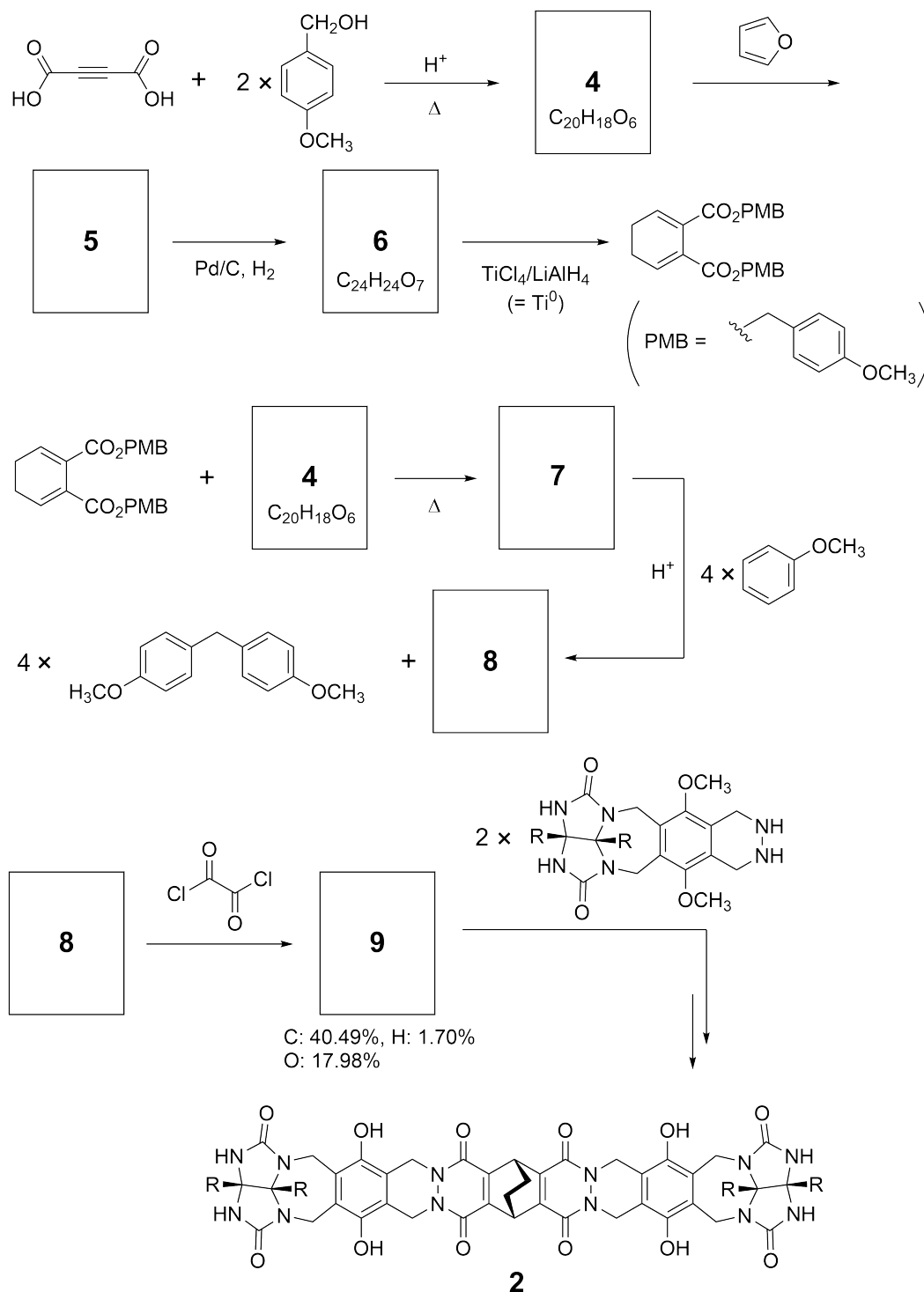


Based on this idea, compounds **1** and **2** were synthesized as U-shaped molecules with different sizes. Compound **3** was prepared as a comparison of **1** and the encapsulation behavior of these compounds was investigated.





The synthetic route to **2** is shown below. The elemental composition of compound **9**: C; 40.49%, H; 1.70%, and O; 17.98% by mass.



**A.1** **Draw** the structures of **4-9**; the stereochemistry can be neglected. Use "PMB" as a substituent instead of drawing the whole structure of *p*-methoxybenzyl group shown in the scheme above. 13pt

In the mass spectrum of **1**, the ion peak corresponding to its dimer (**1<sub>2</sub>**) was clearly observed, whereas an ion peak for **3<sub>2</sub>** was not observed in the spectrum of **3**. In the <sup>1</sup>H NMR spectra of a solution of **1<sub>2</sub>**, all the NH protons derived from **1** were observed to be chemically equivalent, and their chemical shift was significantly different from that of the NH protons of **3**. These data indicate that hydrogen bonds are formed between the NH moieties of **1** and atoms **X** of another molecule of **1** to form the dimeric capsule.

**A.2** **Circle** all the appropriate atom(s) **X** in **1**. 2pt

**A.3** **Give** the number of the hydrogen bonds in the dimeric capsule (**1<sub>2</sub>**). 2pt

The dimeric capsule of **1** ( $1_2$ ) has an internal space wherein an appropriate small molecule Z can be encapsulated. This phenomenon is expressed by the following equation:

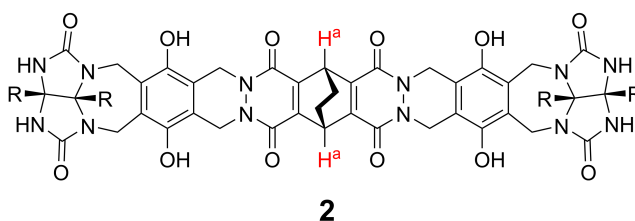


The equilibrium constant of the encapsulation of Z into  $1_2$  is given as below:

$$K_a = \frac{[Z@1_2]}{[Z][1_2]} \quad (2)$$

Encapsulation of a molecule into a capsule could be monitored by NMR spectroscopy. For example,  $1_2$  in  $C_6D_6$  gave different signals in the  $^1H$  NMR spectra before and after addition of  $CH_4$ .

Compound **2** also forms a rigid and larger dimeric capsule ( $2_2$ ). The  $^1H$  NMR spectrum of  $2_2$  was measured in  $C_6D_6$ ,  $C_6D_5F$ , and a  $C_6D_6/C_6D_5F$  solvent mixture, with all other conditions being kept constant. The chemical shifts for the  $H^a$  proton of **2** in the above solvents are summarized below, and no other signals from the  $H^a$  in **2**, except for the listed, were observed. Assume that the interior of the capsule is always filled with the largest possible number of solvent molecules and that each signal corresponds to one species of the filled capsule.



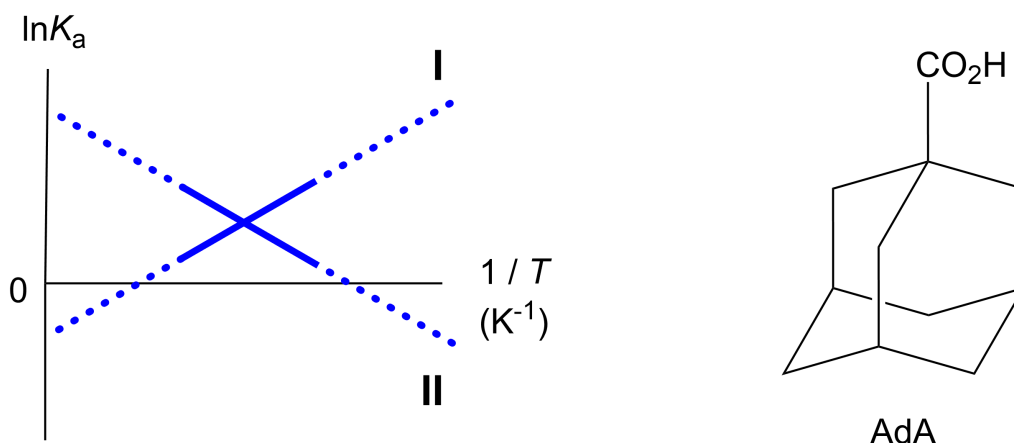
solvent	$\delta$ (ppm) of $H^a$
$C_6D_6$	4.60
$C_6D_5F$	4.71
$C_6D_6 / C_6D_5F$	4.60, 4.71, 4.82

**A.4 Determine** the number of  $C_6D_6$  and  $C_6D_5F$  molecules encapsulated in  $2_2$  giving 3pt each  $H^a$  signal.

$^1\text{H}$  NMR measurements in  $\text{C}_6\text{D}_6$  revealed that  $\mathbf{2}_2$  can incorporate one molecule of 1-adamantanecarboxylic acid (AdA), and the association constants ( $K_a$ ) which are expressed below were determined for various temperatures.  $[\text{solvent@}\mathbf{2}_2]$  denotes a species containing one or more solvent molecules.

$$K_a = \frac{[\text{Z@}\mathbf{2}_2]}{[\text{Z}][\text{solvent@}\mathbf{2}_2]} \quad (3)$$

Similarly, the  $K_a$  values of  $\text{CH}_4$  and  $\mathbf{1}_2$  given as eq (2) at various temperatures in  $\text{C}_6\text{D}_6$  were also determined by  $^1\text{H}$  NMR measurements. The plots of the two association constants (as  $\ln K_a$  vs  $1/T$ ) are shown below.



No  $\text{C}_6\text{D}_6$  molecule is encapsulated in  $\mathbf{1}_2$ . In line **II**, the entropy change ( $\Delta S$ ) is ( 1 ) and enthalpy change ( $\Delta H$ ) is ( 2 ), indicating that the driving force for the encapsulation in line **II** is ( 3 ). Therefore, line **I** corresponds to ( 4 ), and line **II** corresponds to ( 5 ).

**A.5** **Choose** the correct options in gaps (1)-(5) in the following paragraph from A 3pt and B.

	A	B
(1)	positive	negative
(2)	positive	negative
(3)	$\Delta S$	$\Delta H$
(4)	$\mathbf{1}_2$ and $\text{CH}_4$	$\mathbf{2}_2$ and AdA
(5)	$\mathbf{1}_2$ and $\text{CH}_4$	$\mathbf{2}_2$ and AdA

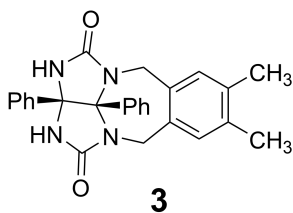
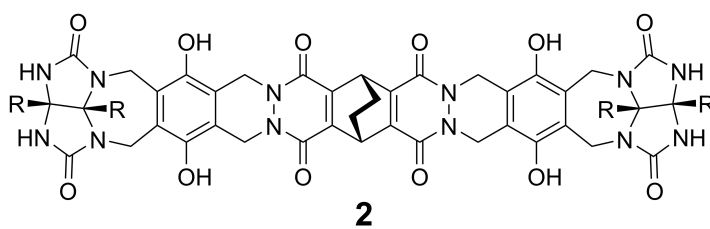
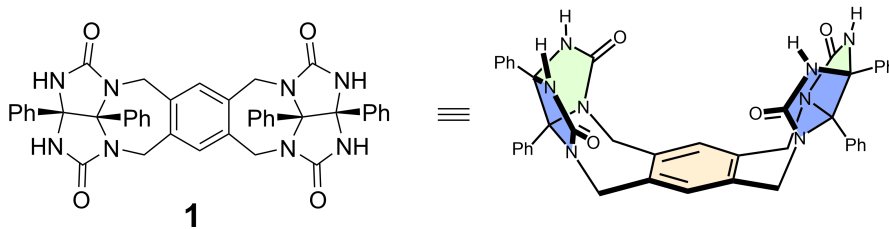
## Что капсулы любят, а что нет

Вес: 10%						
Вопрос	A.1	A.2	A.3	A.4	A.5	Всего
Очки	13	2	2	3	3	<b>23</b>
Оценка						

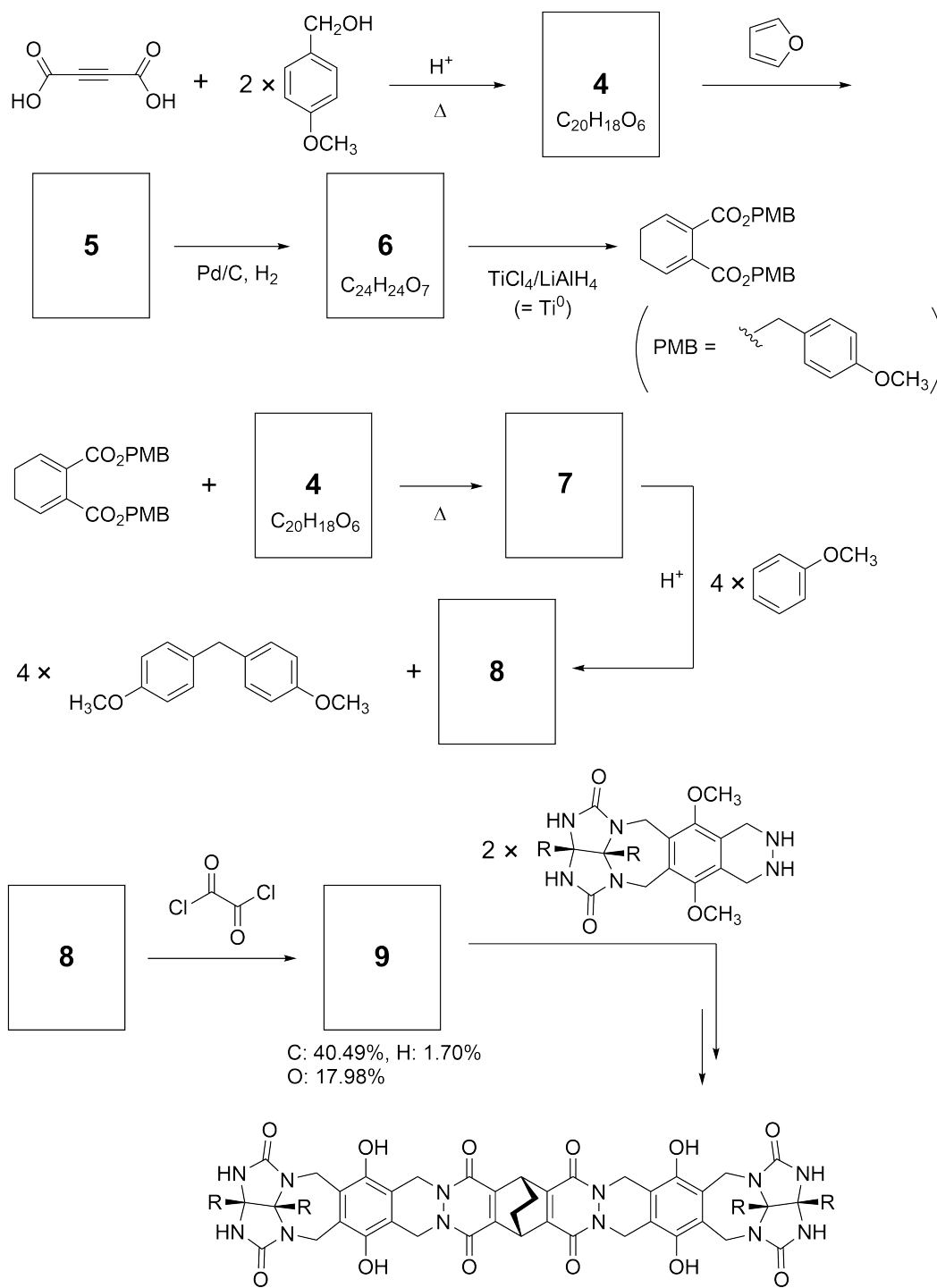
Если вы разрежете теннисный мячик, то сможете разобрать его на две U-образные части (хорошие дети так не делают).



Руководствуясь этой идеей, синтезировали соединения **1** и **2**, являющиеся U-образными молекулами различного размера. Соединение **3** было получено для сравнения с соединением **1**. Было исследовано поведение этих соединений в процессах инкапсулирования.



Путь синтеза соединения **2** приведен ниже. Элементарный состав соединения **9**: C; 40.49%, H; 1.70%, O; 17.98% по массе.





KAZ-4 C-9 Q-4

# Q9-4

Kazakhstani Russian (Kazakhstan)

**A.1** Изобразите структурные формулы соединений **4-9**; стереохимию можно не указывать. Используйте обозначение "PMB" вместо полной структуры *пара*-метоксибензильной группы, как показано в примере выше. 13pt

В масс-спектре соединения **1** пик, соответствующий его димеру ( $1_2$ ), четко виден, в то время как в масс-спектре **3** пик димера  $3_2$  отсутствует. В  $^1\text{H}$  ЯМР спектре раствора  $1_2$ , все NH протоны из **1** являются химически эквивалентными, а их химический сдвиг существенно отличается от химического сдвига NH протонов соединения **3**. Эти данные указывают на наличие водородных связей между группами NH одной молекулы **1** и атомами **X** другой молекулы **1**, образующих вместе димерную капсулу.

**A.2** Обведите кружком все подходящие атомы(атом) **X** в **1**. 2pt

**A.3** Приведите число водородных связей в димерной капсуле ( $1_2$ ). 2pt



Димерная капсула  $1_2$  имеет внутреннее пространство, в которое может быть инкапсулирована малая молекула Z. Это явление можно описать следующим уравнением:

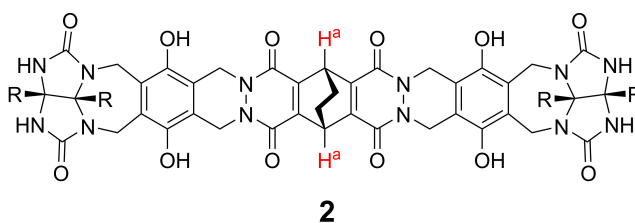


Выражение для константы равновесия процесса инкапсулирования Z в  $1_2$  приведено ниже:

$$K_a = \frac{[Z@1_2]}{[Z][1_2]} \quad (2)$$

Инкапсулирование можно изучать с помощью ЯМР-спектроскопии. Например,  $1_2$  в  $C_6D_6$  дает различные сигналы в  $^1H$  ЯМР спектре до и после добавления  $CH_4$ .

Соединение **2** также образует жесткую димерную капсулу большего размера ( $2_2$ ).  $^1H$  ЯМР спектр  $2_2$  был зарегистрирован в  $C_6D_6$ ,  $C_6D_5F$ , и в смеси растворителей  $C_6D_6/C_6D_5F$ , причем все остальные условия были одинаковы. Химические сдвиги  $H^a$  протонов  $H^a$  в указанных растворителях приведены ниже. Никаких других сигналов протонов  $H^a$  в **2**, кроме перечисленных, не наблюдалось. Считайте, что внутреннее пространство капсулы всегда заполнено максимально возможным числом молекул растворителя, а каждый сигнал соответствует одному из способов заполнения капсулы.



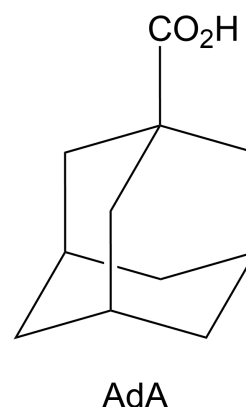
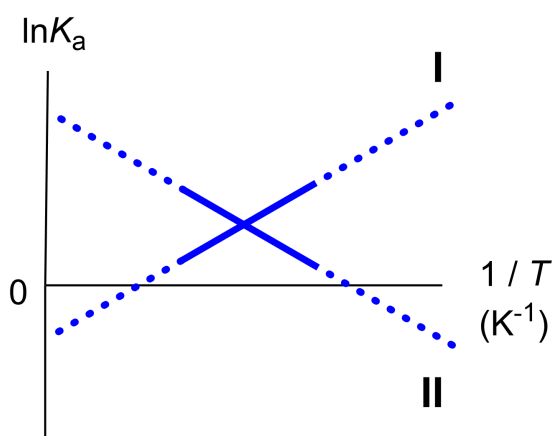
растворитель	$\delta$ (м.д.) $H^a$
$C_6D_6$	4.60
$C_6D_5F$	4.71
$C_6D_6 / C_6D_5F$	4.60, 4.71, 4.82

**A.4** Определите число молекул  $C_6D_6$  и  $C_6D_5F$ , инкапсулированных в  $2_2$ , соответствующее каждому сигналу  $H^a$ . 3pt

$^1\text{H}$  ЯМР измерения в  $\text{C}_6\text{D}_6$  показали, что  $\mathbf{2}_2$  может инкапсулировать одну молекулу 1-адамantanкарбоновой кислоты (AdA). Константа ассоциации ( $K_a$ ), выражение для которой представлено ниже, была измерена при разных температурах. Обозначение  $[\text{solvent@}\mathbf{2}_2]$  соответствует концентрации частиц, содержащих одну или несколько молекул растворителя.

$$K_a = \frac{[\mathbf{Z@}\mathbf{2}_2]}{[\mathbf{Z}][\text{solvent@}\mathbf{2}_2]} \quad (3)$$

Аналогично, значения  $K_a$  для  $\text{CH}_4$  и  $\mathbf{1}_2$  из выражения (2) были измерены при разных температурах в  $\text{C}_6\text{D}_6$  с помощью  $^1\text{H}$  ЯМР спектроскопии. Графики температурной зависимости для двух констант ассоциации (в координатах  $\ln K_a$  от  $1/T$ ) показаны ниже.



$\mathbf{1}_2$  не инкапсулирует молекул  $\text{C}_6\text{D}_6$ . Для линии **II** изменение энтропии  $\Delta S$  (1), изменение энтальпии  $\Delta H$  (2), поэтому движущей силой инкапсулирования для линии **II** является (3). Следовательно, линия **I** соответствует (4), а линия **II** соответствует (5).

**A.5 Выберите** правильные варианты (A или B) из нижеследующей таблицы 3рт для пропусков, обозначенных выше цифрами (1)–(5).

	A	B
(1)	положительно	отрицательно
(2)	положительно	отрицательно
(3)	$\Delta S$	$\Delta H$
(4)	$\mathbf{1}_2$ и $\text{CH}_4$	$\mathbf{2}_2$ и AdA
(5)	$\mathbf{1}_2$ и $\text{CH}_4$	$\mathbf{2}_2$ и AdA



KAZ-4 C-9 A-1

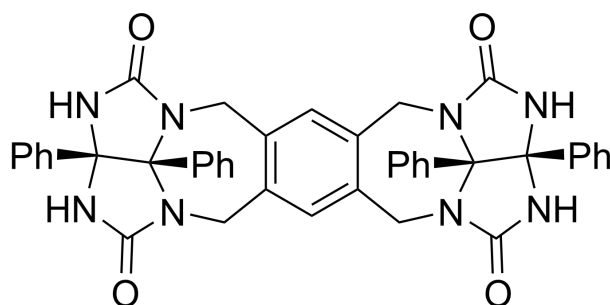
**A9-1**  
Kazakhstani Russian (Kazakhstan)

## Что капсулы любят, а что нет

**A.1** (13 pt)

<b>4</b> (2 pt)	<b>5</b> (3 pt)
<b>6</b> (2 pt)	<b>7</b> (2 pt)
<b>8</b> (2 pt)	<b>9</b> (2 pt)

**A.2** (2 pt)



**A.3** (2 pt)

**A.4** (3 pt)

$\delta$ (м.д.) $H^a$	число молекул $C_6D_6$	число молекул $C_6D_5F$
4.60 м.д.		
4.71 м.д.		
4.82 м.д.		

**A.5** (3 pt)

(1) : \_\_\_\_\_ (2) : \_\_\_\_\_ (3) : \_\_\_\_\_

(4) : \_\_\_\_\_ (5) : \_\_\_\_\_